

School Name: _____

Tehsil: _____ District: _____

Student Name: _____ Section: _____

Roll Number: _____ Date: _____

General Insutrction for Students:

طلبہ کے لیے عمومی ہدایات:

1) Use mask and keep 3 feet distance from each other.

(1) ماسک پہنیں اور آپس میں کم از کم 3 فٹ کا فاصلہ رکھیں۔

2) Read carefully and attempt all questions.

(2) غور سے پڑھیں اور تمام سوالات حل کریں۔

3) Encircle the correct option of each of the Multiple Choice Questions (MCQs) as shown in the example given below.

(3) ہر کثیر الانتخابی سوال کے صحیح جواب پر دائرہ لگائیں جیسا کہ نیچے دی گئی مثال میں دکھایا گیا ہے۔

Example: Which error occurs when the instructions written in a program do not follow the rules of the programming**language?**

مثال: کون سی غلطی اس وقت ہوتی ہے جب پروگرام میں لکھی گئی ہدایات پروگرامنگ زبان کے اصولوں پر عمل نہیں کرتی ہیں۔

(A)

Syntax Error سینیٹیکس ایرر

(B) Logical Error لاجیکل ایرر

(C)

Run-Time Error رن ٹائم ایرر

(D) Keywords کی ورڈز

4) If more than one options are encircled in a question, no mark will be given.

(4) اگر کسی سوال میں ایک سے زیادہ جوابات کے گرد دائرہ لگایا گیا تو کوئی نمبر نہیں دیا جائے گا۔

کل نمبر: 50

حصہ الف (معروضی سوالات)

کل وقت: 1 گھنٹہ

4. یوزر کی ڈاکیومنٹس بنانے، گرافکس بنانے اور گیمز کھیلنے میں مدد کرتا ہے۔

4. _____ helps a user to produce documents, create graphics and play games.

- (A) System software سسٹم سافٹ ویئر
 (B) Application software ایپلیکیشن سافٹ ویئر
 (C) Multimedia software ملٹی میڈیا سافٹ ویئر
 (D) Utility software یوٹیلیٹی سافٹ ویئر

Linux سافٹ ویئر کی ایک مثال ہے۔

5. Linux is an example of _____ software.

- (A) System سسٹم (B) Utility یوٹیلیٹی
 (C) Device Driver ڈیوائس ڈرائیور (D) Application ایپلیکیشن

6. کسی دستاویز میں ٹیکسٹ کاٹنے کے لیے ٹیکسٹ کریں اور کٹ کے بٹن پر کلک کریں یا کی بورڈ پر _____ دبائیں۔

6. To cut the text in a document select the text and click the cut button or press _____ on the keyboard?

- (A) Ctrl + X (B) Ctrl + C
 (C) Ctrl + V (D) Ctrl + P

7. سپلٹ ڈاکیومنٹ کا ہر سیکشن پورے _____ کی کاپی رکھتا ہے۔

7. Each section of a split document contains a copy of the entire

- (A) page صفحہ (B) document ڈاکیومنٹ
 (C) sentence جملہ (D) paragraph پیراگراف

1. پروسیسر مدر بورڈ پر نصب ایک _____ چپ ہے۔

1. Processor is a/an _____ chip fixed on the motherboard.

- (A) electrical الیکٹریکل (B) electro-magnetic الیکٹرو میگنیٹک
 (C) silicon سیلیکون (D) magnetic میگنیٹک

2. مدر بورڈ میں _____ کے اوپر فین لگا ہوا ہوتا ہے۔


2. Fan is plugged on the _____ in motherboard?



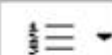





- (A) RAM ریم (B) modem موڈیم
 (C) hard disk ہارڈ ڈسک (D) processor پروسیسر

3. ایک کمپیوٹر پروگرام جو کہ کمپیوٹر کے ہارڈ ویئر اور ایپلیکیشن پروگرام کے چلنے کے لیے ڈیزائن کیا گیا، کہلاتا ہے۔

3. A computer program that is designed to run a computer hardware and application program is called:

- (A) System software سسٹم سافٹ ویئر
 (B) Application software ایپلیکیشن سافٹ ویئر
 (C) Device software ڈیوائس سافٹ ویئر
 (D) Utility software یوٹیلیٹی سافٹ ویئر

16. Text or pictures that appears ----- of the page called Watermarks.
(A) top اور (B) bottom نیچے (C) behind پیچھے (D) front فرنٹ
17. The ----- tab needs to open to split a document in Ms. Word.
(A) home (B) review
(C) view (D) layout
18. ذیل میں دی گئی تصویر کو Review ٹیب سے، پروونگ گروپ میں، ----- بٹن پر کلک کر کے حاصل کیا جاسکتا ہے۔
18. The picture given below can be accessed from the review tab, in the Proofing group, by clicking the ----- button.
- 
- (A) Thesaurus (B) Research
(C) Translate (D) Spelling & Grammar
19. ----- is an example of a Multimedia presentation software.
(A) Excel (B) Power point (C) Word (D) Paint
20. All slide layout contains ----- with dotted borders called placeholders.
(A) lines لائنز (B) boxes باکسز
(C) tables ٹیبلز (D) objects آبجیکٹس
21. A single page of a presentation created in Power Point is called:
(A) Media Page میڈیا پیج (B) Slide سلائیڈ
(C) Worksheet ورک شیٹ (D) Picture تصویر
22. An E-mail address consists of ----- parts.
(A) 1 (B) 2 (C) 3 (D) 4
23. How many domain names, an E-mail address can have?
(A) 1 (B) 3 (C) 4 (D) 5
24. Cc کا مطلب ----- ہے۔
(A) Carbon copy (B) Computer copy
(C) Code copy (D) Content copy
25. Choose ----- option to send a file to your friend via email.
(A) Send (B) Options (C) Save draft (D) Attach

8. Choose the correct shortcut key to copy text from a word document.
(A) Ctrl + X (B) Ctrl + Z (C) Ctrl + C (D) Ctrl + V
9. There are ----- methods of changing fonts.
(A) 1 (B) 2 (C) 3 (D) 4
10. کونسا بٹن Numbering کو شامل کرنے کے لیے استعمال کیا جاتا ہے؟
10. Which of the following button is used to add numbering?
(A)  (B) 
(C)  (D) 
11. Insert ٹیب میں مندرجہ ذیل میں سے کون سا page break بٹن ہے؟
11. In the Insert Tab Which of the following is the Page Break Button?
(A)  (B)  (C)  (D) 
12. ورڈ کمینٹ کو غبارہ یا باکس کی طرح صفحہ کے ----- کی طرف ظاہر کرتا ہے۔
12. Word displays the comment in a balloon or box to the ----- side margin of the page.
(A) right دائیں (B) left بائیں
(C) top اوپر (D) bottom نیچے
13. MS-Word کی کون سی آپشن ہم معنی (مترادف) اور متضاد الفاظ کو تلاش کرنے میں مدد دیتی ہے؟
13. Which option in MS-Word is used to look up Synonyms (different words with same meaning) and Antonyms (words with opposite meaning)?
(A) Find and Replace فائنڈ اینڈ ریپلیس
(B) Thesaurus تصویروس
(C) Copy and Paste کاپی اور پیسٹ
(D) Format Text ٹیکسٹ کی فارمیٹنگ
14. ورڈ پروسیسر میں ٹیکسٹ اور نمبر کو تبدیل کرنے کیلئے شارٹ کٹ کی ----- استعمال کرتے ہیں۔
14. ----- shortcut key is used for replacing text and number in word processor.
(A) Ctrl + F (B) Ctrl + H
(C) Ctrl + C (D) Ctrl + S
15. ڈاکیومنٹ میں منتخب ٹیکسٹ کو بولڈ کرنے کے لیے کی بورڈ سے ----- دبائیں۔
15. To bold the selected text in the document press ----- from the keyboard.
(A) Ctrl + U (B) Ctrl + B (C) Ctrl + B (D) Ctrl + I

School Name: _____

Tehsil: _____ District: _____

Student Name: _____ Section: _____

Roll Number: _____ Date: _____

General Instruction for Students:

طلبہ کے لیے عمومی ہدایات:

1) Use mask and keep 3 feet distance from each other.

(1) ماسک پہنیں اور آپس میں کم از کم 3 فٹ کا فاصلہ رکھیں۔

2) Read carefully and attempt all questions.

(2) غور سے پڑھیں اور تمام سوالات حل کریں۔

3) Encircle the correct option of each of the Multiple Choice Questions (MCQs) as shown in the example given below.

(3) ہر کثیر الانتخابی سوال کے صحیح جواب پر دائرہ لگائیں جیسا کہ نیچے دی گئی مثال میں دکھایا گیا ہے۔

Example: Which error occurs when the instructions written in a program do not follow the rules of the programming language?

مثال: کون سی غلطی اس وقت ہوتی ہے جب پروگرام میں لکھی گئی ہدایات پروگرامنگ زبان کے اصولوں پر عمل نہیں کرتی ہیں۔

(A)

Syntax Error سینیٹیکس ایرر

(B) Logical Error لاجیکل ایرر

(C)

Run-Time Error رن ٹائم ایرر

(D) Keywords کی ورڈز

4) If more than one options are encircled in a question, no mark will be given.

(4) اگر کسی سوال میں ایک سے زیادہ جوابات کے گرد دائرہ لگایا گیا تو کوئی نمبر نہیں دیا جائے گا۔

کل نمبر: 50

حصہ الف (معروضی سوالات)

کل وقت: 1 گھنٹہ

5. ایک ساتھ متعدد پروگراموں اور اپیلی کیشن سافٹ ویئرز کو چلانے کو۔۔۔۔۔ کہا جاتا ہے۔

5. Running multiple programs and application softwares simultaneously is called:

(A) File management فائل مینجمنٹ

(B) Disk Management ڈسک مینجمنٹ

(C) Manage programs پروگراموں کا انتظام

(D) Memory Management میموری مینجمنٹ

6. دستاویز میں کاپی شدہ یا کٹے ہوئے ٹیکسٹ کو پیسٹ کرنے کے لیے کی بورڈ پر۔۔۔۔۔ دبائیں۔

6. To paste the copied or cut text in a document press _____ on the keyboard.

(A) Ctrl + X (B) Ctrl + C (C) Ctrl + V (D) Ctrl + P

7. ورڈ پروسیسر کا مین کام جو ایک یوزر ادا کرتا ہے اسے کہتے ہیں:

7. Main operation in word processors which a user can perform is:

(A) Deleting text ڈیلیٹنگ ٹیکسٹ

(B) Editing text ایڈیٹنگ ٹیکسٹ

(C) Inserting text انسریٹنگ ٹیکسٹ

(D) Aligning text الائننگ ٹیکسٹ

8. ڈاکیومنٹ میں تاریخ اور وقت درج کرنے کے لیے صحیح ربن ٹیب منتخب کریں۔

8. Choose the correct ribbon tab to insert date and time in a document.

(A) Home (B) Insert (C) Review (D) View

1. پروسیسر کا کونسا حصہ کمپیوٹر کے حسابی اور منطقی مسائل حل کرتا ہے؟

1. Which part of processor solves mathematical and logical problems of computer?

(A) ALU (B) CU (C) AU (D) LU

2. یونٹ سی پی یو میں منطقی فیصلے کرتا ہے۔

2. -----unit takes logical decisions in CPU.

(A) System سسٹم (B) Logic لوجیک

(C) Arithmetic ارتھمیٹک (D) Control کنٹرول

3. ایک کمپیوٹر پروگرام جو کمپیوٹر سے منسلک ایک خاص قسم کی ڈیوائس کو کنٹرول کرتا ہے، کہلاتا ہے:

3. A computer program that controls a particular type of device that is attached to a computer is called:

(A) Device Driver ڈیوائس ڈرائیور

(B) Application Software ایپلیکیشن سافٹ ویئر

(C) System software سسٹم سافٹ ویئر

(D) Operating System آپریٹنگ سسٹم

4. کوئی صارف۔۔۔۔۔ کے بغیر کمپیوٹر پر کام نہیں کر سکتا۔

4. A user cannot work on a computer without _____.

(A) Device Driver Software ڈیوائس ڈرائیور سافٹ ویئر

(B) Application Software ایپلیکیشن سافٹ ویئر

(C) System software سسٹم سافٹ ویئر

(D) Utility Software یوٹیلیٹی سافٹ ویئر

17. To add Date and Time in a document click on Date & Time button in the _____ tab.

- (A) References (B) View (C) Review (D) Insert

18. کسی ڈاکیومنٹ میں علامت درج کرنے کے لیے _____ ٹیب میں Symbol کے بٹن پر کلک کریں۔

18. To add a symbol in a document click on the symbol button in the _____ tab.

- (A) References (B) View (C) Review (D) Insert

19. _____ پر پریزنٹیشنز لوگوں کے ایک گروپ کو معلومات دکھانے / پیش کرنے کے لیے استعمال ہوتی ہیں۔

19. _____ presentations are used to present information to a group of people.

- (A) Graphics گرافکس (B) Text ٹیکسٹ
(C) Video ویڈیو (D) Multimedia میڈیا
20. _____ قسمیں ہیں۔

20. There are _____ types of templates.

- (A) 1 (B) 2 (C) 3 (D) 4

21. گرافکس، آڈیو / ویڈیو اور اینیمیشن کے عناصر مجموعی طور پر کیا کہلاتے ہیں؟

21. The elements text, graphics, audio/video, and animations are collectively known as:

- (A) Hypermedia ہائپر میڈیا (B) Multimedia میڈیا
(C) Group media گروپ میڈیا (D) Collective media
22. یوزر کا نام ای میل ایڈریس کا _____ حصہ ہوتا ہے۔

22. Username is the _____ part of an e-mail address.

- (A) first (B) second (C) third (D) fourth

23. ان میں سے کس علامت کو ای میل ایڈریس میں یوزر کا نام اور ڈومین کو علیحدہ کرنے کے لیے استعمال کیا جاتا ہے؟

23. Which of the following symbol is used for separating the user name and domain in the E-mail address?

- (A) - (B) + (C) @ (D) &

24. یاہو میل کی خدمات تک رسائی حاصل کرنے کے لیے آپ کو _____ میں درج کیا جاتا ہے۔

24. To access the services of yahoo mail, you must create an account on _____.

- (A) Google (B) Yahoo (C) Outlook (D) Hotmail

25. پہلے سے طے شدہ طور پر، ای میلز کو ان باکس میں _____ لحاظ سے ترتیب دیا جاتا ہے۔

25. By default, the emails are arranged in inbox folder with respect to the _____.

- (A) Size (B) Subject
(C) Attachment (D) Date & Time



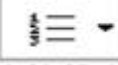

9. ایک یوزر _____ ٹیب کو استعمال کر کے فونٹ کارنگ تبدیل کر سکتا ہے۔

9. A user can change font color using _____ tab?

- (A) Insert (B) Home (C) Review (D) View

10. مندرجہ ذیل میں سے کون سا انکریز انڈینٹ بٹن ہے؟

10. Which of the following is the Increase Indent Button?

- (A)  (B) 
(C)  (D) 

11. Header کو شامل کرنے کے لیے ہیڈر اور فوٹر گروپ میں _____ ٹیب کو منتخب کریں۔

11. To add header click Header button on the _____ tab in the Header & Footer group.

- (A) Page Layout (B) Review
(C) Insert (D) References

12. کون سے کی ایک واحد حرف کو مٹانے کے لیے استعمال ہوتی ہے؟

12. Which key is used to delete a single character?

- (A) Shift شفٹ (B) End اینڈ
(C) Backspace بیک اسپیس (D) Alt آلت

13. ایک _____ کی ترجمانی ایک نوٹ، وضاحت یا یاد دہانی ہو سکتی ہے جو کہ یوزر ڈاکیومنٹ میں شامل کر سکتا ہے۔

13. A _____ can be a note, explanation, or reminder that a user adds to a document.

- (A) Comment کمنٹ (B) Footer فوٹر
(C) Header ہیڈر (D) Watermark واٹر مارک

14. کسی ڈاکیومنٹ میں کوئی خاص لفظ یا فقرے تلاش کرنے کے لیے کی بورڈ سے _____ دبائیں۔

14. To find a particular word or phrase in a document press _____ from keyboard

- (A) Ctrl + A (B) Ctrl + S (C) Ctrl + I (D) Ctrl + F

15. ڈاکیومنٹ میں منتخب ٹیکسٹ کو اٹلیک کرنے کے لیے کی بورڈ سے _____ دبائیں۔

15. To make the selected text, Italic in the document press _____ from the keyboard.

- (A) Ctrl + U (B) Ctrl + B (C) Ctrl + I (D) Ctrl + O

16. واٹر مارک بٹن _____ ٹیب سے حاصل کیا جاسکتا ہے۔

16. Watermark Button can be accessed from _____ tab.

- (A) Page Layout (B) Review
(C) Insert (D) References

17. کسی ڈاکیومنٹ میں تاریخ اور وقت درج کرنے کے لیے _____ ٹیب میں Data & Time والے بٹن پر کلک کریں۔

Q.No.14. Identify the sentence with the correct punctuation.

- a) Aha: What a lovely gift for my birthday?
- b) Aha? What a lovely gift for my birthday.
- c) Aha! What a lovely gift for my birthday.
- d) Aha; What a lovely gift for my birthday.

Q.No.15. Choose the sentence with correct capitalization.

- a) mahmood and murtaza both studied at oxford university, england.
- b) Mahmood and Murtaza both studied at oxford university, england.
- c) Mahmood and Murtaza both studied at Oxford University, England.
- d) mahmood and murtaza both studied at Oxford University, England.

Q.No.16. Choose the sentence that shows personal need.

- a) My neighbour went to visit Malaysia.
- b) I want a bicycle to go to school.
- c) My uncle is coming to see us today.
- d) The market is not far from my house.

Q.No.17. "My sister likes to drive the car _____."

- a) herself
- b) myself
- c) itself
- d) himself

Q.No.18. "My bicycle is _____ than yours."

- a) fast
- b) faster
- c) more fast
- d) the fastest

Q.No.19. How will you accept a friend's request to borrow your bicycle?

- a) Oh! What has happened?
- b) I do not agree with you.
- c) Yes, you may take it.
- d) Thank you for this favour.

**Q.No.20. "Twinkle, twinkle little star,
How I wonder what you are,
Up above the world so high,
Like a diamond in the sky."**

The phrase "like a diamond in the sky" is an example of:

- a) simile
- b) metaphor
- c) alliteration
- d) personification

Paragraph: Read the following paragraph and answer the questions given below.

Pakistan is an agriculture country. Its economy is mainly based on the agriculture. Farmers play the most important role in production of food. They work from dawn till dusk for months. Farming is a difficult profession. First, they dig the land and water it. Then they sow seeds and water the land to help them grow. They make the land suitable for more and better production. It is not an easy task as it looks. It is very hard to stay on land for hours in extreme summer and winter seasons. Farmers sow their hopes and wishes with seeds. The whole family work to get money to fulfil their needs. They provide the nation with food. But they are paid less for their hard work. Farmers are the back bone in the economy of our country.

Q.No.21. Choose the most suitable title for the above paragraph.

- a) Life of a Farmer
- b) Production of Food
- c) The Economy of Pakistan
- d) The Family of a Farmer

Q.No.22. What is the synonym of "Help"?

- a) Grow
- b) Support
- c) Produce
- d) Need

Q.No.23. Who is the backbone of the economy of the country as mentioned in the paragraph?

- a) Children
- b) People
- c) Policemen
- d) Farmers

Q.No.24. What do farmers provide to the nation?

- a) Hopes
- b) Wishes
- c) Food
- d) Education

Q.No.25. Why is land watered after sowing seed?

- a) To get food
- b) To help seeds to grow
- c) To fulfil needs
- d) To get good results

School Name: _____

Tehsil: _____ District: _____

Student Name: _____ Section: _____

Roll Number: _____ Date: _____

General Insutrction for Students:

طلبہ کے لیے عمومی ہدایات:

1) Use mask and keep 3 feet distance from each other.

(1) ماسک پہنیں اور آپس میں کم از کم 3 فٹ کا فاصلہ رکھیں۔

2) Read carefully and attempt all questions.

(2) غور سے پڑھیں اور تمام سوالات حل کریں۔

3) Encircle the correct option of each of the Multiple Choice Questions (MCQs) as shown in the example given below.

(3) ہر کثیر الانتخابی سوال کے صحیح جواب پر دائرہ لگائیں جیسا کہ نیچے دی گئی مثال میں دکھایا گیا ہے۔

Example: Which country is located in north of Pakistan?

مثال: پاکستان کے شمال میں کون سا ملک واقع ہے؟

(A) India بھارت

(B) Afghanistan افغانستان

(C) China چین

(D) Iran ایران

4) Use black/blue ink for writing. Use of lead pencil is not allowed.

(4) لکھنے کے لیے کالی/ نیلی روشنائی کا استعمال کریں۔ کچی پنسل کے استعمال کی اجازت نہیں ہے۔

5) If more than one options are encircled in a question, no mark will be given.

(5) اگر کسی سوال میں ایک سے زیادہ جوابات کے گرد دائرہ لگایا گیا تو کوئی نمبر نہیں دیا جائے گا۔

Total Marks: 50	Multiple Choice Questions	Total Time: 1 Hour
-----------------	---------------------------	--------------------

ہدایات: اس پرچہ میں پچیس (25) کثیر الانتخابی سوالات دیے گئے ہیں۔ ہر سوال کے دو نمبر ہیں۔

Instructions: Twenty-five (25) Multiple Choice Questions (MCQs) are given in this paper. Each question carries two marks.

(C) condensation process عمل تکثیف

(D) oxidation process عمل تکسید

6. زمین حرارت خارج کرتی ہے:

(A) day time دن کے وقت (B) night time رات کے وقت

(C) afternoon شام کے وقت (D) evening سہ پہر کے وقت

7. ایسی ہوائیں جو نیم حاری کثیر بارحلقوں سے خط استوا کی طرف چلتی ہوں کہلاتی ہیں:

8. The winds which blow from subtropical regions towards equator are called:

(A) Subtropical winds نیم حادی ہوائیں

(B) Equator winds خط استوا کی ہوائیں

(C) Eastern winds موسمی ہوائیں (D) Seasonal winds مشرقی ہوائیں

8. کرہ ہوائی میں ----- کی موجودگی رطوبت کہلاتی ہے۔

9. The presence of _____ in atmosphere is called humidity:

(A) Fog دھند (B) Smoke دھواں

(C) Water پانی (D) Toxic Material زہریلا مادہ

9. کپڑے کی صنعت کے لیے خام مال ہے:

10. Raw material for textile industry is:

(A) Cotton کپاس (B) Sugarcane گنا

(C) Wheat گندم (D) Barley مکئی

1. موجودہ براعظموں کی یکجا شکل کہلاتی ہے:

1. The combined form of present continents is called:

(A) ring of fire آگ کا دائرہ (B) ring of fire فالٹ لائن

(C) Pangaea پینجیہ (D) Plates پلیٹیں

2. طبعی طور پر نامیاتی عمل فرسودگی کی وجہ ہے:

2. Biological weathering is due to:

(A) plants پودے (B) air ہوا

(C) animals جانور (D) water پانی

3. چونے کے پتھر کی ٹھکست وریخت میں اہم کردار ہے:

3. The important role in cracking and breaking of limestone is:

(A) Carbonic acid کاربانک تیزاب (B) Sulphuric Acid گندھک تیزاب

(C) Nitric Acid نائٹرک تیزاب (D) Hydrochloric Acid ہائڈروکلورک تیزاب

4. زمین کی زرخیزی کا انحصار ہے:

4. The fertility of soil depends upon:

(A) oxygen آکسیجن (B) carbon کاربن

(C) nitrogen نائٹروجن (D) methane میتھین

5. پانی کا آبی بخارات میں تبدیلی کا عمل ہے:

5. The process in which water converts into vapours is:

(A) reduction process عمل تخفیف

(B) evaporation process عمل تبخیر

10. کوئلہ، چھسٹم اور سنگ مرمر اقسام ہیں:

10. Coal, Gypsum and Marble are examples of:

- (A) فصلوں کی (B) دھاتوں کی
(C) معدنیات کی (D) جواہرات کی

11. دست کار دستی اوزار استعمال کر کے اشیاء بناتے ہیں:

11. Artisans make things by using hand tools in:

- (A) مقامی صنعت میں
(B) چھوٹی صنعت میں
(C) گھریلو صنعت میں
(D) بھاری صنعت میں

12. ملکی حد میں اشیاء درآمد اور خدمات کا حساب کتاب رکھنا کہلاتا ہے:

12. Export of goods and services within the country is known as:

- (A) ملکی تجارت
(B) بین الاقوامی تجارت
(C) توازن تجارت
(D) توازن ادائیگی

13. پاکستان میں استعمال ہونے والے ذرائع آمدورفت ہیں:

13. Means of transportation used in Pakistan are:

- (A) سات (B) پانچ (C) چار (D) دو
14. ظہیر الدین بابر کہاں پیدا ہوئے؟

14. Where did Zaheer-ud-din Babar born?

- (A) ازبکستان (B) تاجکستان
(C) ترکمانستان (D) کازخستان
15. برصغیر میں افسروں کی تبادلہ پالیسی پہلی دفعہ متعارف کروائی:

15. Transfer policy of officers was first time introduced in sub-continent by:

- (A) اسلام شاہ سوری نے
(B) اورنگزیب نے
(C) شیر شاہ سوری نے
(D) فیروز شاہ سوری نے

16. پانی پت کی دوسری جنگ لڑی گئی:

16. Battle of PaniPatt II was fought in:

- (A) 1555 CE میں (B) 1556 CE میں
(C) 1557 CE میں (D) 1558 CE میں

17. دین الہی متعارف کروایا:

17. Deen-e-Elahi was introduced by:

- (A) ظہیر الدین بابر نے
(B) جلال الدین محمد اکبر نے
(C) نصیر الدین نے
(D) غیاث الدین نے

18. پانی پت کی وجہ شہرت تھی:

18. Pani Patt was famous for:

- (A) خوبصورتی (B) جنگلات
(C) جنگیں (D) کاشتکاری

19. اورنگزیب کا جانشین کون تھا؟

19. Who became the successor of Aurangzeb?

- (A) بہادر شاہ اول
(B) محمد اعظم
(C) کام بخش
(D) نصیر الدین

20. اکبر کے دین الہی میں سب سے زیادہ حصہ تھا:

20. The biggest part in Akbar's Din-e- Ilahi was of:

- (A) علی گڑھ تحریک کا
(B) بھگتی تحریک کا
(C) ریشمی رومال تحریک کا
(D) فراہزی تحریک کا

21. فلسفہ وحدت الوجود کے انکار کرنے والے شخصیت کا تعلق تھا:

21. The personality who denied the philosophy of "Wahdat-al-wujud" belongs to:

- (A) عراق سے (B) برصغیر سے
(C) ایران سے (D) فلسطین سے

22. نادر شاہ کا تعلق تھا:

22. Nadir Shah belonged to:

- (A) امیر گھرانے سے
(B) متوسط گھرانے سے
(C) غریب گھرانے سے
(D) شاہی گھرانے سے

23. مغلوں کے دور میں منصب دار کے مرنے کے بعد اس کی جاگیر کا ملک ہوتا تھا:

23. During Mughal period after the death of Mansabdar, the owner of his property was:

- (A) منصب دار کا بیٹا
(B) منصب دار کا جانشین
(C) بیت المال کا مکملہ
(D) مغل بادشاہ

24. بلوچستان کا کون سا ضلع برطانوی دور کا حصہ تھا؟

24. Which district of Baluchistan was part of British era?

- (A) ڈیرہ بگٹی (B) نوشکی
(C) بارکھان (D) سبی

25. حضرت شاہ ولی اللہ کے بعد ان کی تعلیمات کو جاری رکھا:

25. After Shah Wali Ullah R.A his teachings were continued by:

- (A) ان کے مریدین نے
(B) ان کے شاگردوں نے
(C) ان کے بیٹے نے
(D) ان کے چچا نے

School Name: _____

Tehsil: _____ District: _____

Student Name: _____ Section: _____

Roll Number: _____ Date: _____

General Insutrction for Students:

طلبہ کے لیے عمومی ہدایات:

1) Use mask and keep 3 feet distance from each other.

(1) ماسک پہنیں اور آپس میں کم از کم 3 فٹ کا فاصلہ رکھیں۔

2) Read carefully and attempt all questions.

(2) غور سے پڑھیں اور تمام سوالات حل کریں۔

3) Encircle the correct option of each of the Multiple Choice Questions (MCQs) as shown in the example given below.

(3) ہر کثیر الانتخابی سوال کے صحیح جواب پر دائرہ لگائیں جیسا کہ نیچے دی گئی مثال میں دکھایا گیا ہے۔

Example: Which country is located in north of Pakistan?

مثال: پاکستان کے شمال میں کون سا ملک واقع ہے؟

(A) India بھارت

(B) Afghanistan افغانستان

(C) China چین

(D) Iran ایران

4) Use black/blue ink for writing. Use of lead pencil is not allowed.

(4) لکھنے کے لیے کالی/ نیلی روشنائی کا استعمال کریں۔ کچی پنسل کے استعمال کی اجازت نہیں ہے۔

5) If more than one options are encircled in a question, no mark will be given.

(5) اگر کسی سوال میں ایک سے زیادہ جوابات کے گرد دائرہ لگایا گیا تو کوئی نمبر نہیں دیا جائے گا۔

Total Marks: 50	Multiple Choice Questions	Total Time: 1 Hour
-----------------	---------------------------	--------------------

ہدایات: اس پرچہ میں پچیس (25) کثیر الانتخابی سوالات دیے گئے ہیں۔ ہر سوال کے دو نمبر ہیں۔

Instructions: Twenty-five (25) Multiple Choice Questions (MCQs) are given in this paper. Each question carries two marks.

6. درجہ حرارت بڑھنے سے ہوا کا دباؤ ہوتا ہے:

6. Due to rise in temperature air pressure:

(A) decreases کم (B) increases زیادہ

(C) stay moderate متوازن (D) varies متغیر

7. براعظموں کے مشرقی ساحلوں پر بارش کا سبب بننے والی ہوائیں ہیں:

7. The winds that cause rain are on the eastern coasts of the continents are:

(A) subtropical winds نیم حاری ہوائیں

(B) eastern winds مشرقی ہوائیں

(C) equator winds خط استوا کی ہوائیں

(D) western winds مغربی ہوائیں

8. ہوا میں آبی بخارات کے جذب کرنے کی صلاحیت میں کمی کی وجہ ہے:

8. The main reason of less absorbing capacity of water vapour in atmosphere is:

(A) scarcity of rainfall بارشوں کی کمی

(B) decrease in temperature درجہ حرارت میں کمی

(C) decrease in air pressure ہوا کے دباؤ میں کمی

(D) low oxygen level آکسیجن کی کمی

1. زمین کے وسط کی طرف بڑھتے ہوئے درجہ حرارت:

1. Moving towards the centre of earth the temperature:

(A) decreases کم ہو جاتا ہے (B) increases بڑھتا رہتا ہے

(C) fluctuates متوازن ہو جاتا ہے (D) Becomes balance کم زیادہ ہوتا ہے

2. یہ عنصر کٹاؤ کے کارکنان میں شامل نہیں ہے:

2. The factor is not involving erosion:

(A) river دریا (B) glacier گلیشیر

(C) mountain پہاڑ (D) air ہوا

3. عریاں کاری کا پہلا شروع ہونے والا عمل ہے:

3. The first step of denudation is:

(A) weathering عمل فرسودگی (B) mass wasting تودی زیاں

(C) erosion عمل کٹاؤ (D) land sliding لینڈ سلائیڈنگ

4. کرہ ہوائی کی ترکیب میں شامل نہ ہونے والا عنصر ہے:

4. The element excluded in the composition of the atmosphere is:

(A) regular Gases مستقل گیسیں (B) variable Gases تغیر پذیر گیسیں

(C) pollutants آلودگیاں (D) gales آندھیاں

5. اوزون گیس کی موجودگی زمین کی سطح سے زیادہ سے زیادہ بلندی ہے:

5. The utmost height of ozone gas from earth is:

(A) 40 kilometer 40 کلومیٹر (B) 50 kilometer 50 کلومیٹر

(C) 60 kilometer 60 کلومیٹر (D) 70 kilometer 70 کلومیٹر

18. واسکو ڈے گاما تھا:

18. Vasco De Gama was:

- (A) trader تاجر (B) sailor ملاح
(C) historian مورخ (D) commander سپہ سالار

19. اورنگزیب عالمگیر تھا:

19. Aurangzeb Alamger was:

- (A) Son of king Shah Jahan بادشاہ شاہ جہان کا بیٹا
(B) Nephew of king Shah Jahan بادشاہ شاہ جہان کا بھتیجا
(C) Grandson of king Shah Jahan بادشاہ شاہ جہان کا پوتا
(D) Brother of king Shah Jahan بادشاہ شاہ جہان کا بھائی

20. مغل دور میں زیر کاشت رقبہ کا ریکارڈ رکھنا ذمہ داری تھی:

20. In Mughal era the maintenance of the records of cultivated land was the responsibility of:

- (A) Dewaan دیوان کی (B) Qanoongo قانون گوئی
(C) Kotwal کوتوال کی (D) Patwari پٹواری کی

21. مغلوں کے صوبائی نظام میں اہم اور بنیادی انتظامی اکائی تھی:

21. The important and basic unit in Mughal's provincial administration was:

- (A) Dewaan دیوان (B) Bakhshi بخش
(C) Pargana پرگنہ (D) Shaqdran شقدران

22. سراج الدولہ کی فوج کا سپہ سالار تھا:

22. The commander of Siraj.Ud.Daulah's army was:

- (A) Meer Jaffar میر جعفر (B) Meer Sadiq میر صادق
(C) Meer Qasim میر قاسم (D) Meer Khadim میر خادم

23. ایسٹ انڈیا کمپنی کے قیام کا ظاہری مقصد تھا:

23. The apparent purpose of establishing East India Company was:

- (A) public welfare عوامی فلاح و بہبود (B) trade تجارت کرنا
(C) occupy India ہندوستان پر قبضہ
(D) promotion of tourism سیاحت کا فروغ

24. جنگ آزادی کے بعد زیادہ تر انتظامی کارروائیوں کا نشانہ بنے:

24. The main target of vengeance after the war of Independence was:

- (A) Sikhs سکھ (B) Muslims مسلمان
(C) Hindus ہندو (D) Christians عیسائی

25. ”شیر کی ایک دن کی زندگی گیدڑ کی سوسالہ زندگی سے بہتر ہے“ مقولہ ہے:

25. One day life of lion is better than the hundred year's life of Jackal” is the saying of:

- (A) Haider Ali حیدر علی کا (B) Tipu Sultan ٹیپو سلطان کا
(C) Ahmad Shah Abdali احمد شاہ ابدالی کا
(D) Nadir Shah نادر شاہ کا

9. زیر زمین تازہ پانی کے حصول کا قدیم ترین ذریعہ ہے:

9. The most ancient way of acquiring underground water is:

- (A) springs چشمے (B) wells کنویں
(C) tube wells ٹیوب ویل (D) kareez کاریز

10. توانائی کا سب سے سستا ترین اور آسان ترین ذریعہ ہے:

10. The cheapest and easiest source of energy is:

- (A) Hydro power ہائیڈرو پاور (B) Atomic power ایٹمی پاور
(C) Solar power سولر پاور (D) Wind power ہوائی بجلی

11. صنعت میں استعمال ہونے والی توانائی کا انحصار ہے:

11. The Energy used in industries depends upon:

- (A) Buildings عمارت پر (B) Vehicles گاڑیوں پر
(C) Machinery مشینری پر (D) Raw material خام مال پر

12. پاکستان خود کفیل ہے:

12. Pakistan is self-sufficient in:

- (A) Chemical products کیمیائی اشیاء میں
(B) Industrial products صنعتی اشیاء میں
(C) Defence products دفاعی اشیاء میں
(D) Agriculture products زراعتی اشیاء میں

13. دنیا میں استعمال ہونے والے ذرائع آمد و رفت کا انحصار ہوتا ہے:

13. Means of transportation used in the world depends upon:

- (A) size of areas علاقہ کے حجم پر
(B) size of population آبادی کے حجم پر
(C) size of traffic ٹریفک کے حجم پر
(D) size of business کاروبار کے حجم پر

14. برصغیر میں سب سے پہلے فلاحی ریاست کا تصور دیا:

14. First time the concept of welfare state in subcontinent was given by:

- (A) Babar بابر نے (B) Humayun ہمایوں نے
(C) Sher Shah Suri شہر شاہ سوری نے (D) Akbar اکبر نے

15. پانی پت ہندوستان کے صوبہ میں واقع ہے:

15. PaniPatt is located in Indian province

- (A) Punjab پنجاب میں (B) Bihar بہار میں
(C) Madhia مدھیہ میں (D) Orissa اڑیسہ میں

16. شاہ جہان نے اپنا ولی عہد کے لیے نامزد کیا:

16. Shah Jahan appointed his crown prince to:

- (A) Aurangzaib اورنگزیب کو (B) Murad مراد کو
(C) DaraShikoh دارا شکوہ کو (D) Shuja شجاع کو

17. جہانگیر کی وجہ شہرت تھی:

17. Jahangir was famous for his:

- (A) poetry شاعری (B) justice انصاف
(C) bravery شجاعت (D) architecture فن تعمیر

Part-A: 30 Marks, Part-B (Nazra Quran): 20 Marks, Total: 50 Marks

School Name: _____

Tehsil: _____ District: _____

Student Name: _____ Section: _____

Roll Number: _____ Date: _____

General Insutrction for Students:

طلبہ کے لیے عمومی ہدایات:

1) Use mask and keep 3 feet distance from each other.

(1) ماسک کا استعمال کریں اور 3 فٹ کا فاصلہ رکھیں۔

2) Read carefully and attempt all questions.

(2) غور سے پڑھیں اور تمام سوالات حل کریں۔

3) Encircle the correct option of each of the Multiple Choice Questions (MCQs) as shown in the example given below.

(3) ہر کثیر الانتخابی سوال کے صحیح جواب پر دائرہ لگائیں جیسا کہ نیچے دی گئی مثال میں دکھایا گیا ہے۔

Example: How many Salah are obligatory for Muslims in a day?

مثال: مسلمانوں پر روزانہ کتنی نمازیں فرض ہیں؟

(A) Four چار

(B) Three تین

(C) Five پانچ

(D) Six چھ

4) If more than one options are encircled in a question, no mark will be given.

(4) اگر کسی سوال میں ایک سے زیادہ جوابات کے گرد دائرہ لگایا گیا تو کوئی نمبر نہیں دیا جائے گا۔

Total Marks: 30

Part-A (Multiple Choice Questions)

Total Time: 45 Minutes

ہدایات: اس حصہ میں پندرہ (15) کثیر الانتخابی سوالات دیے گئے ہیں۔ ہر سوال کے دو نمبر ہیں۔

Instructions: Fifteen (15) Multiple Choice Questions (MCQs) are given in this paper. Each question carries two marks.

5. قبیلہ بنو خزاعہ صلح حدیبیہ کے بعد حلیف بن گیا:

5. The Banu Khuza'ah tribe became allies after the Peace Treaty of Hudaibiya with:

(A) Muslims مسلمانوں کا (B) Quraish-e-Makkah مکہ قریش

(C) Jews یہودیوں کا (D) Banu Bakr بنو بکر

6. سورة النصر میں رسول اللہ صَلَّى اللهُ عَلَيْهِ وَعَلَى آلِهِ وَأَصْحَابِهِ وَسَلَّمَ کو اشارہ دیا گیا:

6. In Surah An-Nasr, Rasoolullah صَلَّى اللهُ عَلَيْهِ وَعَلَى آلِهِ وَأَصْحَابِهِ وَسَلَّمَ was given hint of:

(A) migration ہجرت کا (B) Hajj حج کا

(C) death وصال کا (D) Umra عمرہ کا

7. رسول اللہ صَلَّى اللهُ عَلَيْهِ وَعَلَى آلِهِ وَأَصْحَابِهِ وَسَلَّمَ نے کس سن ہجری میں حج ادا کیا؟

7. In which Hijri year did Rasoolullah صَلَّى اللهُ عَلَيْهِ وَعَلَى آلِهِ وَأَصْحَابِهِ وَسَلَّمَ perform Hajj?

(A) eight hijri آٹھ ہجری (B) nine hijri نو ہجری

(C) ten hijri دس ہجری (D) eleven hijri گیارہ ہجری

8. رسول اللہ صَلَّى اللهُ عَلَيْهِ وَعَلَى آلِهِ وَأَصْحَابِهِ وَسَلَّمَ نے صحابہ کرام رضی اللہ تعالیٰ عنہم کو آخری نماز پڑھائی:

8. The last Salah offered by Rasoolullah صَلَّى اللهُ عَلَيْهِ وَعَلَى آلِهِ وَأَصْحَابِهِ وَسَلَّمَ as Imam to Sahaba Kiram رضی اللہ تعالیٰ عنہم was:

(A) Zuhr ظہر (B) Asr عصر (C) Maghrib مغرب (D) Isha عشاء

1. انبیاء کرام علیہم السلام کی لم ویش تعداد ہے:

1. The number of Ambiya السلام is approximately:

(A) one lac twenty thousand ایک لاکھ بیس ہزار

(B) one lac twenty two thousand ایک لاکھ بائیس ہزار

(C) one lac twenty four thousand ایک لاکھ چوبیس ہزار

(D) one lac twenty six thousand ایک لاکھ چھبیس ہزار

2. دعا کا لفظی معنی ہے:

2. The literal meaning of Dua is to:

(A) call out نکارنا (B) bestow عطا کرنا

(C) forgive معاف کرنا (D) purify پاک کرنا

3. دعا کے آداب میں شامل ہے:

3. The etiquettes of Dua Include:

(A) praying after making ablution با وضو ہو کر دعا مانگنا

(B) praying while lying down لیٹ کر دعا مانگنا

(C) praying after taking a bath غسل کر کے دعا مانگنا

(D) praying while walking چلتے پھرتے دعا مانگنا

4. مال و دولت پاک ہو جاتا ہے:

4. Wealth purifies by:

(A) offering Salah نماز پڑھنے سے

(B) observing Soam روزہ رکھنے سے

(C) Paying Zakat زکوٰۃ ادا کرنے سے

(D) by doing Jihad جہاد کرنے سے

SCHOOL BASED ASSESSMENT 2021
GRADE 7
ISLAMIAT PART – B (Nazra Quran)
Total Marks:20

1- حفظ: (سورۃ الضحیٰ، سورۃ الزلزال، سورۃ القارعہ) (10 نمبر)

ہدایات برائے ممتحن: ہر پچھ سے مذکورہ بالا سورتوں میں سے کوئی ایک سورت زبانی سنی جائے۔

Rubrics:

1- تجوید کے اصولوں (رموز اوقاف، حرف کے مخارج، مد، غنہ اور قلقلہ) کو مد نظر رکھتے ہوئے روانی اور حروف کی درست ادائیگی کے ساتھ بلند آواز میں درج بالا نصاب میں سے کوئی ایک سورت زبانی سنانے پر 10 نمبر دیے جائیں۔

2- ہچکچاہٹ کے ساتھ رک رک کر لیکن درست زبانی سنانے پر 9 نمبر دیے جائیں۔

3- صرف تلفظ کی غلطیوں کے ساتھ پڑھنے کی صورت میں 5 تا 8 نمبر دیے جائیں۔

4- تلفظ کی غلطیوں کے ساتھ ساتھ لفظی غلطیوں یا حروف حذف کرنے کی صورت میں 1 تا 4 نمبر دیے جائیں۔

5- بالکل غلط یا نہ سنانے پر صفر نمبر دیا جائے۔

2. حفظ وترجمہ: (10=5+5 نمبر)

(سورۃ البقرۃ، آیت: 286؛ سورۃ طہ، آیت: 25 تا 28)

ہدایات برائے ممتحن: ہر پچھ سے درج بالا نصاب میں سے کسی ایک کو ترجمہ کے ساتھ زبانی سنا جائے۔

Rubrics: برائے حفظ (5 نمبر)

1. درج بالا نصاب میں سے کسی ایک کو تجوید کے اصولوں (رموز اوقاف، حروف کے مخارج، مد، غنہ اور قلقلہ) کو مد نظر رکھتے ہوئے روانی اور حروف کی درست ادائیگی کے ساتھ بلند آواز میں زبانی سنانے پر 5 نمبر دیے جائیں۔

2. ہچکچاہٹ کے ساتھ رک رک کر لیکن درست زبانی سنانے پر 4 نمبر دیے جائیں۔

3. صرف تلفظ کی غلطیوں کے ساتھ پڑھنے کی صورت میں 3 نمبر دیے جائیں۔

4. تلفظ کی غلطیوں کے ساتھ ساتھ لفظی غلطیوں یا حروف حذف کرنے کی صورت میں 1 تا 2 نمبر دیے جائیں۔

5. بالکل غلط یا نہ سنانے پر صفر نمبر دیا جائے۔

Rubrics: برائے ترجمہ (5 نمبر)

1. طالب علم درج بالا نصاب میں سے کسی ایک کا لفظ بہ لفظ یا با محاورہ درست ترجمہ زبانی سناتا ہے تو اسے 5 نمبر دیے جائیں۔

2. ہچکچاہٹ کے ساتھ رک رک کر لیکن درست زبانی سنانے پر 4 نمبر دیے جائیں۔

3. معمولی غلطیوں اور ناکمل، لیکن آدھے سے زیادہ درست ترجمہ سنانے کی صورت میں 3 نمبر دیے جائیں۔

4. لفظی غلطیوں اور آدھے سے کم درست ترجمہ سنانے پر 1 تا 2 نمبر دیے جائیں۔

5. بالکل غلط یا نہ سنانے پر صفر نمبر دیا جائے۔

9. سخاوت کی وجہ سے حضرت عثمان رضی اللہ تعالیٰ عنہ کا لقب مشہور ہو گیا:

9. The famous title of Hazrat Usman رضی اللہ تعالیٰ عنہ due to his generosity, was:

(A) Ghani غنی (B) Siddique صدیق

(C) Tayyar طیار (D) Saifullah سیف اللہ

10. اللہ تعالیٰ کے فرمان ”جو مال کو جمع کرتا ہے اور اسے گن گن کر رکھتا ہے اور خیال کرتا ہے کہ اس کا مال اس کی ہمیشہ کی زندگی کا موجب ہوگا“ میں مذمت کی گئی ہے:

10. "The one who accumulates wealth and keeps it counted and thinks that his wealth will be the cause of his eternal life" this saying of Allah Almighty condemns the one:

(A) who is miser بخل کرنے والے کی

(B) who is dishonest خیانت کرنے والے کی

(C) who is bribe-taker رشوت لینے والے کی

(D) who is an adulterator ملاوٹ کرنے والے کی

11. تمام انسانوں کی برابری ظاہر کرنے والا اصول ہے:

11. It is a principle that shows the equality of all human beings:

(A) brotherhood اخوت (B) equality مساوات

(C) honesty امانتداری (D) Truthfulness صداقت

12. قرآن پاک کے مطابق سب سے زیادہ بری آواز ہے:

12. According to the Qur'an, the worst voice is of:

(A) a dog کتے کی (B) a donkey گدھے کی

(C) a fox لومڑی کی (D) a crow کوئے کی

13. حضرت عائشہ رضی اللہ تعالیٰ عنہا نے علم انساب اور شاعری سیکھی:

13. Hazrat Ayesha رضی اللہ تعالیٰ عنہا learned genealogy and poetry by:

(A) her brother سے اپنے بھائی سے (B) her father سے اپنے والد سے

(C) her mother سے اپنی والدہ سے (D) her sister سے اپنی بہن سے

14. حضرت فرید الدین گنج شکر رحمۃ اللہ علیہ کے قول کے مطابق دل کو شیطان کا نہ بناؤ:

14. According to the saying of Hazrat Fared Ud Din Ganj Shakar رحمۃ اللہ علیہ do not make the heart _____ of the devil.

(A) Abode ٹھکانہ (B) Way راستہ

(C) Game کھیل (D) Enemy دشمن

15. حکمران ہونے کے باوجود سلطان صلاح الدین ایوبی رحمۃ اللہ علیہ کا خیمہ میں رہنا مثال ہے:

15. Sultan Salah ud Din Ayubi رحمۃ اللہ علیہ preferred to live in a tent despite being the ruler, is an example of:

(A) honesty دیانتداری کی (B) simplicity سادگی کی

(C) tolerance رواداری کی (D) chieftaincy سرداری کی

7. خطبہ حجۃ الوداع میں فضیلت کا معیار مقرر کیا گیا:

7. The standard of superiority was set in the Farewell Hajj Sermon:

- (A) worldly education دنیاوی تعلیم (B) wealth دولت
(C) piety تقویٰ (D) family superiority خاندانی برتری

8. رسول اللہ صَلَّی اللہُ عَلَیْہِ وَاٰلِہٖ وَاَصْحَابِہٖ وَسَلَّمَ کا وصال کتنی عمر میں ہوا؟

8. At what age did Rasoolullah صَلَّی اللہُ عَلَیْہِ وَاٰلِہٖ وَاَصْحَابِہٖ وَسَلَّمَ die?

- (A) Sixty years ساٹھ سال (B) Sixty three years تیرہ سال
(C) Sixty five years پینسٹھ سال (D) Seventy years ستر سال

9. فقر اور مساکین کو کھانا کھلانا بہترین صورت ہے:

9. Feeding the poor and the needy is the best form of:

- (A) generosity سخاوت کی (B) honesty امانت کی
(C) equality مساوات کی (D) truthfulness صداقت کی

10. دولت کو جائز ضروریات پر خرچ کرنے سے روکتی ہے / روکتا ہے:

10. Prevents wealth from being spent on legitimate needs:

- (A) hypocrisy منافقت (B) dishonesty خیانت
(C) arrogance تکبر (D) stinginess بخل

11. تمام انسانوں کو ایک جیسے حقوق حاصل ہونا واضح مثال ہے:

11. All human beings have the same rights, is an example of:

- (A) truthfulness صداقت کی (B) Equality مساوات کی
(C) sincerity اخلاص کی (D) Piety تقویٰ کی

12. رسول اللہ صَلَّی اللہُ عَلَیْہِ وَاٰلِہٖ وَاَصْحَابِہٖ وَسَلَّمَ نے صفائی کو فرار دیا ہے:

12. Rasoolullah صَلَّی اللہُ عَلَیْہِ وَاٰلِہٖ وَاَصْحَابِہٖ وَسَلَّمَ has declared cleanliness as:

- (A) one third of Iman ایک تہائی ایمان
(B) half of Iman نصف ایمان
(C) complete Iman مکمل ایمان
(D) two third of Iman دو تہائی ایمان

13. وفات کے وقت حضرت عائشہ رضی اللہ تعالیٰ عنہا کی عمر تھی:

13. At the time of Hazrat Ayesha's death, she was old:

- (A) sixty-four years 64 سال
(B) sixty-seven years 67 سال
(C) seventy years 70 سال
(D) seventy-three years 73 سال

14. دنیا اور آخرت میں کامیابی کے لیے ضروری ہے:

14. It is essential for success in this world and in the hereafter:

- (A) love of wealth and riches مال و جائداد کی محبت
(B) wish of well business اچھے کاروبار کی خواہش
(C) obedience to saints بزرگان دین کی پیروی
(D) obedience to forefathers آباؤ اجداد کی پیروی

15. صلاح الدین ایوبی رَضِيَ اللهُ عَنْهُ نے ہر بڑے شہر میں قائم کئے:

15. Salah ud Din Ayubi رَضِيَ اللهُ عَنْهُ established in every major city:

- (A) museums عجائب گھر (B) gardens باغات
(C) almonries لنگر خانے (D) madaris مدارس

SCHOOL BASED ASSESSMENT 2021

GRADE 7

ISLAMIAT PART – B (Nazra Quran)

Total Marks:20

1- حفظ: (سورۃ الضحیٰ، سورۃ الزلزال، سورۃ القارعہ) (10 نمبر)

ہدایات برائے ممتحن: ہر بچے سے مذکورہ بالا سورتوں میں سے کوئی ایک سورت زبانی سنی جائے۔

Rubrics:

1- تجوید کے اصولوں (رموز اوقاف، حرف کے مخارج، مد، غنہ اور قلقلہ) کو مد نظر رکھتے ہوئے روانی اور حروف کی درست ادائیگی کے ساتھ بلند آواز میں درج بالا نصاب میں سے کوئی ایک سورت زبانی سنانے پر 10 نمبر دیے جائیں۔

2- ہچکچاہٹ کے ساتھ رک رک کر لیکن درست زبانی سنانے پر 9 نمبر دیے جائیں۔

3- صرف تلفظ کی غلطیوں کے ساتھ پڑھنے کی صورت میں 5 تا 8 نمبر دیے جائیں۔

4- تلفظ کی غلطیوں کے ساتھ ساتھ لفظی غلطیوں یا حروف حذف کرنے کی صورت میں 1 تا 4 نمبر دیے جائیں۔

5- بالکل غلط یا نہ سنانے پر صفر نمبر دیا جائے۔

2. حفظ و ترجمہ: (10=5+5 نمبر)

(سورۃ البقرہ، آیت: 286؛ سورۃ طہ، آیت: 25 تا 28)

ہدایات برائے ممتحن: ہر بچے سے درج بالا نصاب میں سے کسی ایک کو ترجمہ کے ساتھ زبانی سنا جائے۔

Rubrics: برائے حفظ (5 نمبر)

1. درج بالا نصاب میں سے کسی ایک کو تجوید کے اصولوں (رموز اوقاف، حروف کے مخارج، مد، غنہ اور قلقلہ) کو مد نظر رکھتے ہوئے روانی اور حروف کی درست ادائیگی کے ساتھ بلند آواز میں زبانی سنانے پر 5 نمبر دیے جائیں۔

2. ہچکچاہٹ کے ساتھ رک رک کر لیکن درست زبانی سنانے پر 4 نمبر دیے جائیں۔

3. صرف تلفظ کی غلطیوں کے ساتھ پڑھنے کی صورت میں 3 نمبر دیے جائیں۔

4. تلفظ کی غلطیوں کے ساتھ ساتھ لفظی غلطیوں یا حروف حذف کرنے کی صورت میں 1 تا 2 نمبر دیے جائیں۔

5. بالکل غلط یا نہ سنانے پر صفر نمبر دیا جائے۔

Rubrics: برائے ترجمہ (5 نمبر)

1. طالب علم درج بالا نصاب میں سے کسی ایک کا لفظ بہ لفظ یا محاورہ درست ترجمہ زبانی سناتا ہے تو اسے 5 نمبر دیے جائیں۔

2. ہچکچاہٹ کے ساتھ رک رک کر لیکن درست زبانی سنانے پر 4 نمبر دیے جائیں۔

3. معمولی غلطیوں اور نامکمل، لیکن آدھے سے زیادہ درست ترجمہ سنانے کی صورت میں 3 نمبر دیے جائیں۔

4. لفظی غلطیوں اور آدھے سے کم درست ترجمہ سنانے پر 1 تا 2 نمبر دیے جائیں۔

5. بالکل غلط یا نہ سنانے پر صفر نمبر دیا جائے۔

7 Mathematics Paper

School Name: _____
 Tehsil: _____ District: _____
 Student Name: _____ Section: _____
 Roll Number: _____ Date: _____

General Insutrction for Students:

طلبہ کے لیے عمومی ہدایات:

- 1) Use mask and keep at least 3ft. distance from each other. - ماسک کا استعمال کریں اور آپس میں کم از کم تین فٹ کا فاصلہ رکھیں۔ (1)
- 2) Read carefully and attempt all questions. - غور سے پڑھیں اور تمام سوالات حل کریں۔ (2)

3) Encircle the correct option of each of the Multiple Choice Questions (MCQs) as shown in the example given below.

- (3) ہر کثیر الانتخابی سوال کے صحیح جواب پر دائرہ لگائیں جیسا کہ نیچے دی گئی مثال میں دکھایا گیا ہے۔

Example: $64 \div 8 =$

- (A) 4 (B) 6 (C) 8 (D) 12

4) Use black/blue ink for writing. Use of lead pencil is not allowed.

- (4) لکھنے کے لیے کالی/ نیلی روشنائی کا استعمال کریں۔ کچی پنسل کے استعمال کی اجازت نہیں ہے۔

5) If more than one options are encircled in a question, no mark will be given.

- (5) اگر کسی سوال میں ایک سے زیادہ جوابات کے گرد دائرہ لگایا گیا تو کوئی نمبر نہیں دیا جائے گا۔

Total Marks: 50	Multiple Choice Questions	Total Time: 1 Hour
------------------------	----------------------------------	---------------------------

ہدایات: اس پرچہ میں پچیس (25) کثیر الانتخابی سوالات دیے گئے ہیں۔ ہر سوال کے دو نمبر ہیں۔

Instructions: Twenty-five (25) Multiple Choice Questions (MCQs) are given in this paper. Each question carries two marks.

4. $\left(-\frac{1}{7}\right) + \left(-\frac{5}{7}\right) =$

- (A) $-\frac{4}{7}$ (B) $-\frac{6}{7}$
 (C) $\frac{4}{7}$ (D) $\frac{6}{7}$

5. $\frac{40}{41} \times \left(-\frac{5}{10}\right) =$

- (A) $-\frac{5}{41}$ (B) $-\frac{20}{41}$
 (C) $\frac{10}{41}$ (D) $\frac{25}{41}$

6. $\frac{5}{40} \div \left(\frac{2}{5}\right) =$

- (A) $\frac{1}{4}$ (B) $\frac{1}{5}$
 (C) $\frac{2}{5}$ (D) $\frac{4}{5}$

7. جب ہم 0.65 کو ناطق عدد میں تبدیل کرتے ہیں، تو حاصل ہوتا ہے:

7. When we change 0.65 to rational number, we get:

- (A) $\frac{3}{5}$ (B) $\frac{2}{13}$
 (C) $\frac{13}{20}$ (D) $\frac{13}{25}$

1. اگر $X = \{1, 2, 3, 4\}$ اور $Y = \{3, 4, 5, 6\}$ تو $X \cap Y$ ہے۔

1. If $X = \{1, 2, 3, 4\}$ and $Y = \{3, 4, 5, 6\}$ then $X \cap Y$ is:

- (A) $\{1, 2\}$ (B) $\{3, 4\}$
 (C) $\{4, 6\}$ (D) $\{5, 6\}$

2. $\frac{7}{9}$ کا جمع معکوس ہوتا ہے:

2. Additive inverse of $\frac{7}{9}$ is:

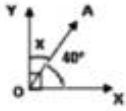
- (A) $-\frac{7}{9}$ (B) $\frac{7}{9}$
 (C) $\frac{-9}{7}$ (D) $\frac{9}{7}$

3. $-\frac{7}{19}$ کا ضربی معکوس ہوتا ہے:

3. Multiplicative inverse of $-\frac{7}{19}$ is:

- (A) $\frac{7}{19}$ (B) $-\frac{7}{19}$
 (C) $\frac{19}{7}$ (D) $-\frac{19}{7}$

19. The measurement of angle 'x' in the following figure is:



- (A) 10° (B) 30°
(C) 50° (D) 90°

20. نیچے دیے گئے دائرے کا محیط ہے:

20. Circumference of the circle given below is:



- (A) πcm (B) 2 πcm
(C) 3 πcm (D) 4 πcm

21. نیچے دیے گئے دائرے کا رقبہ ہے۔

21. Area of circle given below is:



- (A) 22cm² (B) 44cm²
(C) 144cm² (D) 154cm²

22. نیچے دیے گئے سلنڈر کا حجم ہوگا۔

22. The Volume of the given cylinder is:



- (A) πcm³ (B) 2 πcm³
(C) 3 πcm³ (D) 4 πcm³

23. ایک دائروی باغ کا رداس 10 میٹر ہے۔ 14 روپے فی میٹر کے حساب سے باغ کے گرد باڑ لگانے کا خرچ ہوگا۔

23. The radius of the circular garden is 10m. The cost of fencing the garden at the rate of Rs.14 per meter will be:

- (A) روپے 140 (B) روپے 314
(C) روپے 440 (D) روپے 880

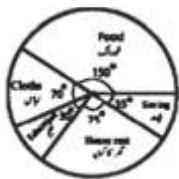
24. (10 - 13) کے جماعتی وقفے میں زیریں جماعتی حد ہے۔

24. In the class interval (10 - 13), the lower class limit is:

- (A) 10 (B) 11
(C) 12 (D) 13

25. درج ذیل پانی گراف عدیل کے اخراجات کو ظاہر کرتا ہے۔ کس چیز پر سب سے زیادہ اخراجات ہیں؟

25. The following pie graph represents the expenditures of Adeel. On which good expenditures are maximum:



- (A) خوراک Food (B) تعلیم Education
(C) لباس Cloths (D) گھر کا کرایہ House Rent

8. Exponent of 2⁵ is:

- (A) 1 (B) 3
(C) 5 (D) 7

9. (7)¹⁶ ÷ (7)⁴ =

- (A) (7)⁴ (B) (7)¹²
(C) (7)²⁰ (D) (7)⁶⁴

10. I^m × Iⁿ =

- (A) I^{m+n} (B) I^{mn}
(C) I^{m-n} (D) I^{2mn}

11. √0.25 =

- (A) 0.0005 (B) 0.0055
(C) 0.05 (D) 0.5

12. √[3]{3 1/16} =

- (A) 0.175 (B) 1.75
(C) 7.5 (D) 17.5

13. ایک گاڑی 75 کلومیٹر کا فاصلہ 5 گھنٹوں میں طے کرتی ہے۔ 4 گھنٹوں میں وہ کتنا فاصلہ طے کرے گی؟

13. A car covers 75 kilometres distance in 5 hours. How much distance will it cover in 4 hours?

- (A) 20 km کلومیٹر (B) 40 km کلومیٹر
(C) 60 km کلومیٹر (D) 80 km کلومیٹر

14. اسد کی سالانہ بچت 100000 روپے ہے وہ کتنی زکوٰۃ ادا کرے گا؟

14. Asad's annual saving is Rs.100000 how much zakat will he pay?

- (A) روپے 250 (B) روپے 500
(C) روپے 2500 (D) روپے 5000

15. (7x + 11y) - (7x - y) =

- (A) -12y (B) 12y
(C) -14x (D) 14x

16. 3x⁸ × (4x² + x) =

- (A) 12x⁶ + 3x⁷ (B) 12x⁴ + 3x⁸
(C) 12x¹⁰ + 3x⁹ (D) 12x¹⁶ + 3x⁸

17. 25x² - 16y² =

- (A) (5x - 4y) (5x + 4y) (B) (5x - 4y) (5x - 4y)
(C) (25x - 16y) (25x + 16y) (D) (25x - 16y) (25x - 16y)

18. مساوات x + 5 = 10 کا حل ہے:

18. The solution of the equation x + 5 = 10 is:

- (A) -5 (B) 2
(C) 5 (D) 15

7 Mathematics Paper

School Name: _____
 Tehsil: _____ District: _____
 Student Name: _____ Section: _____
 Roll Number: _____ Date: _____

General Insutrction for Students:

طلبہ کے لیے عمومی ہدایات:

- 1) Use mask and keep at least 3ft. distance from each other. - ماسک کا استعمال کریں اور آپس میں کم از کم تین فٹ کا فاصلہ رکھیں۔ (1)
- 2) Read carefully and attempt all questions. - غور سے پڑھیں اور تمام سوالات حل کریں۔ (2)

3) Encircle the correct option of each of the Multiple Choice Questions (MCQs) as shown in the example given below.

(3) ہر کثیر الانتخابی سوال کے صحیح جواب پر دائرہ لگائیں جیسا کہ نیچے دی گئی مثال میں دکھایا گیا ہے۔

Example: $64 \div 8 =$

- (A) 4 (B) 6 (C) 8 (D) 12

4) Use black/blue ink for writing. Use of lead pencil is not allowed.

(4) لکھنے کے لیے سیاہی/نیلی روشنائی کا استعمال کریں۔ کچی پنسل کے استعمال کی اجازت نہیں ہے۔

5) If more than one options are encircled in a question, no mark will be given.

(5) اگر کسی سوال میں ایک سے زیادہ جوابات کے گرد دائرہ لگایا گیا تو کوئی نمبر نہیں دیا جائے گا۔

Total Marks: 50	Multiple Choice Questions	Total Time: 1 Hour
-----------------	---------------------------	--------------------

ہدایات: اس پرچہ میں پچیس (25) کثیر الانتخابی سوالات دیے گئے ہیں۔ ہر سوال کے دو نمبر ہیں۔

Instructions: Twenty-five (25) Multiple Choice Questions (MCQs) are given in this paper. Each question carries two marks.

4. $\frac{1}{7} - \left(-\frac{6}{7}\right) =$

- (A) $-\frac{1}{7}$ (B) $\frac{1}{7}$
 (C) $-\frac{5}{7}$ (D) $\frac{5}{7}$

5. $\frac{8}{20} \times \left(+\frac{40}{24}\right) =$

- (A) $\frac{2}{5}$ (B) $\frac{3}{5}$
 (C) $\frac{2}{3}$ (D) $\frac{4}{5}$

6. $\frac{4}{100} \div \left(\frac{20}{80}\right) =$

- (A) $\frac{1}{25}$ (B) $\frac{2}{25}$
 (C) $\frac{3}{25}$ (D) $\frac{4}{25}$

7. جب ہم 0.45 کو ناطق عدد میں تبدیل کرتے ہیں، تو حاصل ہوتا ہے۔

7. When we change 0.45 to rational number, we get:

- (A) $\frac{9}{40}$ (B) $\frac{40}{9}$
 (C) $\frac{9}{20}$ (D) $\frac{20}{9}$

1. اگر $A = \{1,2,3,4,5\}$ اور $B = \{1,3,6\}$ تو $A - B$ ہے۔

1. If $A = \{1,2,3,4,5\}$ and $B = \{1,3,6\}$ then $A - B$ is:

- (A) $\{1,3,5\}$ (B) $\{2,4,6\}$
 (C) $\{2,4,5\}$ (D) $\{1,3,4\}$

2. $\frac{13}{17}$ کا جمعی معکوس ہوتا ہے۔

2. Additive inverse of $\frac{13}{17}$ is:

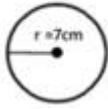
- (A) $-\frac{13}{17}$ (B) $\frac{13}{17}$
 (C) $\frac{17}{13}$ (D) $-\frac{17}{13}$

3. $-\frac{3}{5}$ کا ضربی معکوس ہوتا ہے۔

3. Multiplicative inverse of $-\frac{3}{5}$ is:

- (A) $\frac{3}{5}$ (B) $-\frac{3}{5}$
 (C) $\frac{5}{3}$ (D) $-\frac{3}{5}$

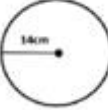
20. Circumference of the circle given below is:



- (A) $14\text{cm}\pi$ (B) $22\text{cm}\pi$
(C) $44\text{cm}\pi$ (D) $88\text{cm}\pi$

21. نیچے دیے گئے دائرے کا رقبہ ہے۔

21. Area of circle given below is:



- (A) 516cm^2 (B) 616cm^2
(C) 632cm^2 (D) 648cm^2

22. نیچے دیے گئے سلنڈر کا حجم ہوگا۔

22. The Volume of the given cylinder is:



- (A) 154cm^3 (B) 220cm^3
(C) 1440cm^3 (D) 1540cm^3

23. ایک دائروی باغ کا رداس 7 میٹر ہے۔ 10 روپے فی میٹر کے حساب سے باغ کے گرد باڑ لگانے کا خرچ ہوگا۔

23. The radius of the circular garden is 7m. The cost of fencing the garden at the rate of Rs.10 per meter will be:

- (A) روپے 44 (B) روپے 154
(C) روپے 440 (D) روپے 1540

24. (8 - 13) کے جماعتی وقفے میں زیریں جماعتی حد ہے۔

24. In the class interval (8 - 13), the lower class limit is:

- (A) 7 (B) 8
(C) 12 (D) 13

25. نیچے دیا گیا پائی گراف ایک طالب علم کے مختلف مضامین میں نمبروں کو ظاہر کر رہا ہے۔ اس نے کس مضمون میں سب سے کم نمبر حاصل کیے؟

25. The following pie graph is showing the marks of a student in different subjects. In which subject he got minimum marks?



- (A) ریاضی Maths (B) انگریزی English
(C) اردو Urdu (D) سائنس Science

8. Exponent of 5^6 is:

- (A) 1 (B) 5
(C) 6 (D) 11

9. $(6)^9 \div (6)^3 =$

- (A) 6^3 (B) 6^6
(C) 6^{12} (D) 6^{27}

10. $5^6 \times 5^2 =$

- (A) 5^2 (B) 5^4
(C) 5^8 (D) 5^{10}

11. $\sqrt{0.09} =$

- (A) 0.0003 (B) 0.003
(C) 0.03 (D) 0.3

12. $\sqrt{6\frac{1}{4}} =$

- (A) 0.025 (B) 0.25
(C) 2.5 (D) 20.5

13. ایک کار 350 کلومیٹر کا فاصلہ 5 گھنٹوں میں طے کرتی ہے۔ 8 گھنٹوں میں وہ کتنا فاصلہ طے کرے گی؟

13. A car covers 350 kilometres in 5 hours. How much distance will it cover in 8 hours?

- (A) 460 km کلومیٹر (B) 560 km کلومیٹر
(C) 660 km کلومیٹر (D) 760 km کلومیٹر

14. عمر کی سالانہ بچت 200000 روپے ہے وہ کتنی زکوٰۃ ادا کرے گا؟

14. Umar's annual saving is Rs.200000 how much zakat will he pay?

- (A) روپے 500 (B) روپے 1000
(C) روپے 5000 (D) روپے 10000

15. $(2x + 2y) - (2x - 2y) =$

- (A) 4x (B) -4x
(C) 4y (D) -4y

16. $3x^6 \times (2x^2 + x) =$

- (A) $6x^3 - 3x^6$ (B) $6x^4 - 3x^5$
(C) $6x^8 - 3x^7$ (D) $6x^{12} - 3x^6$

17. $16x^2 - 9y^2 =$

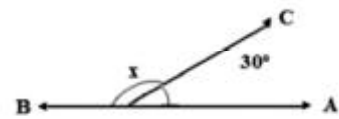
- (A) $(4x - 3y)(4x + 3y)$ (B) $(4x - 3y)(4x - 3y)$
(C) $(16x - 9y)(16x + 9y)$ (D) $(16x - 9y)(16x - 9y)$

18. مساوات $x + 2 = 8$ کا حل ہے۔18. The solution of the equation $x + 2 = 8$ is:

- (A) 4 (B) 6
(C) 10 (D) 16

19. نیچے دی گئی شکل میں زاویہ 'x' کی مقدار ہے۔

19. The measurement of angle 'x' in the following figure is:



- (A) 60° (B) 90°
(C) 150° (D) 180°

School Name: _____

Tehsil: _____ District: _____

Student Name: _____ Section: _____

Roll Number: _____ Date: _____

General Insutrction for Students:

1) Use mask and keep 3 feet distance from each other.

2) Read carefully and attempt all questions.

3) Encircle the correct option of each of the Multiple Choice Questions (MCQs) as shown in the example given below.

(3) ہر کثیر الانتخابی سوال کے صحیح جواب پر دائرہ لگائیں جیسا کہ نیچے دی گئی مثال میں دکھایا گیا ہے۔

Example: Covid-19 is caused by:

مثال: کووڈ-19 کی وجہ ہے:

(A) bacteria بیکٹیریا یا

(B) fungi فنجائی

(C)

Virus وائرس

(D) algae الگی

4) If more than one options are encircled in a question, no mark will be given.

(4) اگر کسی سوال میں ایک سے زیادہ جوابات کے گرد دائرہ لگایا گیا تو کوئی نمبر نہیں دیا جائے گا۔

Total Marks: 50	Multiple Choice Questions	Total Time: 1 Hour
-----------------	---------------------------	--------------------

ہدایات: اس پرچہ میں پچیس (25) کثیر الانتخابی سوالات دیے گئے ہیں۔ ہر سوال کے دو نمبر ہیں۔

Instructions: Twenty-five (25) Multiple Choice Questions (MCQs) are given in this paper. Each question carries two marks.

5. پھول کے اہتھر سے پون گرینز کی سنگما پر منتقلی کیا کہلاتی ہے؟

5. The transfer of pollens grains from the anther to stigma is called:

- (A) Digestion ڈائیجیشن (B) Fertilization فرٹیلائزیشن
(C) Pollination پولینیشن (D) Transportation ٹرانسپورٹیشن

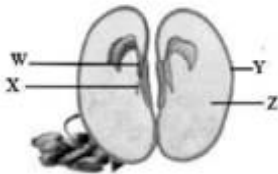
6. درج ذیل میں سے اس پودے کی نشاندہی کریں جس میں کراس پولینیشن ہوتی ہے؟

6. Identify the cross-pollinated plant from the following.

- (A) Apple سیب (B) Pea مٹر
(C) Tomato ٹماٹر (D) Rice plant چاول کا پودا

7. دی گئی ڈایا گرام میں سے پلو میول کی شناخت کریں۔

7. Identify the plumule in given diagram of seed.



- (A) W (B) X (C) Y (D) Z

8. درج ذیل میں سے ایکو سسٹم کا ایبائیوٹک جز کونسا ہے؟

8. Which is abiotic component of an ecosystem?

- (A) Water پانی (B) Animals جانور
(C) Fungi فنجائی (D) Algae الگی

1. درج ذیل میں سے نظام انہضام کا کون سا حصہ پانی کی اضافی مقدار کو غیر ہضم شدہ خوراک سے جذب کرتا ہے؟

1. Which part of the digestive system absorbs extra amount of water from undigested food?

- (A) Small intestine چھوٹی آنت (B) Large Intestine بڑی آنت
(C) Esophagus ایسوفیگیس (D) Stomach معدہ

2. درج ذیل میں سے کون سا سانس لینے کے طریقہ کار کا حصہ نہیں ہے؟

2. Which of the following is NOT a part of the mechanism of breathing?

- (A) Trachea ٹریکیا (B) Bronchi برونکائی
(C) Lungs پیچھڑے (D) Ventricles وینٹریکلز

3. دل کے چار خانے ہیں۔ دل کا کون سا خانہ آکسی جنیٹڈ خون حاصل کرتا ہے؟

3. The heart has four chambers. Which chamber of heart receives oxygenated blood?

- (A) Right atrium دایاں ایٹریئم (B) Left atrium باایاں ایٹریئم
(C) Right ventricle دایاں وینٹریکل (D) Left ventricle باایاں وینٹریکل

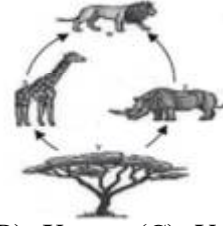
4. درج ذیل میں سے کون سی وجہ سے ہائی بلڈ پریشر کا خطرہ بڑھ سکتا ہے؟

4. Which one of the following can raise the risk of high blood pressure?

- (A) Smoking سگریٹ نوشی (B) Exercise ورزش
(C) Proper diet مناسب خوراک (D) Slimness پتلپن

9. دیے گئے فوڈ ویب میں خوراک کے بنیادی ذریعے کا انتخاب کریں۔

9. Select the basic source of food in the given food web:



(A) W (B) X (C) Y (D) Z

10. گھر یلو بلچ پانی کی تھلیس کے لیے استعمال ہوتی ہے۔ بلچ میں پوریفائنگ ایجنٹ کون سا ہے؟

10. House hold bleach is used to purify water. Which one is purifying agent in bleach?

(A) Fluorine فلورین (B) Chlorine کلورین
(C) Potash alum پتھکڑی (D) Chrome alum کروم ایلم

11. ایٹم کے ذرہ کا نام بتائیں جس پر کوئی چارج نہیں ہوتا۔

11. Name the atomic particle with no charge:

(A) Electron الیکٹرون (B) Proton پروٹون
(C) Neutron نیوٹرون (D) Positron پوزیٹرون

12. جب ایک ایٹم الیکٹران حاصل کرتا ہے تو اس سے کیا بنتا ہے؟

12. When an atom gains an electron, it forms:

(A) Anion اینائن (B) Cation کیٹائن
(C) Molecule مالیکیول (D) Compound کمپاؤنڈ

13. مندرجہ ذیل میں سے کون سا عنصر اینائن بناتا ہے؟

13. Which of the following elements produces anion?

(A) Ca (B) Mg (C) K (D) F

14. درج ذیل میں سے کیمیائی تبدیلی کونسی ہے؟

14. Which of the following is a chemical change?

(A) Evaporation تبخیر (B) Condensation تکثیف
(C) Rusting زنگ لگنا (D) Cutting of tree درخت کاٹنا

15. کھاد کے بارے میں درست بیان کی نشان دہی کریں۔

15. Identify the correct statement about fertilizers.

(A) Soft particles are good نرم ذرات اچھے ہوتے ہیں
(B) Fertilizers are not chemicals کھاد کیمیکل نہیں ہوتی
(C) Small particles are good چھوٹے ذرات اچھے ہوتے ہیں
(D) Hard particles are bad سخت ذرات نقصان دہ ہوتے ہیں

16. نیچے دی گئی شکل میں سپرٹ لیمپ کے ذریعے ہاتھ کو گرم کرتے ہوئے دکھایا گیا ہے۔ اس طریقے کا انتخاب کریں جس کے ذریعے حرارت ہاتھ تک منتقل ہو رہی ہے۔

16. Figure below shows the heating of hand through sprit lamp. Identify the mode through which heat is transferring to the hand.



(A) Conduction کنڈکشن (B) Insulation انسولیشن
(C) Convection کنویکشن (D) Radiation ریڈی ایشن

17. ٹھوس اشیاء میں حرارت کیسے منتقل ہوتی ہے؟

17. How heat is transferred in solids?

(A) By convection سے کنویکشن
(B) By radiation سے ریڈی ایشن
(C) By conduction سے کنڈکشن
(D) By insulation سے انسولیشن

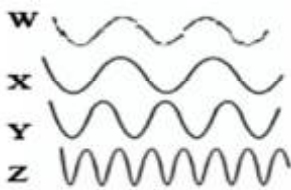
18. جب سفید روشنی پرم سے گزرتی ہے تو اسپیکٹرم کے اوپر والے تین رنگوں کی شناخت کریں۔

18. Identify the top three colours of the spectrum when white light passes through prism:

(A) Blue, Violet, Indigo نیلا، آسمانی، بنفش
(B) Orange, Blue, Green نارنجی، نیلا، سبز
(C) Green, Yellow, Blue سبز، پیلا، نیلا
(D) Red, Orange, Yellow سرخ، نارنجی، پیلا

19. اس ساؤنڈ ویو کی نشاندہی کریں جس کی فریکوئنسی سب سے زیادہ ہے:

19. Identify the sound wave, which has greatest frequency.



(A) W (B) X (C) Y (D) Z

20. کسی کنڈکٹر میں سے چارجز کے بہاؤ کو کیا کہتے ہیں؟

20. The flow of charges through a conductor is called:

(A) Current کرنٹ (B) Energy انرجی
(C) Resistance رزسٹنس (D) Power پاور

21. درج ذیل میں سے کون سا آلہ سرکٹ میں ولٹیج کی پیمائش کے لیے استعمال ہوتا ہے؟

21. Which one of the following devices is used to measure the voltage in a circuit?

(A) Voltmeter وولٹ میٹر (B) Battery بیٹری
(C) Ammeter ایم میٹر (D) Fuse فیوز

22. درج ذیل میں سے کون سا برقی آلہ برقی انرجی کو آواز کی انرجی میں تبدیل کرتا ہے؟

22. Which of the following electrical appliances converts electrical energy into sound energy?

(A) Toaster ٹوسٹر (B) Bell گھنٹی
(C) Electric Iron برقی استری (D) Heater ہیٹر

23. کون سا رنگ گرم ترین ستارے کو ظاہر کرتا ہے؟

23. Which colour represents the hottest star?

(A) Red سرخ (B) Green سبز
(C) Blue نیلا (D) White سفید

24. بڑے ماس والے ستاروں کے دور حیات کا آخری مرحلہ کیا ہے؟

24. The last stage in the life of massive star is called:

(A) Galaxy گلیکسی (B) Milky way ملکی وے
(C) Black hole بلیک ہول (D) Nebula نیبولا

25. سپائرل گلیکسی کی شکل کس طرح کی ہوتی ہے؟

25. What is the shape of a spiral galaxy?

(A) Flat disk-like چپٹی طشتری نما (B) Oval بیضوی
(C) Rectangular مستطیلی (D) Irregular بے قاعدہ

School Name: _____

Tehsil: _____ District: _____

Student Name: _____ Section: _____

Roll Number: _____ Date: _____

General Insutrction for Students:

طلبہ کے لیے عمومی ہدایات:

1) Use mask and keep 3 feet distance from each other.

(1) ماسک پہنیں اور آپس میں کم از کم 3 فٹ کا فاصلہ رکھیں۔

2) Read carefully and attempt all questions.

(2) غور سے پڑھیں اور تمام سوالات حل کریں۔

3) Encircle the correct option of each of the Multiple Choice Questions (MCQs) as shown in the example given below.

(3) ہر کثیر الانتخابی سوال کے صحیح جواب پر دائرہ لگائیں جیسا کہ نیچے دی گئی مثال میں دکھایا گیا ہے۔

Example: Covid-19 is caused by:

مثال: کووڈ-19 کی وجہ ہے:

(A) bacteria بیکٹیریا یا

(B) fungi فنجائی

(C)

Virus وائرس

(D) algae الگی

4) If more than one options are encircled in a question, no mark will be given.

(4) اگر کسی سوال میں ایک سے زیادہ جوابات کے گرد دائرہ لگایا گیا تو کوئی نمبر نہیں دیا جائے گا۔

Total Marks: 50	Multiple Choice Questions	Total Time: 1 Hour
-----------------	---------------------------	--------------------

ہدایات: اس پرچہ میں پچیس (25) کثیر الانتخابی سوالات دیے گئے ہیں۔ ہر سوال کے دو نمبر ہیں۔

Instructions: Twenty-five (25) Multiple Choice Questions (MCQs) are given in this paper. Each question carries two marks.

5. During pollination pollen grains transfer from:

5. پوینیشن کے دوران پالین گرین کس جگہ سے کس طرف منتقل ہوتے ہیں؟
- (A) Anther to stigma انتھر سے سٹیگما
(B) Stigma to anther سٹیگما سے انتھر
(C) Anther to ovary انتھر سے اووری
(D) Ovary to anther اووری سے انتھر

6. Which part of plant is responsible for sexual reproduction in plants?

6. ان میں سے کون سا حصہ پودوں میں سیکسوسٹیل ریپروڈکشن کا ذمہ دار ہے؟
- (A) Flower پھول (B) Leaves پتے
(C) Stem تنہ (D) Root جڑ

7. Which of the following is mature ovary of a plant?

7. درج ذیل میں سے کون سی پودوں کی پکی ہوئی اووری ہے؟
- (A) Fruit پھل (B) Seed بیج
(C) Flower پھول (D) Stem تنہ

8. All organisms living in the forest form:

8. جنگل میں موجود تمام جاندار بناتے ہیں:
- (A) Ecosystem ایکوسسٹم (B) Population پاپولیشن
(C) Community کمیونٹی (D) Abiotic factor ای بیائیٹک فیکٹر

1. Name the part of respiratory system, which is responsible for the exchange of the gases.

1. ریسپیریٹری سسٹم کا کون سا حصہ گیسوں کے تبادلے کے لیے ذمہ دار ہے؟
- (A) Larynx لیرنکس (B) Trachea ٹریکیا
(C) Bronchi برونکائی (D) Alveoli ایلیولائی


2. Which gas is released during respiration?

2. ریسپائریشن کے دوران کون سی گیس پیدا ہوتی ہے؟
- (A) O₂ (B) CO₂ (C) N₂ (D) H₂

3. Which of the following blood vessels brings blood back to the heart?

3. درج ذیل میں سے کون سی خون کی نالیاں خون کو دل کی طرف واپس لے کر جاتی ہیں؟
3. Which of the following blood vessels brings blood back to the heart?
- (A) Arteries آرٹریز (B) Capillaries کیپیلریز
(C) Veins ویز (D) Aorta اے اورٹا

4. Identify food factory of plants:



4. پودوں کی غذا کارخانہ کی شناخت کریں۔
- (A) W (B) X (C) Y (D) Z

9. درج ذیل میں سے کون سا پروڈیوسر ہے؟

9. Which of the following is a producer?

(A) Plant پودا (B) Zebra زبرہ

(C) Lion شیر (D) Hawk عقاب

10. جنگل میں موجود بھیڑیوں کی کل تعداد کے لیے کون سی اصطلاح استعمال ہوتی ہے؟

10. Which term is used for the total number of wolves present in the forest?

(A) Ecosystem ایکوسسٹم (B) Population پاپولیشن

(C) Community کمیونٹی (D) Abiotic factor ایبائیوٹک فیکٹر

11. ایک ایلیمنٹ کے نیوکلیئس میں چھ پروٹان اور چھ نیوٹران ہیں۔ اس کا ایٹمی نمبر کیا ہوگا؟

11. An element has six protons and six neutrons in its nucleus. What is its atomic number?

(A) 6 (B) 12 (C) 18 (D) 36

12. درج ذیل میں سے کونسا آئن الیکٹران کے حاصل کرنے سے بنتا ہے؟

12. Which of the following ions is formed by gain of electrons?

(A) Na^{+1} (B) Ag^{+} (C) S^{2-} (D) Al^{+3}

13. پانی کے مالیکول میں کتنے قسم کے ایلیمنٹ موجود ہوتے ہیں؟

13. How many types of elements are in water molecule?

(A) 1 (B) 2 (C) 3 (D) 4

14. نیچے مختلف طبعی اور کیمیائی تبدیلیاں دی گئی ہیں، ان میں سے کیمیائی تبدیلی کی شناخت کریں۔

14. Different physical and chemical changes are given below. Identify the chemical change.

(A) Photosynthesis فوٹوسنتھس

(B) Freezing of water پانی کا جمنا

(C) Melting of ice برف کا پگھلنا

(D) Boiling of water پانی کا ابلا

15. کھاد کے کونسے ذرات پانی میں جلدی حل ہو جائیں گے؟

15. Which particle of fertilizer will dissolve easily in water?

(A) Lighter ہلکے (B) Denser کثیف

(C) Larger بڑے (D) Smaller چھوٹے

16. شکل میں ایک دھاتی سلاخ کو گرم کرتے ہوئے دکھایا گیا ہے۔ حرارت سلاخ کے A سرے سے B سرے تک کیسے منتقل ہوتی ہے؟

16. Figure shows the heating of a metallic rod. How heat is transferred from its end A to end B?

(A) By convection کنویکشن سے

(B) By radiation ریڈی ایشن سے

(C) By conduction کنڈکشن سے

(D) By insulation انسولیشن سے



17. درج ذیل میں سے کون سی شے حرارت کی ناقص کنڈکٹر ہے؟

17. Which one of the following substances is a bad conductor of heat?

(A) Air ہوا (B) Iron لوہا (C) Silver چاندی (D) Copper کانپر

18. پانی میں ڈوبا ہوا چمچ نیڑھا نظر آنے کی وجہ ہے:

18. Spoon dipped in water looks bent because of:

(A) Reflection رفلیکشن

(B) Refraction رفریکشن

(C) Absorption ایبڈورپشن

(D) Transmission ٹرانسمیشن



19. مندرجہ ذیل سے کون سی چیز موسیقی سننے کے لیے استعمال ہوتی ہے؟

19. Which of the following is used to listen the music?

(A) Door bell ڈور بیل (B) Siren سائر

(C) Telephone ٹیلی فون (D) Stereo player سٹریو پلیر

20. درج ذیل میں سے کون سا آلہ سرکٹ میں کرنٹ کی پیمائش کے لیے استعمال ہوتا ہے؟

20. Which one of the following devices is used to measure the current in a circuit?

(A) Voltmeter وولٹ میٹر (B) Battery بیٹری

(C) Ammeter ایم میٹر (D) Fuse فیوز

21. درج ذیل میں سے کون سا آلہ الیکٹرک سرکٹس میں سیریز میں جوڑا جاتا ہے؟

21. Which of the following instruments is connected in series in electric circuits?

(A) Ammeter ایم میٹر (B) Voltmeter وولٹ میٹر

(C) Thermometer تھرمامیٹر (D) Barometer بیرومیٹر

22. بجلی کے سرکٹ میں دو پوائنٹس کے درمیان پوٹنشل کے فرق کو کیا کہتے ہیں؟

22. What is the difference of potential between two points in an electric circuit?

(A) Electric current الیکٹرک کرنٹ

(B) Electric voltage الیکٹرک وولٹیج

(C) Electric resistance الیکٹرک ریزسٹنس

(D) Electric power الیکٹرک پاور

23. آرکٹورس ستارے کا رنگ کیا ہوتا ہے؟

23. What is colour of star Arcturus?

(A) Red سرخ (B) Orange نارنجی (C) Yellow پیلا (D) Blue نیلا

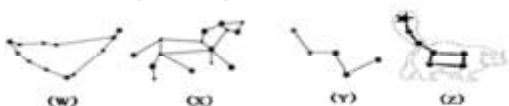
24. سورج ملکی وے گلیکسی کے وسط سے کتنے نوری سال کے فاصلے پر ہے؟

24. How far away the Sun (in light years) is from the center of Milky Way galaxy?

(A) 20,000 (B) 30,000 (C) 40,000 (D) 50,000

25. دی گئی تصاویر میں سے باگ ڈاںپر کا سٹیلیشن کی شناخت کریں۔

25. Identify the Big Dipper Constellation from the following images.



(A) W

(B) X

(C) Y

(D) Z

12- درج ذیل میں سے مجہول جملے کی نشان دہی کریں:

(A) علی نے نماز پڑھی (B) اس نے نماز پڑھی

(C) نماز پڑھی گئی۔ (D) تم نے نماز پڑھی۔

13- دیئے گئے جملوں میں سے درست روزمرہ کی مثال ہے:

(A) ناچ نہ جانے آنگن ٹیڑھا (B) اٹھے بانس بریلی کو۔

(C) آم کے آم گھلیوں کے دام۔ (D) نودو گیا رہ ہونا۔

14- لفظ ”پیماری“ کا درست متضاد ہے:

(A) شفاء (B) طاعون (C) وائرس (D) وباء

15- لفظ ”حاجت“ کا مترادف ہے:

(A) ضرورت (B) اہمیت (C) وقت (D) عنایت

☆ مندرجہ ذیل عبارت پڑھ کر سوال نمبر 16, 17, 18, 19 اور 20 کے جواب کا انتخاب کریں۔

نئے کرونا وائرس سے ہونے والی بیماری کی پہلی بار شناخت چین کے شہر وہان میں 2019ء

میں ہوئی۔ اس بیماری کو (کووڈ-19) کا نام دیا گیا۔

کووڈ-19 حال ہی میں سامنے آنے والی وائرس ہے جس کا تعلق کرونا وائرس کے اسی

خاندان سے ہے جو نظام تنفس کی شدید ترین بیماری کی مجموعی علامات (سارس) اور نزلہ زکام

کی عام اقسام پھیلانے کا باعث بنا تھا۔ اس بیماری کی عام علامات زکام (فلو) یا عام نزلے

سے ملتی جلتی ہیں جو کہ کووڈ-19 کی نسبت بہت عام بیماریاں ہیں۔ کرونا وائرس کی علامات

میں بخار، کھانسی اور سانس لینے میں مشکل پیش آنا شامل ہیں۔ بیماری کی شدت کی صورت

میں نمونیا اور سانس لینے میں بہت زیادہ مشکل کا سامنا بھی ہو سکتا ہے بار بار ہاتھ دھونا اور

سانس لینے کے نظام کی صحت کا خیال رکھنا، کھانسی کرتے اور چھینکتے وقت اپنا منہ کہنی موڑ کر یا

پھر ٹشو یا رومال سے ڈھانپ لینا اور استعمال شدہ رومال یا ٹشو کو ایسے کوڑا دان میں ضائع کرنا

جو ڈھکن سے بند ہو سکتا ہو، اس کی احتیاطی تدابیر میں شامل ہے۔

16- کرونا وائرس کا آغاز کس سال ہوا؟

(A) 2017 (B) 2018 (C) 2019 (D) 2020

17- کرونا وائرس کا آغاز کس ملک سے ہوا؟

(A) امریکہ (B) جاپان (C) چین (D) روس

18- کرونا کی شناخت کس شہر سے ہوئی؟

(A) ہاربن (B) شینزین (C) شیان (D) وہان

19- کرونا وائرس بیماری ہے:

(A) نظام انہضام کی (B) نظام دوران خون کی

(C) نظام تنفس کی (D) نظام استخوان

20- بیماری کی شدت میں کیا ہوتا ہے؟

(A) نمونیا اور سانس میں مشکل (B) بخار اور پیٹ درد

(C) زکام اور سر کا درد (D) نمونیا اور ٹانگ کا درد

☆ مندرجہ ذیل اشعار پڑھ کر سوال نمبر 21, 22, 23, 24 اور 25 کے جواب کا انتخاب کریں۔

جو خوش پوش کیسو سنوارے ہوئے تھا بہت مال چہرے پہ مارے ہوئے تھا

بڑا قیمتی سوٹ دھارے ہوئے تھا گھڑی بھر میں سب کچھ اتارے ہوئے تھا

بیچارے کا حلیہ دگر ہو رہا ہے کراچی کی بس میں سفر ہو رہا ہے

21- اشعار میں موجود ”گھڑی بھر“ سے مراد ہے:

(A) ہر وقت (B) کچھ وقت (C) فی الوقت (D) مشکل وقت

22- درج بالا اشعار میں کس سواری کا ذکر ہے؟

(A) میٹروٹرین کا (B) بس کا

(C) ریل گاڑی کا (D) مال گاڑی کا

23- اشعار میں مذکور مسافر نے لباس پہنا ہوا تھا:

(A) کم قیمت والا (B) معمولی قیمت والا

(C) بڑا نفیس (D) زیادہ قیمت والا

24- اشعار میں موجود ”خوش پوش“ سے مراد ہے:

(A) شاعر (B) خراب حلیے والا

(C) عمدہ لباس والا (D) گندے لباس والا

25- لفظ ”دھارے ہوئے“ کے معنی ہیں:

(A) ادھار لیا ہوا سوٹ (B) اتار ہوا

(C) پہنے ہوئے (D) دھاری دار لباس

School Name: _____

Tehsil: _____ District: _____

Student Name: _____ Section: _____

Roll Number: _____ Date: _____

عمومی ہدایات: (1) ماسک پہنیں اور آپس میں کم از کم 3 فٹ کا فاصلہ رکھیں۔

(2) غور سے پڑھیں اور ہر سوال کا جواب دیں۔

(3) ہر کثیر الانتخابی سوال کے صحیح جواب پر دائرہ لگائیں جیسا کہ مثال میں دکھایا گیا ہے۔

مثال: چیچڑ کی وجہ سے پھیلنے والی بیماری ہے:

(D) ڈینگی

(C) خسرہ

(B) کاگو

(A) پولیو

(4) اگر کسی سوال میں ایک سے زیادہ جوابات کے گرد دائرہ لگایا گیا تو کوئی نمبر نہیں دیا جائے گا۔

کل نمبر: 50

حصہ الف (معروضی سوالات)

کل وقت: 1 گھنٹہ

7- محاورہ ”اپنے پاؤں پر کھڑی مارنا“ کے معنی ہیں:

(A) مضبوط ہونا (B) دھوکا دینا

(C) اپنا نقصان خود کرنا (D) دشمنی چھانا

8- لفظ ”مساوی“ کا متضاد ہوگا:

(A) غیر مساوی (B) ضرب (C) تقسیم (D) جمع

9- ”جیسا کرو گے ویسا بھرو گے“ ایک کہانی کا نتیجہ ہے اردو ادب میں

اسے-----کہتے ہیں۔

(A) مضمون (B) کہات (C) روزمرہ (D) داستان

10- جیسے لفظ ”سکول“ کے تلازمات ”ٹیچر، مالی، ہیڈ ٹیچر، گھنٹی، خاکروب“ ہیں ایسے ہی

لفظ ”دریا“ کے تلازمات ہیں:

(A) ریڑھی، پھل، سبزی (B) کشتی، پانی، مچھلی

(C) ہوٹل، کھانا، برتن (D) لائٹ، بٹن، پنکھا

11- درست روزمرہ کی مثال ہے:

(A) وہ بلاناغہ سکول جاتا ہے۔ (B) وہ بے نافعہ سکول جاتا ہے۔

(C) وہ باناغہ سکول جاتا ہے۔ (D) وہ بعد نافعہ سکول جاتا ہے۔

1- روزمرہ کے لحاظ سے درست جملہ ہے:

(A) آج شپ برات ہے۔ (B) آج شپ بارات ہے۔

(C) آج کی رات شپ برات ہے۔ (D) آج شپ برات کی رات ہے۔

2- ”بچے نے پھول توڑا“۔ فعل مجہول کے مطابق یہ جملہ ہوگا:

(A) بچے نے پھول توڑا (B) بچہ پھول توڑتا ہے۔

(C) پھول توڑا گیا۔ (D) بچہ پھول توڑے گا۔

3- الفاظ متضاد کے درمیانی لفظ کی درست ترتیب ہے:

(A) صبح، دوپہر، شام (B) دوپہر، شام، صبح

(C) شام، صبح، دوپہر (D) دوپہر، صبح، شام

4- تلفظ کے لحاظ سے درست لفظ ہے:

(A) غرض (B) غرض (C) غرض (D) غرض

5- ”طاقت“ کا ہم معنی لفظ ہے:

(A) قوت (B) دولت (C) غربت (D) عزت

6- اہل زبان کی بول چال کو-----کہتے ہیں:

(A) محاورہ (B) روزمرہ (C) ضرب المثل (D) کہات

12- درج ذیل میں سے فعل مجہول والا جملہ ہے:

(A) چور کو گرفتار کر لیا گیا۔ (B) کھلاڑی میچ کھیل رہے ہیں۔

(C) ہم سکول جا رہے ہیں۔ (D) استاد نے ہمیں سچائی کا درس دیا۔

13- دیئے گئے جملوں میں سے درست محاورہ کی مثال ہے:

(A) تین پانچ کرنا (B) سر راہ چلنا

(C) آسمان سے گرا کھجور میں اٹکا (D) نود و بارہ ہونا

14- لفظ ”ازل“ کا متضاد ہے:

(A) اختتام (B) ہمیشہ (C) عزم (D) ابد

15- لفظ ”ابتداء“ کا مترادف ہے:

(A) آغاز (B) اختتام (C) انتہا (D) عروج

☆ مندرجہ ذیل عبارت پڑھ کر سوال نمبر 16، 17، 18، 19 اور 20 کے جواب کا انتخاب کریں۔

بلوچستان رقبے کے لحاظ سے پاکستان کا سب سے بڑا صوبہ ہے۔ اس کا دارالحکومت کوئٹہ

ہے۔ اس صوبے کی آبادی گنجان نہیں۔ قریب قریب ڈیڑھ کروڑ لوگ اس صوبے میں آباد ہیں

بلوچستان کی سرحدیں پاکستان کے باقی تینوں صوبوں سے ملتی ہیں۔ یہاں بولی جانے والی

بڑی بڑی زبانوں میں بلوچی براہوی اور پشتو شامل ہیں۔ بلوچستان کے کچھ حصوں میں

سندھی بھی بولی جاتی ہے۔

16- رقبے کے لحاظ سے سب سے بڑا صوبہ ہے:

(A) پنجاب (B) بلوچستان (C) سندھ (D) خیبر پختونخوا

17- بلوچستان کا دارالحکومت ہے:

(A) زیارت (B) کوئٹہ (C) سبی (D) تربت

18- اس صوبے کی آبادی قریباً ہے:

(A) 50 لاکھ (B) 80 لاکھ (C) 85 لاکھ (D) ڈیڑھ کروڑ

19- بلوچستان میں بولی جانے والی بڑی بڑی زبانیں ہیں:

(A) بلوچی، براہوی، پشتو (B) بلوچی، براہوی، پنجابی

(C) بلوچی، براہوی، سرائیکی (D) بلوچی، براہوی، ہندکو

20- بلوچستان کے چند علاقوں میں بولی جانے والی زبان ہے:

(A) سندھی (B) بلوچی (C) پشتو (D) پنجابی

☆ مندرجہ ذیل عبارت پڑھ کر سوال نمبر 21، 22، 23، 24 اور 25 کے جواب کا انتخاب کریں۔

مریخہ ساتویں جماعت میں پڑھتی ہے پچھلے دو ہفتوں سے اُس کی جماعت تعلیمی و تفریحی سیر کا

پروگرام بنا رہی تھی۔ کوئی طالبہ منگلا ڈیم دیکھنا چاہتی تھی تو کوئی کوہستان نمک کھیوڑہ دیکھنے کی

شوقین تھی۔ کوئی ہرن مینار دیکھنے کی خواہش ظاہر کر رہی تھی۔ لڑکیوں سے سیر کے لیے کسی ایک

مقام کا فیصلہ نہیں ہو پا رہا تھا۔ بالآخر سب طالبات نے فیصلے کا حق اپنی پیاری استانی مس

ممتاز کو دے دیا۔ مس ممتاز نے کہا: پیارے بچو! انشاء اللہ تعالیٰ ہم لاہور جائیں گے۔ وہاں

مینار پاکستان، بادشاہی مسجد اور شاہی قلعہ دیکھنے کے بعد ہم سہ پہر کو واہگہ کی سرحد جائیں گے

اور پرچم اُتارنے کی تقریب دیکھیں گے۔

21- مریخہ کس جماعت کی طالبہ تھی؟

(A) پانچویں (B) چھٹی (C) ساتویں (D) آٹھویں

22- طالبات کس ڈیم کو دیکھنا چاہتی تھیں؟

(A) تربیلا (B) راول (C) منگلا (D) مہمند

23- طلبانے فیصلہ سازی کا حق کس کو دیا؟

(A) مس فرحت (B) مس ممتاز (C) مس عائشہ (D) مس عابدہ

24- بادشاہی مسجد اور شاہی قلعہ کس شہر میں واقع ہیں؟

(A) لاہور (B) کراچی (C) اسلام آباد (D) گوجرانوالہ

25- اوپر دیئے گئے پیرا گراف کو مناسب عنوان دیں۔

(A) پہاڑی مقامات کی سیر (B) تاریخی مقامات کی سیر

(C) جنگل کی سیر (D) نمک کی سیر