

SCHOOL BASED ASSESSMENT 2021

GRADE 6

COMPUTER EDUCATION

School Name : _____

Tehsil: _____ District: _____

Student Name: _____ Section: _____

Roll Number: _____ Date: _____

General Insutrction for Students:

1) Use mask and keep 3 feet distance from each other.

2) Read carefully and attempt all questions.

3) Encircle the correct option of each of the Multiple Choice Questions (MCQs) as shown in the example given below.

(3) ہر کثیر الانتخابی سوال کے صحیح جواب پر دائرہ لگائیں جیسا کہ نیچے دی گئی مثال میں دکھایا گیا ہے۔

Example: The performance of computer depends upon given:

(A) Commands کمانڈز (B) Statements سٹیٹمنٹس



Instructions ہدایات

(D) Keywords کی ورڈز

4) If more than one options are encircled in a question, no mark will be given.

(4) اگر کسی سوال میں ایک سے زیادہ جوابات کے گرد دائرہ لگایا گیا تو کوئی نمبر نہیں دیا جائے گا۔

Total Marks: 50	Multiple Choice Questions	Total Time: 1 Hour
------------------------	----------------------------------	---------------------------

ہدایات: اس پرچہ میں پچیس (25) کثیر الانتخابی سوالات دیے گئے ہیں۔ ہر سوال کے دو نمبر ہیں۔

Instructions: Twenty-five (25) Multiple Choice Questions (MCQs) are given in this paper. Each question carries two marks.

(A) Input ان پٹ (B) Output آؤٹ پٹ
(C) Processing پروسیسنگ (D) Storage سٹوریج
6. سسٹم باکس پر کمپیوٹر کو چلانے اور فائلز لوڈ کرنے کے لیے جو بٹن دباتے ہیں اسے _____ بٹن کہتے ہیں۔

6. Computer starts and load files by pressing _____ button on the system box.

(A) start شارٹ (B) power پاور
(C) control کنٹرول (D) menu مینو

7. A bar which includes a start button and notification area is called:

(A) Notification bar نوٹیفیکیشن بار (B) Toolbar ٹول بار
(C) Quick bar کوئیک بار (D) Task bar ٹاسک بار

8. ایک یوزر کہاں سے ختم کی گئی فائلیں دوبارہ حاصل کر سکتا ہے؟

8. From where a user can restore deleted files?

(A) My computer مائی کمپیوٹر (B) My Documents مائی ڈاکومنٹس
(C) Recycle Bin ری سائیکل بن (D) Internet Explorer انٹرنیٹ ایکسپلورر

9. Picture.jpg میں لفظ Picture _____ ہے۔

9. In "Picture.jpg" the word Picture is :

(A) File name فائل کا نام (B) File extension فائل کا ایکسٹینشن
(C) Folder name فولڈر کا نام (D) Folder extension فولڈر کا ایکسٹینشن

1. ایک حقائق اور اشکال کا مجموعہ جو لوگوں کے لیے سمجھنا مشکل ہو _____ کہلاتا ہے۔
1. A collection of facts and figures which is difficult for people to understand is called:

(A) Information معلومات (B) Data ڈیٹا
(C) Process عمل (D) Instructions ہدایت

2. انٹرنیٹ ایکسپلورر کا ہوم پیج _____ ہے۔

2. Collection of instructions given to computer to perform a specific task is called:

(A) Commands کمانڈز (B) Software سافٹ ویئر
(C) Statements سٹیٹمنٹس (D) Expressions ایکسپریشنز

3. بنیادی فائدہ جس میں کمپیوٹر بہت سارے کام درست کے ساتھ کر سکتا ہے اسے _____ کہتے ہیں۔

3. Key benefits of using the computer are _____ by which a computer can perform variety of tasks with accuracy.

(A) Speed رفتار (B) Accuracy درست
(C) Diligence ڈیلیجنس (D) Versatility ورسائیلیٹی

4. ایسی کیز جو الفاظ، نمبرز اور کچھ ایشن پر مشتمل ہیں ان کو _____ کہتے ہیں۔

4. Keys consisting of letters, numbers, and punctuations on the keyboard are called :

(A) Function keys فنکشن کیز
(B) Alpha-numeric keys الفانومیرک کیز
(C) Numeric keys نوامیرک کیز
(D) Navigation keys نیویگیشن کیز

5. کس آپریشن کی ذریعہ سی پی یو پروسیسنگ کے بعد ڈیٹا مانیٹر کو بھیجتا ہے؟

5. By which operation the CPU send data to monitor after processing?

- (A) For Finger (B) Middle Finger
(C) Ring Finger (D) Thumbs

18. انٹرنیٹ _____ کا سب سے بڑا اور وسیع کمپیوٹر کا نیٹ ورک ہے۔

18. The Internet is the biggest and wider communication network of computers around the _____.

- (A) کائنات universe (B) دنیا world
(C) ملک country (D) شہر city

19. سرچ انجن ایک _____ ہے جس سے یوزر انٹرنیٹ پر ڈیٹا اور ویب سائٹس تلاش کر سکتے ہیں۔

19. A search engine is a/an _____ through which users can search contents on internet and find web pages.

- (A) براؤزر browser (B) سسٹم system
(C) انٹرنیٹ internet (D) ویب سائٹ website

20. کون سا آپشن کسی دوسرے یوزر کو تصاویر، میوزک، خبریں اور فائلز / انٹرنیٹ کے ذریعے سے بھیجنے کے لیے استعمال کیا جاتا ہے۔

20. Which option is used to send pictures, music, news and files to other users through internet?

- (A) Instant messaging فوری پیغام
(B) Phone calls فون کالز
(C) E-mail ای میل
(D) Video Calls ویڈیو کالز

21. The full form for URL is: یو آر ایل کی مکمل فارم ہے:

- (A) Unique Resource Locator یونیک ریسیورس لوکیٹر
(B) Uniform Resource Locator یونیفارم ریسیورس لوکیٹر
(C) Uniform Resort Locator یونیفارم ریسورٹ لوکیٹر
(D) Uniform Resource Location یونیفارم ریسیورس لوکیشن

22. _____ ایک تیز رفتار انٹرنیٹ ٹیکنالوجی ہے۔

22. _____ is high-speed internet technology.

- (A) Cable Modem کیبل موڈیم
(B) Digital Subscriber Line ڈیجیٹل سبسکرائبر لائن
(C) Dial-up Modem ڈائیل اپ موڈیم
(D) All of these تمام

23. انٹرنیٹ استعمال کرتے ہوئے کس کنکشن میں لائن مصروف رہتی ہے اور فون کال نہیں کی جاسکتی؟

23. In which connection, line remains busy and one cannot make phone calls while using internet?

- (A) Telephone Modem Dial-up Connection ٹیلی فون موڈیم ڈائیل اپ کنکشن
(B) DSL Modem Connection ڈی ایس ایل موڈیم کنکشن
(C) Cable Modem Connection کیبل موڈیم کنکشن
(D) Optical Fiber Connection آپٹیکل فائبر کنکشن

24. _____ کلید کو دبایا کر ویب سائٹ کو اپن کرتے ہیں جب ایڈریس بار میں ایڈریس لکھا جاتا ہے۔

24. _____ key is pressed to open website when address is typed in address bar.

- (A) Shift شفٹ (B) Control کنٹرول
(C) Enter انٹر (D) Alt آلٹ

25. انٹرنیٹ کے ساتھ جڑنے کے کتنے طریقے ہیں؟

25. The most commonly used internet services are:

- (A) 2 (B) 4
(C) 6 (D) 8

10. EDC کو صحیح طور پر ٹائپ کرنے کے لیے بائیں ہاتھ کی کون سی انگلی استعمال ہونی چاہیے؟

10. Which finger of left hand should be used to type EDC correctly?



- (A) For finger (B) Middle finger
(C) Ring finger (D) Little finger

11. ایک فائل / فولڈر کا کاپی کرنا اس کو دوسری جگہ پر _____ کرنا ہے۔

11. Copying a file/folder means to _____ it at another location.

- (A) دوبارہ نقل reproduce (B) منظم maintain
(C) حرکت move (D) ختم delete

12. کی بورڈ پر بائیں ہاتھ والی ہوم کیوز ہیں:

12. Home keys for the left hand on the keyboard are:

- (A) J K L (B) U I O P
(C) B N M (D) A S D F

13. مائیکروسافٹ ورڈز Ctrl + A کو دبانے سے _____ کے ڈیٹا کی سلیکشن ہوجاتی ہے۔

13. Ctrl + A shortcut key is used for the selection of all contents of _____ in MS Word.

- (A) ڈاکیومنٹ document (B) پیاراگراف paragraph
(C) لائن line (D) سیکشن section

14. ایک ڈاکیومنٹ میں ٹیکسٹ کو ایک جگہ سے دوسری جگہ منتقل کرنے کے لیے کس آپشن کو استعمال کیا جاتا ہے؟

14. Which option is used to move the text from one position to another in a document?

- (A) کٹ اور پیسٹ Cut and Paste (B) آلٹ اور پیسٹ Alt and Paste
(C) مریج Merge (D) سلیکٹ Select

15. دستاویز میں متن کو شامل کرنا، ہٹانا اور دوبارہ ترتیب دینے کو _____ کہا جاتا ہے۔

15. Adding, removing and re-arranging text in the document is called _____.

- (A) ٹیکسٹ کو کاپی کرنا Text Copying (B) ٹیکسٹ ایڈیٹنگ Text Editing
(C) ٹیکسٹ کو فارمیٹ کرنا Text Formatting (D) ٹیکسٹ کو کٹ کرنا Text Cutting

16. ٹائپنگ سیکھتے وقت پہلے _____ کیز چلائی سیکھی جاتی ہیں۔

16. Which keys are practiced first while learning typing?



17. ٹائپنگ قوانین کے مطابق اسپیس بار کی ہمارے ہاتھ کی کس انگلی یا انگلیوں سے دبائی جاتی ہے؟

17. According to typing rules the Spacebar key is pressed by which finger(s) of our hand?



SCHOOL BASED ASSESSMENT 2021
GRADE 6
COMPUTER EDUCATION

School Name: _____
Tehsil: _____ District: _____
Student Name: _____ Section: _____
Roll Number: _____ Date: _____

General Insutrction for Students:

1) Use mask and keep 3 feet distance from each other.

2) Read carefully and attempt all questions.

3) Encircle the correct option of each of the Multiple Choice Questions (MCQs) as shown in the example given below.

(3) ہر کثیر الانتخابی سوال کے صحیح جواب پر دائرہ لگائیں جیسا کہ نیچے دی گئی مثال میں دکھایا گیا ہے۔

Example: The performance of computer depends upon given:

(A) Commands کمانڈز (B) Statements سٹیٹمنٹس



ہدایات Instructions

(D) Keywords کی ورڈز

4) If more than one options are encircled in a question, no mark will be given.

(4) اگر کسی سوال میں ایک سے زیادہ جوابات کے گرد دائرہ لگایا گیا تو کوئی نمبر نہیں دیا جائے گا۔

Total Marks: 50	Multiple Choice Questions	Total Time: 1 Hour
------------------------	----------------------------------	---------------------------

ہدایات: اس پرچہ میں پچیس (25) کثیر الانتخابی سوالات دیے گئے ہیں۔ ہر سوال کے دو نمبر ہیں۔

Instructions: Twenty-five (25) Multiple Choice Questions (MCQs) are given in this paper. Each question carries two marks.

5. By which operation the computer solves the problem after taking data from user?

- (A) ان پٹ Input (B) آؤٹ پٹ Output
(C) پروسسنگ Processing (D) سٹوریج Storage

6. کون سا وہ سافٹ ویئر ہے جو کمپیوٹر پر کام کرنے کے لیے پلیٹ فارم مہیا کرتا ہے؟

6. Which is the software that provides platform to work on the computer?

- (A) Microsoft Windows (B) Microsoft Office
(C) Microsoft Media Player (D) Command Prompt

7. ونڈوز کے آغاز کے بعد، کمپیوٹر پر ظاہر ہونے والی پہلی اسکرین کو _____ کہتے ہیں۔

7. After starting of Windows, the first screen that appears on a computer is called:

- (A) شارٹ مینیو Start Menu
(B) ڈاکیومنٹ ونڈوز Document window
(C) ڈیسک ٹاپ Desktop (D) بوت سکرین Boot Screen

8. جب فائلوں کو کامیابی سے کمپیوٹر پر لوڈ کیا جاتا ہے، _____ ظاہر ہوتی ہے۔

8. When files are successfully loaded into the computer, _____ appears.

- (A) ڈیسک ٹاپ سکرین desktop screen
(B) ڈاکیومنٹ سکرین document screen
(C) ونڈو سکرین window screen
(D) ویلکم سکرین welcome screen

9. انسٹال پروگرام _____ میں دیکھے جاسکتے ہیں۔

9. Installed programs can be seen in:

- (A) ٹاسک بار taskbar (B) ڈیسک ٹاپ desktop
(C) شارٹ مینیو start menu (D) نوٹیفیکیشن ایریا notification area

1. ”کمپیوٹر غلط نتائج اس وقت دیتا ہے جب ناقص ڈیٹا ہدایات دی گئیں ہو۔“
اوپر دیا گیا بیان کمپیوٹر کی کس خصوصیت کو بیان کرتا ہے؟

1. "Computer gives wrong results only when defective data or instructions are given"
The above statement refers to which characteristic.

- (A) درستی Accuracy (B) دلیجنس Diligence
(C) رفتار Speed (D) ورسٹائلٹی Versatility

2. مندرجہ ذیل میں سے کون سی سافٹ ویئر کی ایک مثال ہے؟

2. Which of the following is an example of software?

- (A) سکینر Scanner (B) ونڈوز Windows
(C) پرنٹر Printer (D) کیمرہ Camera

3. کمپیوٹر پروسسنگ کے بعد سٹوریج شدہ ڈیٹا پروسسنگ ڈیٹا کو _____ کہتے ہیں۔

3. Computer processed or stored data after processing is known as :

- (A) راڈیٹا raw data (B) انفارمیشن information
(C) ان پٹ input (D) آؤٹ پٹ output

4. سٹینڈرڈ کی بورڈ کے دائیں جانب کی کیز جن میں ہندسوں کی کیز اور ریاضی کی آپریٹرز کی کیز (+, -, *, /) ہوتی ہیں، کہلاتی ہیں۔

4. The right side keys of the standard keyboard that contains digit keys and mathematical operator's keys (+, -, *, /) are called:

- (A) فنکشن کیز Function keys (B) نمبر کیز Numeric keys
(C) الفا-نومیرک کیز Alpha-numeric keys
(D) کرسور کنٹرول کیز Cursor Control Keys

5. کس آپریشن کے تحت پوزر سے ڈیٹا لینے کے بعد کمپیوٹر مسئلہ حل کرتا ہے؟

18. انٹرنیٹ _____ کی ایک مثال ہے۔

18. Internet is an example of :

- (A) LAN لین (B) WAN وین
(C) MAN مین (D) PAN پین

19. گوگل سرچ انجن کے ذریعے ویب سائٹ تلاش کرنے کے لیے آپ کو _____ ویب صفحہ کھولنا چاہیے۔

19. You must open ----- webpage to search websites through Google search engine.

- (A) www.msn.com (B) www.yahoo.com
(C) www.google.com (D) www.altavista.com

20. _____ ایک کم رفتار اور سستی ٹیکنالوجی ہے۔

20. _____ is a slow speed and inexpensive technology.
(A) Telephone Modem Dial-up Connection ٹیلی فون موڈیم ڈائل اپ کنکشن
(B) DSL Modem Connection ڈی ایس ایل موڈیم کنکشن
(C) Cable Modem Connection کیبل موڈیم کنکشن
(D) Mobile Phone Connection موبائل فون کنکشن

21. The _____ is the group of networks of computers around the world.

- (A) network نیٹ ورک (B) internet انٹرنیٹ
(C) internet انٹرنیٹ
(D) virtual network ورچوئل نیٹ ورک

22. ویب سائٹ تک رسائی حاصل کرنے کے لیے آپ کو گوگل کروم ویب براؤزر کے _____ پر پورا ایل پرفراہم کرنا ہوگا۔

22. To access the website, you must provide the URL on ----- of the Google chrome web browser.

- (A) Search bar سرچ بار (B) Title bar ٹائٹل بار
(C) Status bar اسٹیٹس بار (D) Address bar ایڈریس بار

23. ڈائل اپ موڈیم کو نیٹکشن ایک ٹیکنالوجی ہے جو یوزر کی _____ کو استعمال کرتے ہوئے انٹرنیٹ سے جڑنے میں مدد کرتی ہے۔

23. The Dial-up Modem connection is a technology that helps users to connect to the internet using_____.

- (A) Coaxial cable کو ایکسل کیبل
(B) Standard Telephone Lines اسٹینڈرڈ ٹیلی فون لائنز
(C) Optical fiber cable آپٹیکل فائبر کیبل
(D) Twisted Pair cable ٹوئسٹڈ پیئر کیبل

24. انٹرنیٹ ایکسپلورر کی ایک قسم ہے جو کہ انٹرنیٹ پر ورڈ وائنڈ ویب تک رسائی کے لیے استعمال ہوتا ہے۔

24. Internet Explorer is a type of _____ used to access the World Wide Web on the internet.

- (A) Web Browser ویب براؤزر (B) Search Engine سرچ انجن
(C) Website ویب سائٹ (D) Web address ویب ایڈریس

25. گوگل کروم ایک _____ قسم کا سافٹ ویئر ہے۔

25. Google Chrome is a _____ type of software.
(A) Multimedia ملٹی میڈیا (B) System سسٹم
(C) Gaming گیمنگ (D) Web Browser ویب براؤزر

10. بائیں ہاتھ کے _____ انگلی کو نیچے دی گئی کیبز کو ٹائپ کرنے کے لیے استعمال کیا جاتا ہے۔

10. -----finger of left hand is used for typing the below mentioned keys.



- (A) Middle (B) Ring
(C) Little (D) Fore

11. _____ لفافوں کی طرح ہوتے ہیں جس میں صارف ڈیٹا رکھ سکتا ہے۔

11. ----- are like envelopes in which a user can place data.

- (A) Icons آئیکنز (B) Folders فولڈرز
(C) Files فائلز (D) Windows ونڈوز

12. _____ کیبز کی بورڈ پر ہوم کیبز کے اوپر پائی جاتی ہیں۔

12. ----- keys are present above the Home keys of the keyboard.

- (A) Z X C V B N (B) Q W E R T Y
(C) A S D F G H (D) G H J K L

13. مائیکروسافٹ ورڈ میں خالی یا نیٹا ڈاکیومنٹ کو اوپن کرنے کے لیے _____ شارٹ کٹ کو استعمال کیا جاتا ہے۔

13. _____ shortcut key is used for opening a blank or empty document in MS Word.

- (A) Ctrl + O (B) Ctrl + N
(C) Ctrl + A (D) Ctrl + S

14. _____ سافٹ ویئر ایک ورڈ پروسیسنگ سافٹ ویئر ہے۔

14. ----- software is a word processing software.

- (A) Ms Paint ایم ایس پینٹ (B) Ms Word ایم ایس ورڈ
(C) Ms Excel ایم ایس ایکسل
(D) Ms Power Point ایم ایس پاور پوائنٹ

15. ٹائپنگ کے دوران جب ہم لائن کے اختتام پر پہنچ جاتے ہیں، مائیکروسافٹ ورڈ خود بخود _____ کر کے متن کو اگلی لائن میں لے جاتا ہے۔ اس عمل کو کیا کہتے ہیں؟

15. During typing when we reach at the end of line, Microsoft Word automatically _____ the text to the next line?

- (A) Move منتقل کرنا (B) Wrap سیٹھنا
(C) Remove ختم کرنا (D) Merge جوڑ دینا

16. _____ سافٹ ویئر ٹائپنگ کی رفتار اور اسے بالکل درست بنانے کے لیے استعمال ہوتا ہے۔

16. ----- software is used to improve speed and accuracy of typing.

- (A) Notepad (B) Paint
(C) Word (D) Typing Tutor

17. مندرجہ ذیل میں سے کون سی کیبز ہوم ریز کے نام سے مشہور ہیں؟

17. Which of the following Keyboard keys are known as home rows keys?



- (A) Q W E R T Y U I (B) A S D F J K L
(C) Z X C V B N M (D) E V C W B X O P

SCHOOL BASED ASSESSMENT 2021
GRADE 6
English

School Name (EMIS code): _____
Tehsil: _____ District: _____
Student Name: _____ Section: _____
Roll Number : _____ Date: _____

General Instructions:

- (1) Use mask & keep at least 3 ft. distance from each other.
- (2) Read carefully and attempt all questions.
- (3) Encircle the correct option of each of the Multiple Choice Questions (MCQs) as shown in the example given below.

Example: I am _____ my homework.

(a) does

(b) do



doing

(d) did

- (4) If more than one options are encircled in a question, no mark will be given.

Total Marks: 50	Part-A (Multiple Choice Questions)	Time: 1 h minutes
------------------------	---	--------------------------

Instructions: - Twenty five (25) questions are given in this paper. Each question carries 2 marks

Q.No.1. Choose the word with correct spelling.

- | | |
|-------------|-------------|
| a) Elephant | b) Elephent |
| c) Elefhent | d) Elefhant |

Q.No.2. Identify the synonym of "Charming".

- | | |
|-------------|---------------|
| a) Grateful | b) Successful |
| c) Thankful | d) Attractive |

Q.No.3. "Where is my sister? I cannot find _____."

- | | |
|---------|--------|
| a) hers | b) him |
| c) her | d) me |

Q.No.4. Identify the word which has long vowel sound.

- | | |
|--------|--------|
| a) Set | b) Met |
| c) Pet | d) Eat |

Q.No.5. What will you say in the situation when meeting someone is a pleasant experience for you?

- | | |
|----------------------|------------------------|
| a) How do you do? | b) Good to see you. |
| c) You already know. | d) We have met before. |

Q.No.6. Choose the correct form of verb to a make present indefinite.

"She _____ her prayers regularly."

- | | |
|----------------|----------------|
| a) offers | b) offer |
| c) is offering | d) has offered |

Q.No.7. Identify the word which has diphthong.

- | | |
|------------|---------|
| a) Black | b) Rock |
| c) Teacher | d) Pull |

Q.No.8. "Shan knows how to drive _____ car."

- | | |
|--------|--------|
| a) the | b) a |
| c) an | d) one |

Q.No.9. Choose the sentence having regular form of verb.

- | | |
|-----------------------|-------------------------|
| a) They go to school. | b) They work very hard. |
| c) They speak loudly. | d) They wake up early. |

Q.No.10. Choose the correct form to make present continuous.

"It is _____ at present."

- | | |
|-----------|------------|
| a) rained | b) rains |
| c) rain | d) raining |

Q.No.11. Choose the adverb of frequency to fill in the blank given sentence.

"My sister _____ reads a book in the evening."

- | | |
|-----------|--------------|
| a) here | b) yesterday |
| c) nicely | d) often |

Q.No.12. Choose the correct punctuation mark to complete the sentence.

"How do you go to school_____"

- a) ! b) ?
- c) . d) ,

Q.No.13. Identify the antonym of "Lazy".

- a) Wise b) Active
- c) Idle d) Busy

Q.No.14. "Was he _____ carefully?"

- a) drive b) driving
- c) drove d) drives

Q.No.15. Identify the collective noun.

- a) Woman b) Life
- c) House d) Army

Q.No.16. "The schools will reopen_____ January."

- a) off b) at
- c) to d) in

Q.No.17. "I saw_____ men in the ground."

- a) some b) any
- c) much d) an

Q.No.18. Choose the correct option to complete the first conditional sentence.

"If you work hard, you_____."

- a) have succeed b) shall succeed
- c) can succeed d) were succeed

Q.No.19. This book is _____ expensive for me.

- a) and b) to
- c) or d) too

Q.No.20. Choose the adverb of time to complete the sentence.

"She visited her aunt_____."

- a) earlier b) nicely
- c) seldom d) there

Paragraph: Read the paragraph carefully and answers the following questions.

Healthy food helps to maintain and save life. Healthy

food serves as medicine whereas unhealthy food works as poison. A little care about the quality and quantity of food will keep us healthy and fit. If we go about eating all sorts of things, we shall fall sick. We eat processed food and refined sugar quite often. We pay heavily for junk food or deep fried food items. We laugh at the rules of hygiene, healthy diet and the advice of our elders. We offer chocolates, cakes and ice creams too often to our children. We also attend parties or dine out every other day. As a result, we catch diseases and fall sick. We must adapt ourselves to healthy eating habits to live a healthy and fit life.

Q.No.21. What is the paragraph about?

- a) Processed and Junk Food
- b) Ice-creams
- c) Food and Eating Habits
- d) Sick People

Q.No.22. We can stay healthy by:

- a) utilising refined sugar in excess.
- b) consuming improper food.
- c) eating processed food items.
- d) eating healthy and fresh food.

Q.No.23. We pay heavily for junk food. The word "heavily" means:

- a) Little b) Less
- c) Some d) More

Q.No.24. What is the main reason of becoming sick?

- a) Eating all sorts of unhealthy things.
- b) Using different medicines.
- c) Eating vegetables and fruits.
- d) Taking proper food hygienically.

Q.No.25. What message do we get from the paragraph?

- a) Eating outside keeps us healthy.
- b) Medicines are necessary for us.
- c) Consume processed food and sugar for good life.
- d) Healthy food habits, help to lead healthy life.

SCHOOL BASED ASSESSMENT 2021
GRADE 6
English

School Name (EMIS code): _____
Tehsil: _____ District: _____
Student Name: _____ Section: _____
Roll Number : _____ Date: _____

General Instructions:

- (1) Use mask & keep at least 3 ft. distance from each other.
- (2) Read carefully and attempt all questions.
- (3) Encircle the correct option of each of the Multiple Choice Questions (MCQs) as shown in the example given below.
Example: I am _____ my homework.
(a) does (b) do (c) doing (d) did
- (4) If more than one options are encircled in a question, no mark will be given.

Total Marks: 50	Part-A (Multiple Choice Questions)	Time: 1 h minutes
-----------------	------------------------------------	-------------------

Instructions: - Twenty five (25) questions are given in this paper. Each question carries 2 marks

Q.No.1. Identify the option with correct spelling.

- a) Tellelevision b) Television
c) Telivision d) Televission

Q.No.2. What is the synonym of the word "Litter"?

- a) Fresh b) Clean
c) Waste d) Strong

Q.No.3. "The girl is eating _____ meal."

- a) his b) her
c) your d) their

Q.No.4. Which word has a long vowel sound?

- a) Not b) Note
c) Cup d) Pen

Q.No.5. You want to invite your friends on your birthday party. What will you say to invite them?

- a) My birthday is on 12th of this month.
b) I would like to celebrate my party at home.
c) I have ordered a cake for my birthday party.
d) I would like your presence at my birthday party.

Q.No.6. Choose the present indefinite sentence from the following.

- a) An officer is working in the office.

- b) They have gone to Canada for study.
c) Shahbaz sells newspaper daily in his area.
d) The girls were decorating their rooms.

Q.No.7. Identify the word which is diphthong.

- a) Full b) Pure
c) Cow d) Cool

Q.No.8. Complete the sentence with the correct use of appropriate article.

One of _____ best preventive step for corona virus is wearing a mask.

- a) the b) a
c) an d) any

Q.No.9. Choose the sentence having regular form of verb.

- a) We began to work.
b) They walk on the road.
c) You go to your school.
d) I always run in ground.

Q.No.10. Select the present continuous sentence from the following.

- a) My father is a good businessman.
b) We are sitting in the garden for rest.
c) She has moved to other city for job.
d) He will take admission in new school.

Q.No.11. Which kind of adverb is used in the following sentence?

"Sana never drinks coffee."

- a) Adverb of frequency b) Adverb of place
c) Adverb of time d) Adverb of manner

Q.No.12. Use correct punctuation to complete the sentence. "I am getting bored ____"

- a) ? b) !
c) . d) ,

Q.No.13. Identify the antonym of "Boring".

- a) Tiring b) Exciting
c) Expected d) Routine

Q.No.14. Choose past continuous tense from the following.

- a) He was studying in the library.
b) They are watching movie in the cinema.
c) He is drinking coffee in the coffee shop.
d) She is playing tennis in the court.

Q.No.15. Choose the collective noun from the following.

- a) Student b) Society
c) Member d) Player

Q.No.16. "His wife is going _____ the hospital."

- a) of b) from
c) with d) to

Q.No.17. "There is _____ in my bag. It is empty."

- a) something b) nothing
c) anything d) everything

Q.No.18. "If you eat unhealthy food you _____ sick."

- a) will fall b) were fell
c) are fallen d) are fall

Q.No.19. I saw a giraffe _____ a lion in the zoo.

- a) but b) and
c) or d) too

Q.No.20. Use adverb of time to complete the sentence.

"I will join you in the park_____."

- a) immediately b) there
c) cheerfully d) very

Paragraph: Read the paragraph carefully and answer the following questions.

Lahore is a historic city of Pakistan. It is called the City of Gardens. It is the second biggest city of the country. The city is rich in culture. People come from all the provinces of Pakistan in this city. There are many opportunities for people to work, study and get medical facilities. The people of the city are cooperative. Badshahi Mosque and Minar-e-Pakistan are famous places. It is also the capital of the province, Punjab. It is 270 kilometers far from the capital of Pakistan, Islamabad. Lahore is the core of education and training. It is the city where Punjab University and government College University located. Indeed, Lahore is has great historical values.

Q.No.21. What is the paragraph about?

- a) Historical Buildings
b) Famous Colleges
c) Beautiful Gardens
d) A City of Gardens

Q.No.22. Where is Minar-e-Pakistan situated?

- a) Islamabad b) Lahore
c) Faisalabad d) Jhang

Q.No.23. What is the meaning of the word "Opportunity"?

- a) Event b) Salary
c) Chance d) Celebration

Q.No.24. We read about all these in the paragraph EXCEPT:

- a) opportunities b) great colleges
c) city's weather d) parks and gardens

Q.No.25. Choose the correct information about the above paragraph.

- a) Lahore is the capital of Pakistan.
b) It is known as a City of Lights.
c) There is no opportunity for people.
d) It is the second biggest city of Pakistan.

SCHOOL BASED ASSESSMENT 2021

GRADE 6

GEOGRAPHY/HISTORY

School Name : _____

Tehsil: _____ **District:** _____

Student Name: _____ **Section:** _____

Roll Number: _____ **Date:** _____

General Insutrction for Students:

1) Use mask and keep 3 feet distance from each other.

2) Read carefully and attempt all questions.

3) Encircle the correct option of each of the Multiple Choice Questions (MCQs) as shown in the example given below.

(3) ہر کثیر الانتخابی سوال کے صحیح جواب پر دائرہ لگائیں جیسا کہ نیچے دی گئی مثال میں دکھایا گیا ہے۔

Example: Which country is located in north of Pakistan?

مثال: پاکستان کے شمال میں کون سا ملک واقع ہے؟

(A) India بھارت

(B) Afghanistan افغانستان



China چین

(D) Iran ایران

4) Use black/blue ink for writing. Use of lead pencil is not allowed.

(4) لکھنے کے لیے کالی/نیلی روشنائی کا استعمال کریں۔ کچی پینسل کے استعمال کی اجازت نہیں ہے۔

5) If more than one options are encircled in a question, no mark will be given.

(5) اگر کسی سوال میں ایک سے زیادہ جوابات کے گرد دائرہ لگایا گیا تو کوئی نمبر نہیں دیا جائے گا۔

Total Marks: 50	Multiple Choice Questions	Total Time: 1 Hour
------------------------	----------------------------------	---------------------------

ہدایات: اس پرچہ میں پچیس (25) کثیر الانتخابی سوالات دیے گئے ہیں۔ ہر سوال کے دو نمبر ہیں۔

Instructions: Twenty-five (25) Multiple Choice Questions (MCQs) are given in this paper. Each question carries two marks.

4. پیمانے کی بنیادی قسمیں ہیں:

4. The basic direction of scale are:

(A) One ایک (B) Two دو

(C) Three تین (D) Four چار

5. عطارد اور زہرہ کے انتہائی گرم ہونے کی وجہ ہے:

5. The Mercury and Venus are very hot due to:

(A) hot gases گرم گیسیں (B) nearer to sun سورج کی نزدیکی

(C) force of gravity کشش ثقل (D) molten material آتشیں مواد

6. اندرونی اور بیرونی آتشیں چٹانیں اور آتشیں مادے کے ٹھوس ہونے پر مبنی ہیں:

6. Intrusive and extrusive Igneous rocks are formed as a result of solidification of molten matter:

(A) on the surface of the earth سطح زمین پر

(B) deep inside the earth زمین کے اندر گہرائی میں

(C) deep inside the earth and on the surface زمین کے اندر گہرائی میں اور سطح زمین پر

(D) only on the bank of rivers صرف دریاؤں کے کناروں پر

7. بناوٹ کے لحاظ سے چٹانوں کی تین اقسام ہیں، ان میں کون سی قسم ان تین کا حصہ نہیں ہے؟

7. According to their formation, rocks are classified into three types. Which one is NOT among those three?

(A) Igneous rocks آتشیں چٹانیں

(B) Sedimentary rocks تہ دار چٹانیں

1. نظام شمسی کا سب سے گرم سیارہ ہے:

1. The hottest planet of the solar system is:

(A) Venus زہرہ (B) Earth زمین

(C) Mars مریخ (D) Jupiter مشتری

2. سورج گرہن لگتا ہے جب:

2. Solar eclipse occurs when:

(A) the Moon comes between Earth and Sun چاند زمین اور سورج کے درمیان آتا ہے

(B) the Sun comes between Earth and Moon سورج زمین اور چاند کے درمیان آتا ہے

(C) the Earth comes between Moon and Sun زمین چاند اور سورج کے درمیان آتی ہے

(D) the Earth comes between Mars and Moon زمین مریخ اور چاند کے درمیان آتی ہے

3. پیمانہ میں زمین کے فاصلوں کو نقشے پر نسبت دی جاتی ہے

3. In scale, ratio is established between ground and map with:

(A) long distances بڑے فاصلوں سے

(B) short distances چھوٹے فاصلوں سے

(C) medium distances درمیانے فاصلوں سے

(D) dot distances نقاطی فاصلوں سے

- (C) External and internal factors اندرونی اور بیرونی عوامل نے
(D) Natural factors قدرتی عوامل نے

17. آریا مقامی آبادی سے مختلف تھے:

17. Aryans were different from locals in:

- (A) Religion مذہب میں (B) Philosophy فلسفہ میں
(C) Civilizations تہذیب میں
(D) Religion, Philosophy and Civilization مذہب، فلسفہ اور تہذیب میں

18. گندھارا آرٹ ہے:

18. Gandhara Art is:

- (A) Diamond Carving ہیرا تراشی (B) Iron Carving لوہا تراشی
(C) Stone Carving سنگ تراشی (D) Wood Carving لکڑی تراشی

19. آریائی لوگ تقسیم تھے مختلف:

19. Aryans were divided into different:

- (A) religions مذاہب میں (B) tribes قبائل میں
(C) sects فرقوں میں (D) races نسلوں میں

20. فتح دہلی کے وقت مسلمانوں کا اہم ہتھیار تھا:

20. Muslim's important weapon at the conquest of Debal was:

- (A) Gun بندوق (B) Canon توپ
(C) Catapult منجنیق (D) Iron rod لوہے کا بھالا

21. البیرونی مشہور سائنسدان تھا:

21. Al-Biruni was a famous scientist in the period of:

- (A) Ahmad Shah Abdali احمد شاہ ابدالی کے دور میں
(B) Sultan Mahmood Ghaznawi سلطان محمود غزنوی کے دور میں
(C) Shahab Ud Din Ghauri شہاب الدین غوری کے دور میں
(D) Sher Shah Suri شیر شاہ سوری کے دور میں

22. علاؤ الدین خلجی کا تعلق تھا:

22. Allau din Khilji was belonged to:

- (A) Turk race ترک نسل سے (B) Afghani race افغان نسل سے
(C) Iranian race ایرانی نسل سے (D) Arab race عرب نسل سے

23. محمد شاہ تغلق نے دار الحکومت کو دہلی سے دولت آباد منتقل کیا:

23. Muhammad Shah Tughlaq shifted the capital from Dehli to Dolatabad because of:

- (A) wars جنگوں کی وجہ سے
(B) vast empire وسیع عریض سلطنت کی وجہ سے
(C) trade تجارت کی وجہ سے (D) floods سیلاب کی وجہ سے

24. سلاطین دہلی کے دور میں موسیقی میں ہونے والی ترقی کا سہرا ہے:

24. In Delhi saltant, the credit of promotion of music goes to:

- (A) Ameer Khusru امیر خسرو کے
(B) Qutub-ud-din-Aibak قطب الدین ایبک کے
(C) Tan-San تان سین کے
(D) Nizam-ud-Din نظام الدین کے

25. دہلی سلطنت میں ”دیوان برید“ تھا:

25. In Dehli saltant "Dewaan-e-Bureed" was:

- (A) postal system ڈاک کا نظام (B) army system فوج کا نظام
(C) judicial system عدل کا نظام (D) health system صحت کا نظام

(C) Stiff rocks سخت چٹانیں

(D) Metamorphic rocks متغیر چٹانیں

8. ہمالیہ، ایلپس، راگیز اور انڈیز سلسلے ہیں:

8. Himalayas Alps, Rockies and Andes are ranges of:

- (A) Folded mountains ملفوفہ پہاڑ
(B) Volcanoes آتش فشانی پہاڑ
(C) Block mountains بلاک نما پہاڑ
(D) Soil mountains مٹی کے پہاڑ

9. سطح مرتفع پوٹوہار سے قریب تر ریگستان ہے:

9. The desert near the potohar plateau is:

- (A) Thal تھل (B) Thar تھر
(C) Cholistan چولستان (D) Kharan خاران

10. آبادی کی گنتی کا عمل کہلاتا ہے:

10. The process of counting of population is called:

- (A) Density گنجانیت (B) Cenus مرد شماری
(C) Demography ڈیموگرافی (D) Migration نقل مکانی

11. کون سا علاقہ کم گنجان آباد ہے؟

11. Which area is less densely populated?

- (A) France فرانس (B) Pakistan پاکستان
(C) Australia آسٹریلیا
(D) great desert (Sahara) صحرائے اعظم (سہارا)

12. پاکستان میں کم گنجان آباد علاقہ ہے:

12. The lowest populated area of Pakistan is:

- (A) FATA فاٹا
(B) Gilgit/Baltistan گلگت / بلتستان
(C) Baluchistan بلوچستان
(D) Islamabad اسلام آباد

13. غاروں سے نکل کر انسان آباد ہوئے:

13. After leaving caves human being settled in:

- (A) Forest جنگلی علاقوں میں (B) Hilly Areas پہاڑی علاقوں میں
(C) River Valleys دریاؤں وادیوں میں
(D) Desert Areas صحرائی علاقوں میں

14. وادی سندھ کی تہذیب کے لوگ کاشتکاری کے لیے پانی روک لیتے تھے:

14. The people of Indus valley civilization retained water by making:

- (A) dams on rivers دریاؤں پر ڈیم بنا کر
(B) barrages on rivers دریاؤں پر بیراج بنا کر
(C) canals on rivers دریاؤں پر نہریں بنا کر
(D) banks on rivers دریاؤں پر پتے بنا کر

15. وادی سندھ کی تہذیب مشتمل تھی:

15. Indus valley civilization was consisted of:

- (A) Mohinjo Daro موہنجوداڑو
(B) Harappa ہڑپہ
(C) Mohinjo-Daro and Harappa موہنجوداڑو اور ہڑپہ
(D) Texila ٹیکسلا

16. وادی سندھ کی تہذیب کو تباہ کیا:

16. Indus valley civilization was destroyed by the:

- (A) Internal factors اندرونی عوامل نے
(B) External factors بیرونی عوامل نے

SCHOOL BASED ASSESSMENT 2021

GRADE 6

GEOGRAPHY/HISTORY

School Name : _____

Tehsil: _____ District: _____

Student Name: _____ Section: _____

Roll Number: _____ Date: _____

General Insutrction for Students:

1) Use mask and keep 3 feet distance from each other.

2) Read carefully and attempt all questions.

3) Encircle the correct option of each of the Multiple Choice Questions (MCQs) as shown in the example given below.

(3) ہر کثیر الانتخابی سوال کے صحیح جواب پر دائرہ لگائیں جیسا کہ نیچے دی گئی مثال میں دکھایا گیا ہے۔

Example: Which country is located in north of Pakistan?

(A) India بھارت

(B) Afghanistan افغانستان



China چین

(D) Iran ایران

4) Use black/blue ink for writing. Use of lead pencil is not allowed.

(4) لکھنے کے لیے کالی/نہلی روشنائی کا استعمال کریں۔ کچی پینسل کے استعمال کی اجازت نہیں ہے۔

5) If more than one options are encircled in a question, no mark will be given.

(5) اگر کسی سوال میں ایک سے زیادہ جوابات کے گرد دائرہ لگایا گیا تو کوئی نمبر نہیں دیا جائے گا۔

Total Marks: 50	Multiple Choice Questions	Total Time: 1 Hour
------------------------	----------------------------------	---------------------------

ہدایات: اس پرچہ میں پچیس (25) کثیر الانتخابی سوالات دیے گئے ہیں۔ ہر سوال کے دو نمبر ہیں۔

Instructions: Twenty-five (25) Multiple Choice Questions (MCQs) are given in this paper. Each question carries two marks.

6. ماحولیاتی عناصر ہوا، دریا اور گلیشیر وغیرہ چٹانوں کو توڑ پھوڑ کے نتیجے میں چٹانی ذرات دور دراز علاقوں میں جمع ہو کر بناتے ہیں:

6. Environmental elements like wind, river and glaciers erode rocks and their sediments are settled down some far off places to form:

(A) Mechanical rocks میکانیکی چٹانیں

(B) Chemical rocks کیمیائی چٹانیں

(C) Organic rocks آلیائی چٹانیں (D) Igneous rocks آتش چٹانیں

7. Mostly ocean floors are formed by Basalt rocks and Continents are formed by:

(A) Obsidian Rocks اوبسائیڈین چٹانوں سے

(B) Gabbro Rocks گیبرو چٹانوں سے

(C) Diorite Rocks ڈائیورائٹ چٹانوں سے

(D) Granite Rocks گرینائٹ چٹانوں سے

8. Rift valley is due to:

(A) the sinking of earth between the cracks زمین کا شکافوں کے درمیان دھسنا

(B) the sinking of earth between the mountain زمین کا پہاڑوں کے درمیان دھسنا

(C) the sinking of earth in desert areas زمین کا صحرائی علاقوں میں دھسنا

(D) the sinking of earth in plain areas زمین کا میدانی علاقوں میں دھسنا

9. دریائے چناب اور دریائے ستلج کے درمیان بہنے والا دریا ہے:

1. پلوٹو کو نظام شمسی سے خارج کر دیا گیا:

1. Pluto was excluded from solar system in:

(A) August 2006 اگست 2006 میں

(B) August 2007 اگست 2007 میں

(C) August 2008 اگست 2008 میں

(D) August 2009 اگست 2009 میں

2. زمین کا خشکی والا حصہ تقسیم کیا جاتا ہے:

2. The portion of the land of earth is divided into:

(A) three continents تین براعظموں میں

(B) four continents چار براعظموں میں

(C) five continents پانچ براعظموں میں

(D) seven continents سات براعظموں میں

3. اگر گرینچ میں صبح کے نو بجے ہوں تو اس جگہ کا وقت جو کہ طول بلد 30°W پر ہے، کیا ہوگا؟

3. If time in Greenwich is 09:00 AM, what will be the time of location at longitude of 30° west?

(A) 8:00 am دن کے آٹھ بجے (B) 8:00 pm رات کے آٹھ بجے

(C) 7:00 am دن کے سات بجے (D) 7:00 pm رات کے سات بجے

4. وہ پیمانہ جو الفاظ کی صورت میں لکھا جاتا ہے، کہلاتا ہے:

4. The type of scale which is described in words, is called:

(A) Linear scale خطی پیمانہ (B) Statement of scale عبارت پیمانہ

(C) Representative scale کسری پیمانہ

(D) Graphic scale گرافک پیمانہ

5. سمندر آب و ہوا کو رکھتا ہے:

(A) Pleasant خوشگوار

(B) Hot گرم

(C) Moderate معتدل

(D) Cold ٹھنڈا

(D) under a tree درخت کے نیچے

19. گوتم بدھ نے ہندو معاشرے کو درس دیا:

19. The Gautum Budh taught Hindu Society the lesson of:

- (A) cast and creed system ذات پات کا
(B) equality مساوات کا (C) conflicts لڑائی جھگڑے کا
(D) monopoly of Brahmins برہمنوں کی اجارہ داری کا

20. Somnat was the famous worshipping place of the:

- (A) Muslims مسلمانوں کی (B) Sikhs سکھوں کی
(C) Hindus ہندوؤں کی (D) Budhs بدھوں کی

21. The battles of TARAIN were fought between:

- (A) Shamasud Din and Qutbud Din Aibak
شمس الدین اور قطب الدین ایبک کے درمیان
(B) Parithvi Raj and Muhammad bin Qasim
پرتھوی راج اور محمد بن قاسم کے درمیان
(C) Parithvi Raj and Shahabud Din Ghauri
پرتھوی راج اور شہاب الدین غوری کے درمیان
(D) Parithvi Raj and shamasud Din
پرتھوی راج اور شمس الدین کے درمیان

22. The reason of division into small states of Dehli Sultanate in 1338 was:

- (A) Mongol's attacks منگول کے حملے
(B) Ameer Timor's attacks امیر تیمور کے حملے
(C) Aryan's attacks آریاؤں کے حملے
(D) Maratha's attacks مرہٹوں کے حملے

23. Feroz Shah Tughlaq emphasized the most on:

- (A) agriculture زراعت پر
(B) agriculture and industry زراعت اور صنعت پر
(C) industry صنعت پر (D) war جنگی فنون پر

24. The construction of tombs was related to the period of:

- (A) Delhi Sultans دہلی کے زمانے سے
(B) Khilji Family خلجی خاندان کے زمانے سے
(C) Lodhi Family لودھی خاندان کے زمانے سے
(D) Mughal Family مغل خاندان کے زمانے سے

25. In Sub-Continent, the base of Islamic architecture was laid by constructing:

- (A) Jamia Masjid Dehli جامع مسجد دہلی تعمیر کر کے
(B) Masjid Wazeer Khan مسجد وزیر خان تعمیر کر کے
(C) Badshahi Masjid بادشاہی مسجد تعمیر کر کے
(D) Masjid Quwwat ul Islam مسجد قوت الاسلام تعمیر کر کے

9. The river that flows between the Chenab and Sutlej is the:

- (A) Jehlum River دریائے جہلم (B) Beas River دریائے بیاس
(C) Kabul River دریائے کابل (D) Ravi River دریائے راوی

10. According to the statistics 2019, the world population is:

- (A) 6.6 billion 6.6 بلین (B) 6.7 billion 6.7 بلین
(C) 7.6 billion 7.6 بلین (D) 7.8 billion 7.8 بلین

11. The population is divided according to age into:

- (A) two parts دو حصوں میں (B) three parts تین حصوں میں
(C) four parts چار حصوں میں (D) five parts پانچ حصوں میں

12. The people less than 15 years of age in Pakistan according to the census of 2017 are:

- (A) 35.2 percent 35.2 فیصد
(B) 35.4 percent 35.4 فیصد
(C) 35.6 percent 35.6 فیصد
(D) 35.8 percent 35.8 فیصد

13. The earliest urban settlement of human history in Pakistan is:

- (A) Mohenju Daro موہنجودادڑ (B) Swat سوات
(C) Peshawar پشاور
(D) Civilization of Taxila ٹیکسیلا کی تہذیب

14. Indus Valley Civilization had relationship with southern Iran, Iraq, Egypt and Persian Gulf:

- (A) Diplomatic سفارتی (B) Trade تجارتی
(C) Religious مذہبی (D) Defense دفاعی

15. The Script of Indus valley civilization was:

- (A) Complicated پیچیدہ (B) Interesting دلچسپ
(C) interesting and easy دلچسپ اور آسان
(D) interesting and complex دلچسپ اور پیچیدہ

16. In Indus valley civilization official seals were used for:

- (A) employments to people لوگوں کو ملازمتیں دینے کے لیے
(B) issuance of official orders شاہی فرمان جاری کرنے کے لیے
(C) commercial transactions تجارتی لین دین کے لیے
(D) capital punishment to people لوگوں کو سزائے موت دینے کے لیے

17. Aryans were basically:

- (A) migrants مہاجر (B) refugees پناہ گزین
(C) polite شائستہ (D) civilized متقدم

18. Gautam Buddha, the founder of Buddhism, got spiritual knowledge:

- (A) in desert صحرائیں (B) on mountain پہاڑ پر
(C) on bank of a river دریا کے کنارے

SCHOOL BASED ASSESSMENT 2021 GRADE 6

ISLAMIAT PART – A (Objective Type)

Part-A: 30 Marks, Part-B (Nazra Quran): 20 Marks, Total: 50 Marks

School Name: _____

Tehsil: _____ District: _____

Student Name: _____ Section: _____

Roll Number: _____ Date: _____

General Insutrction for Students:

1) Use mask and keep 3 feet distance from each other.

2) Read carefully and attempt all questions.

3) Encircle the correct option of each of the Multiple Choice Questions (MCQs) as shown in the example given below.

(3) ہر کثیر الانتخابی سوال کے صحیح جواب پر دائرہ لگائیں جیسا کہ نیچے دی گئی مثال میں دکھایا گیا ہے۔

Example: How many Salah are obligatory for Muslims in a day?

مثال: مسلمانوں پر روزانہ کتنی نمازیں فرض ہیں؟

(A) Four چار

(B) Three تین

(C) Five پانچ

(D) Six چھ

4) If more than one options are encircled in a question, no mark will be given.

(4) اگر کسی سوال میں ایک سے زیادہ جوابات کے گرد دائرہ لگایا گیا تو کوئی نمبر نہیں دیا جائے گا۔

Total Marks: 30	Part-A (Multiple Choice Questions)	Total Time: 45 Minutes
-----------------	---	------------------------

ہدایات: اس حصہ میں پندرہ (15) کثیر الانتخابی سوالات دیے گئے ہیں۔ ہر سوال کے دو نمبر ہیں۔

Instructions: Fifteen (15) Multiple Choice Questions (MCQs) are given in this paper. Each question carries two marks.

4. Tashuhud is recited in Salah:
- (A) قیام کی حالت میں in the state of Qiyam
(B) رکوع کی حالت میں in the state of Ruku
(C) سجدے کی حالت میں in the state of Sajda
(D) قعدہ کی حالت میں in the state of Qada
5. Dua for the forgiveness of the deceased is called:
- (A) نمازہ جنازہ Namaz Janaza (B) نماز تسبیح Namaz Tasbeeh
(C) نمازہ تہجد Namaz Tahajjud (D) نماز اشراق Namaz Ishraq
6. In 6 AH, Rasoolullah went with fourteen hundred Sahaba for:
- (A) عمرہ کے لیے performing Umra
(B) جنگ کے لیے a battle
(C) تجارت کے لیے trading (D) صلح کے لیے conciliation

1. How many times a day does Azan get louder?
- (A) چار Four (B) پانچ Five
(C) چھ Six (D) سات Seven
2. The reason for calling Muslims to worship is unique from other religions because:
- (A) اذان کے الفاظ عربی میں ہیں the words of the Azan are in Arabic
(B) اذان میں توحید و رسالت کی شہادت ہے there is testimony of Tauheed and Risalat in Azan
(C) اذان مسجد میں دی جاتی ہے Azan is recited in Masjid
(D) اذان کے الفاظ بلند آواز میں پکارے جاتے ہیں the words of Azan are called out loud
3. Complete the translation of the Ayah, "and I created the jinn and humans to"
- (A) میرا شکر ادا کریں give thanks to me
(B) میری عبادت کریں worship me
(C) مجھے سجدہ کریں perform Sajda to me

(B) حکمت و دانائی wisdom

(C) شجاعت و بہادری courage and bravery

(D) تقویٰ و پرہیزگاری piety

15. حضرت داتا گلی بخش رحمتہ اللہ علیہ پیدا ہوئے۔

15. Hazrat Data Ali Hajwary رحمتہ اللہ علیہ was born in:

(A) افغانستان میں (B) شام میں Syria

(C) ایران میں (D) عراق میں Iraq

NAZRA QURAN AND RUBRICS

SCHOOL BASED ASSESSMENT 2021 GRADE 6
ISLAMIAT PART – B (Nazra Quran)
Total Marks:20

1. حفظ: (سورۃ الأنشراح، سورۃ التین، سورۃ القدر) (10)

ہدایات برائے متعلم: ہر بچے سے مذکورہ بالا سورتوں میں سے کوئی ایک سورت زبانی سنی جائے۔

1. تجوید کے اصولوں (رموز اوقاف، حروف کے مخارج، مد، غنہ اور قلقلہ) کو مد نظر رکھتے ہوئے روانی اور حروف کی درست ادائیگی کے ساتھ بلند آواز میں درج بالا انصاب میں سے کوئی ایک سورت زبانی سنائے 10 نمبر دیے جائیں۔

2. چٹکچاہٹ کے ساتھ رک رک کر لیکن درست زبانی سنائے 9 نمبر دیے جائیں۔

3. صرف تلفظ کی غلطیوں کے ساتھ پڑھنے کی صورت میں 8 تا 5 نمبر دیے جائیں۔

4. تلفظ کی غلطیوں کے ساتھ ساتھ لفظی غلطیوں یا حروف حذف کرنے کی صورت میں 1 تا 4 نمبر دیے جائیں۔

5. بالکل غلط یا نہ سنائے پر صفر نمبر دیا جائے۔

2. حفظ وترجمہ: (10=5 + 5)

(سورۃ البقرہ، آیت: 250؛ سورۃ الاعراف، آیت: 23؛ سورۃ الحشر، آیت: 10)

ہدایات برائے متعلم: ہر بچے سے درج بالا انصاب میں سے کسی ایک کو ترجمہ کے ساتھ زبانی سنا جائے۔

5 نمبر Rubrics: برائے حفظ

1. درج بالا انصاب میں سے کسی ایک کو تجوید کے اصولوں (رموز اوقاف، حروف کے مخارج، مد، غنہ اور قلقلہ) کو مد نظر رکھتے ہوئے روانی اور حروف کی درست ادائیگی کے ساتھ بلند آواز میں زبانی سنائے 5 نمبر دیے جائیں۔

2. چٹکچاہٹ کے ساتھ رک رک کر لیکن درست زبانی سنائے 4 نمبر دیے جائیں۔

3. صرف تلفظ کی غلطیوں کے ساتھ سنائے کی صورت میں 3 نمبر دیے جائیں۔

4. تلفظ کی غلطیوں کے ساتھ ساتھ لفظی غلطیوں یا حروف حذف کرنے کی صورت میں 1 تا 2 نمبر دیے جائیں۔

5. بالکل غلط یا نہ سنائے پر صفر نمبر دیا جائے۔

5 نمبر Rubrics: برائے ترجمہ

1. طالب علم درج بالا انصاب میں سے کسی ایک کا لفظ بہ لفظ یا محاورہ درست ترجمہ زبانی سناتا ہے تو اسے 5 نمبر دیے جائیں۔

2. چٹکچاہٹ کے ساتھ رک رک کر لیکن درست زبانی سنائے 4 نمبر دیے جائیں۔

3. معمولی غلطیوں اور نامکمل، لیکن آدھے سے زیادہ درست ترجمہ سنائے کی صورت میں 3 نمبر دیے جائیں۔

4. لفظی غلطیوں اور آدھے سے کم درست ترجمہ سنائے پر 1 تا 2 نمبر دیے جائیں۔

5. بالکل غلط یا نہ سنائے پر صفر نمبر دیا جائے۔

7. خیبر میں کفار مکہ کے ساتھ مل کر مسلمانوں کے خلاف سب سے زیادہ سازشیں کرتے تھے۔

7. At khyber most of the conspiracies against Muslims together with disbelievers of Makkah were done by:

(A) مشرک Mushriks (B) منافق Hypocrites

(C) عیسائی Christians (D) یہودی Jews

8. بدن اور لباس کی پاکیزگی ذریعہ ہے:

8. Purity of body and dress is a source of :

(A) بھائی چارے کا brotherhood (B) حسن سلوک کا good behavior

(C) حسن معاشرت کا fair dealing

(D) قربت الہی کا closeness of Allah Almighty

9. لفظ "صادق" کا معنی ہے:

9. The word "Sadiq" means:

(A) سچ بولنے والا truthful (B) محنت کرنے والا hardwork

(C) تبلیغ کرنے والا preacher (D) انصاف کرنے والا judge

10. دوسروں کی چیزوں کی حفاظت کرنا کہلاتا ہے:

10. Protecting the belongings of others is called:

(A) امانت داری honesty (B) تحمل مزاجی tolerance

(C) انصاف پسندی justice (D) صداقت truthfulness

11. لفظ "ایثار" کا مطلب ہے:

11. The word "Eesaar" means:

(A) اپنی ضرورت کو ترجیح دینا prioritizing your need

(B) دوسروں کی ضرورت کو ترجیح دینا prioritizing the needs of others

(C) دوسروں کی ضرورت کو نظر انداز کرنا ignoring the needs of others

(D) اپنی ضرورت کو پورا کرنا meeting your needs

12. حضرت خدیجہ رضی اللہ تعالیٰ عنہا کے لقب "طاہرہ" کی وجہ تھی:

12. The reason for the title of "Tahira" of Hazrat

Khadija رضی اللہ تعالیٰ عنہا was:

(A) سخاوت اور ایثار generosity and sacrifice

(B) شرافت اور پاکیزگی nobility and purity

(C) دیانت اور ایمانداری honesty and integrity

(D) معاملہ فہمی اور بصیرت understanding the matter and vision

13. حضرت علی المرتضیٰ رضی اللہ تعالیٰ عنہ نے خلافت کو قبول کیا:

13. Hazrat Ali Al-Murtaza رضی اللہ تعالیٰ عنہ accepted the Khilafat on insisting of:

(A) اہل یمن کے اصرار پر people of Yemen

(B) اہل کوفہ کے اصرار پر people of Kufa

(C) اہل بصرہ کے اصرار پر people of Basra

(D) مہاجرین و انصار کے اصرار پر Muhajireen and Ansaar

14. حضرت علی المرتضیٰ رضی اللہ تعالیٰ عنہ کے فاتح خیبر کہلائے جانے کی وجہ ہے:

14. Hazrat Ali Al-Murtaza رضی اللہ تعالیٰ عنہ is called Fateh-e-Khyber because of:

(A) علم و فضل knowledge and grace

SCHOOL BASED ASSESSMENT 2021 GRADE 6

ISLAMIAT PART – A (Objective Type)

Part-A: 30 Marks, Part-B (Nazra Quran): 20 Marks, Total: 50 Marks

School Name: _____

Tehsil: _____ District: _____

Student Name: _____ Section: _____

Roll Number: _____ Date: _____

General Insutrction for Students:

1) Use mask and keep 3 feet distance from each other.

2) Read carefully and attempt all questions.

3) Encircle the correct option of each of the Multiple Choice Questions (MCQs) as shown in the example given below.

(3) ہر کثیر الانتخابی سوال کے صحیح جواب پر دائرہ لگائیں جیسا کہ نیچے دی گئی مثال میں دکھایا گیا ہے۔

Example: How many Salah are obligatory for Muslims in a day?

مثال: مسلمانوں پر روزانہ کتنی نمازیں فرض ہیں؟

(A) Four چار

(B) Three تین

(C) Five پانچ

(D) Six چھ

4) If more than one options are encircled in a question, no mark will be given.

(4) اگر کسی سوال میں ایک سے زیادہ جوابات کے گرد دائرہ لگایا گیا تو کوئی نمبر نہیں دیا جائے گا۔

Total Marks: 30	Part-A (Multiple Choice Questions)	Total Time: 45 Minutes
------------------------	---	-------------------------------

ہدایات: اس حصہ میں پندرہ (15) کثیر الانتخابی سوالات دیے گئے ہیں۔ ہر سوال کے دو نمبر ہیں۔

Instructions: Fifteen (15) Multiple Choice Questions (MCQs) are given in this paper. Each question carries two marks.

(A) نماز مکمل ہو جاتی ہے it concludes Salah

(B) نماز کے علاوہ تمام کام حرام ہو جاتے ہیں

it forbids all actions except Salah

(C) خشوع و خضوع پیدا ہو جاتا ہے it creates humility and submission

(D) توجہ اللہ کی طرف ہو جاتی ہے it draws attention to Allah

5. میت کی تجہیز و تکفین میں آخری مرحلہ ہوتا ہے:

5. The last step in burying the dead is:

(A) کفن shroud (B) دفن burial

(C) غسل bath (D) جنازہ janaza

6. صلح حدیبیہ کے ثمرات میں سے ہے:

6. One of the rewards of Treaty of Hudaibiyah is:

(A) میثاق مدینہ Misaq-e-Madina

(B) غزوہ تبوک Ghazwa-e-Tabuk

(C) فتح مکہ Fatah-e-Makkah (D) فتح روم Fatah-e-Rome

7. فتح خیبر کی بدولت کس ملک کی طرف سے حملوں کا خطرہ ٹل گیا؟

7. The conquest of Khyber averted the threat of attacks from which country ?

(A) شام Syria (B) مصر Egypt

(C) حبشہ Ethiopia (D) ایران Iran

1. نماز کی دعوت کے لیے بلند آواز میں پکارے جانے والے الفاظ کہلاتے ہیں:

1. The words that are called out loud for the call to Salah:

(A) دعا Dua (B) اذان Azan

(C) تسبیح Tasbeeh (D) کلمہ Kalima

2. اذان کے ابتدائی الفاظ میں ذکر ہے:

2. In the opening words of Azan is mentioned:

(A) اللہ تعالیٰ کی بڑائی کا the greatness of Allah Almighty

(B) نماز کی طرف بلانے کا calling to Salah

(C) رسول اللہ صلی اللہ علیہ وسلم کی رسالت کا risalat of Rasoolullah

(D) بھلائی کی دعوت کا invitation to goodness

3. نماز میں رکوع کی حیثیت ہے:

3. The status of Ruku in Salah is:

(A) فرض Farz (B) واجب Wajib

(C) سنت Sunnat (D) مستحب Mustahab

4. نماز کے لیے پہلی تکبیر کو تکبیر تحریمہ کہا جاتا ہے کیونکہ اس سے:

4. The first takbeer recited in Salah is called

Takbeer-e-Tahrimah because:

NAZRA QURAN AND RUBRICS

SCHOOL BASED ASSESSMENT 2021 GRADE 6 ISLAMIAT PART – B (Nazra Quran) Total Marks:20

1. حفظ: (سورة الانشراح، سورة التين، سورة القدر) (10)

ہدایات برائے معائنہ: ہر بچے سے مذکورہ بالا سورتوں میں سے کوئی ایک سورت زبانی سنی جائے۔

1. تجوید کے اصولوں (رموز اوقاف، حروف کے مخارج، مد، غنہ اور قلقلہ) کو مد نظر رکھتے ہوئے روانی اور حروف کی درست ادائیگی کے ساتھ بلند آواز میں درج بالا انصاب میں سے کوئی ایک سورت زبانی سنانے پر 10 نمبر دیے جائیں۔

2. ہچکچاہٹ کے ساتھ رک رک کر لیکن درست زبانی سنانے پر 9 نمبر دیے جائیں۔

3. صرف تلفظ کی غلطیوں کے ساتھ پڑھنے کی صورت میں 8 تا 5 نمبر دیے جائیں۔

4. تلفظ کی غلطیوں کے ساتھ ساتھ لفظی غلطیوں یا حروف حذف کرنے کی صورت میں 4 تا 1 نمبر دیے جائیں۔

5. بالکل غلط یا نہ سنانے پر صفر نمبر دیا جائے۔

2. حفظ وترجمہ: (10=5 + 5)

(سورة البقرة، آیت: 250؛ سورة الاعراف، آیت: 23؛ سورة الحشر، آیت: 10)

ہدایات برائے معائنہ: ہر بچے سے درج بالا انصاب میں سے کسی ایک کو ترجمہ کے ساتھ زبانی سنا جائے۔

Rubrics: برائے حفظ 5 نمبر

1. درج بالا انصاب میں سے کسی ایک کو تجوید کے اصولوں (رموز اوقاف، حروف کے مخارج، مد، غنہ اور قلقلہ) کو مد نظر رکھتے ہوئے روانی اور حروف کی درست ادائیگی کے ساتھ بلند آواز میں زبانی سنانے پر 5 نمبر دیے جائیں۔

2. ہچکچاہٹ کے ساتھ رک رک کر لیکن درست زبانی سنانے پر 4 نمبر دیے جائیں۔

3. صرف تلفظ کی غلطیوں کے ساتھ سنانے کی صورت میں 3 نمبر دیے جائیں۔

4. تلفظ کی غلطیوں کے ساتھ ساتھ لفظی غلطیوں یا حروف حذف کرنے کی صورت میں 2 تا 1 نمبر دیے جائیں۔

5. بالکل غلط یا نہ سنانے پر صفر نمبر دیا جائے۔

Rubrics: برائے ترجمہ 5 نمبر

1. طالب علم درج بالا انصاب میں سے کسی ایک کا لفظ بہ لفظ یا با محاورہ درست ترجمہ زبانی سناتا ہے تو اسے 5 نمبر دیے جائیں۔

2. ہچکچاہٹ کے ساتھ رک رک کر لیکن درست زبانی سنانے پر 4 نمبر دیے جائیں۔

3. معمولی غلطیوں اور نامکمل، لیکن آدھے سے زیادہ درست ترجمہ سنانے کی صورت میں 3 نمبر دیے جائیں۔

4. لفظی غلطیوں اور آدھے سے کم درست ترجمہ سنانے پر 2 تا 1 نمبر دیے جائیں۔

5. بالکل غلط یا نہ سنانے پر صفر نمبر دیا جائے۔

8. تمام عبادات کے لیے بنیادی ضرورت ہے:

8. The basic necessity for all worships is:

(A) وقت کی پابندی punctuality

(B) جسمانی طہارت purity of body

(C) عملی طہارت purity of actions

(D) سادی اپنانا observance of simplicity

9. لفظ "امین" کا معنی ہے:

9. The word "Ameen" means:

(A) سچا truthful

(B) بہادر brave

(C) معزز honourable

(D) امانت دار trustworthy

10. امانت واپس کرنے میں دیر کرنا کہلاتا ہے:

10. The delay in returning a trust is called:

(A) بددیانتی dishonesty

(B) دھوکہ cheating

(C) جھوٹ lie

(D) رشوت bribery

11. اپنی ضروریات پر دوسروں کی ضروریات کو ترجیح دینا کہلاتا ہے:

11. Giving priority to others needs over one's own needs is called:

(A) تقویٰ piety

(B) ایثار sacrifice

(C) انصاف justice

(D) تحمل tolerance

12. حضرت خدیجہ رضی اللہ تعالیٰ عنہا کے والد تھے:

12. The father of Hazrat Khadija was a:

(A) مبلغ preacher

(B) سپہ سالار commander

(C) تاجر trader

(D) کاشتکار farmer

13. حضرت علی رضی اللہ تعالیٰ عنہ کا لقب ہے:

13. The title of Hazrat Ali is:

(A) امین الامت Amin Al-Umat

(B) نقیب انصار Naqeeb-e-Ansaar

(C) حیدر کرار Haider-e-Karrar

(D) سیف اللہ Saifullah

14. غزوہ خیبر کے موقع پر قلعہ فتح کرنے میں آسانی ہوئی:

14. It became easier to conquer the fort on the occasion of Ghazwa-e-Khyber due to:

(A) مرحب کے قتل murder of Marhab

(B) لمبے محاصرے سے long siege

(C) بارش برسنے سے Rain

(D) حفاظتی دیوار گر جانے سے Collapsing of protective wall

15. کتاب کشف المحجوب کی تعلیمات کا تعلق ہے:

15. The teachings of the book Kashf-ul-Mahjoob are related to:

(A) علم حدیث سے the knowledge of Hadith

(B) علم تفسیر سے the knowledge of Tafseer

(C) علم فقہ سے the knowledge of Fiqh

(D) علم تصوف سے the knowledge of Tasawwuf

SCHOOL BASED ASSESSMENT 2021
GRADE 6 Mathematics

School Name : _____
Tehsil: _____ District: _____
Student Name: _____ Section: _____
Roll Number: _____ Date: _____

General Insutrction for Students:

طلبہ کے لیے عمومی ہدایات:

- 1) Use mask and keep at least 3ft. distance from each other. (1) ماسک کا استعمال کریں اور آپس میں کم از کم تین فٹ کا فاصلہ رکھیں۔
- 2) Read carefully and attempt all questions. (2) غور سے پڑھیں اور تمام سوالات حل کریں۔

3) Encircle the correct option of each of the Multiple Choice Questions (MCQs) as shown in the example given below.

(3) ہر کثیر الانتخابی سوال کے صحیح جواب پر دائرہ لگائیں جیسا کہ نیچے دی گئی مثال میں دکھایا گیا ہے۔

Example: $64 \div 8 =$

- (A) 4 (B) 6 (C) 8 (D) 12

4) If more than one options are encircled in a question, no mark will be given.

(4) اگر کسی سوال میں ایک سے زیادہ جوابات کے گرد دائرہ لگایا گیا تو کوئی نمبر نہیں دیا جائے گا۔

Total Marks: 50	Multiple Choice Questions	Total Time: 1 Hour
------------------------	----------------------------------	---------------------------

ہدایات: اس پرچہ میں پچیس (25) کثیر الانتخابی سوالات دیے گئے ہیں۔ ہر سوال کے دو نمبر ہیں۔

Instructions: Twenty-five (25) Multiple Choice Questions (MCQs) are given in this paper. Each question carries two marks.

7. The greatest length of a scale that can measure 8m, 12m and 24m long ropes exactly is:

- (A) 4m میٹر (B) 8m میٹر
(C) 12m میٹر (D) 24m میٹر

8. $(4) \times (3) =$

- (A) -12 (B) -7
(C) 7 (D) 12

9. $(16) \div (4) =$

- (A) -12 (B) -4
(C) 4 (D) 12

10. $(+11) + (-7) =$

- (A) -18 (B) -4
(C) 4 (D) 18

11. نمبر لائن پر "4" کے ساتھ والا اگلا بڑا صحیح عدد ہے۔

11. On the number line, the next integer greater than "4" is:



- (A) -5 (B) -3
(C) 3 (D) 5

12. ایک گفٹ پیپر کی قیمت 1.20 روپے ہے۔ 9.60 روپے میں کتنے گفٹ پیپر خریدے جاسکتے ہیں؟

12. The price of a gift paper is Rs.1.20. How many pieces of papers can be purchased for Rs.9.60?

- (A) 6 (B) 7
(C) 8 (D) 9

1. The letter used to represent the set of natural numbers is:

- (A) E (B) O
(C) W (D) N

2. If $A = \{1, 2, 3, 4, \dots\}$ then 'A' is a/an:

- (A) Singleton set ایک رکنی سیٹ
(B) Finite set متناہی سیٹ
(C) Infinite set غیر متناہی سیٹ
(D) Empty set خالی سیٹ

3. $583 \div 11 =$

- (A) 35 (B) 43
(C) 28 (D) 30

4. The sum of two even numbers is always a/an:

- (A) Odd Number طاق عدد (B) Even Number جفت اعداد
(C) Prime Number مفرد عدد (D) Perfect Square مکمل مربع

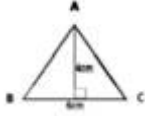
5. HCF of 6 and 36 is:

- (A) 3 (B) 6
(C) 30 (D) 42

6. $3 \times 3 \times 3 \times 3 =$

- (A) 3^3 (B) 3^4
(C) 4^3 (D) 4^4

21. Area of the triangle ABC is.



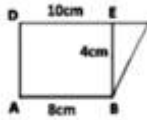
- (A) 8cm^2 (B) 10cm^2
(C) 12cm^2 (D) 24cm^2

22. دیئے گئے مکعب کا حجم ہے۔



- (A) 15cm^3 (B) 25cm^3
(C) 125cm^3 (D) 150cm^3


23. نیچے دی گئی ذوزنقہ ABCD کا رقبہ ہے۔



- (A) 14 cm^2 (B) 18 cm^2
(C) 22 cm^2 (D) 36 cm^2

24. درج ذیل بار گراف طلباء کے ریاضی کے ٹیسٹ میں حاصل کردہ نمبروں کو ظاہر کرتا ہے۔ بار گراف کے مطابق اکرام کے حاصل کردہ نمبر ہیں۔

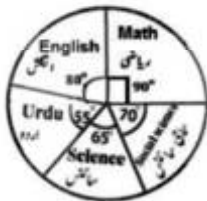
24. The following bar graph shows marks obtained by students in a Mathematics test. According to Bar graph, marks obtained by Ikram are:



- (A) 10 (B) 20
(C) 30 (D) 60

25. درج ذیل پائی گراف ایک طالب علم کے حاصل کردہ نمبروں کو ظاہر کرتا ہے۔ اگر اس کے کل حاصل کردہ نمبر 540 ہوں تو ریاضی میں حاصل کردہ نمبر ہیں۔

25. The following pie-chart represents the marks scored by a students. If he obtained 540 as total marks, the marks in Math are:



- (A) 120 (B) 135
(C) 140 (D) 146

13. 8:12 کی مساوی نسبت ہے۔

13. The equivalent ratio of 8:12 is:

- (A) 12:8 (B) 3:2
(C) 2:3 (D) 3:4


14. اگر 20 مزدور ایک کام 15 دنوں میں مکمل کرتے ہوں تو وہی کام مکمل کرنے کے لیے 25 مزدور کتنے دن لگائیں گے؟

14. If 20 workers do a work in 15 days then in how many days 25 workers will complete the same work?

- (A) 3 (B) 5
(C) 12 (D) 27

15. دی گئی شکل کا کتنے فیصد حصہ رنگ دار ہے۔

15. The percentage of coloured part of the given figure is:



- (A) 4% (B) 6%
(C) 40% (D) 60%

16. بلال نے ایک ہاکی 700 روپے میں خریدی۔ ہاکی پر لکھی ہوئی قیمت 1000 روپے تھی۔ ڈسکاؤنٹ فیصد ہے۔

16. Bilal bought a hockey for Rs. 700. The marked price on the hockey was Rs.1000. The Discount percentage is:

- (A) 10% (B) 20%
(C) 30% (D) 70%

17. $(2x + y) - (2x - y) =$

- (A) 0 (B) $4x$
(C) $2y$ (D) $4x + 2y$

18. اگر $x = 2$ اور $y = -2$ ہو تو $\frac{x^3 - y}{2}$ کی قیمت ہے۔

18. If $x = 2$ and $y = -2$ then the value of $\frac{x^3 - y}{2}$ is:

- (A) 2 (B) 3
(C) 4 (D) 5

19. $3x - (2x + y) =$

- (A) $x + y$ (B) $x - y$
(C) $5x + y$ (D) $5x - y$

20. اگر $m - n = 6$ اور $n = 3$ ہو تو 'm' کی قیمت ہے۔

20. If $m - n = 6$ and $n = 3$, then the value of 'm' is:

- (A) 2 (B) 3
(C) 9 (D) 18

21. دی گئی مثلث ABC کا رقبہ ہے۔

SCHOOL BASED ASSESSMENT 2021

GRADE 6 Mathematics

School Name: _____

Tehsil: _____ District: _____

Student Name: _____ Section: _____

Roll Number: _____ Date: _____

General Insutrction for Students:

طلبہ کے لیے عمومی ہدایات:

1) Use mask and keep at least 3ft. distance from each other. (1) ماسک کا استعمال کریں اور آپس میں کم از کم تین فٹ کا فاصلہ رکھیں۔

2) Read carefully and attempt all questions. (2) غور سے پڑھیں اور تمام سوالات حل کریں۔

3) Encircle the correct option of each of the Multiple Choice Questions (MCQs) as shown in the example given below.

(3) ہر کثیر الانتخابی سوال کے صحیح جواب پر دائرہ لگائیں جیسا کہ نیچے دی گئی مثال میں دکھایا گیا ہے۔

Example: $64 \div 8 =$

(A) 4

(B) 6



8

(D) 12

4) If more than one options are encircled in a question, no mark will be given.

(4) اگر کسی سوال میں ایک سے زیادہ جوابات کے گرد دائرہ لگایا گیا تو کوئی نمبر نہیں دیا جائے گا۔

Total Marks: 50	Multiple Choice Questions	Total Time: 1 Hour
-----------------	---------------------------	--------------------

ہدایات: اس پرچہ میں پچیس (25) کثیر الانتخابی سوالات دیے گئے ہیں۔ ہر سوال کے دو نمبر ہیں۔

Instructions: Twenty-five (25) Multiple Choice Questions (MCQs) are given in this paper. Each question carries two marks.

6. $5 \times 5 \times 5 \times 5 =$

(A) 4^2

(B) 4^5

(C) 5^4

(D) 5^5

7. فیتے کی 24 میٹر اور 36 میٹر کی لمبائیوں سے کم از کم کتنی لمبائی والی بجلی کی تار کو پورا پورا ماپ سکتے ہیں؟

7. The minimum length of electric wire that can exactly be measured with 24m and 36m long measures of tapes is?

(A) 2m میٹر

(B) 6m میٹر

(C) 60m میٹر

(D) 72m میٹر

8. $(+4) \times (-13) =$

(A) -52

(B) -17

(C) 17

(D) 52

9. $(+44) \div (+11) =$

(A) -55

(B) -4

(C) 4

(D) 55

10. $(-27) + (+12) =$

(A) -39

(B) -15

(C) 15

(D) 39

11. On the number line, the next integer greater than "-2" is:

11. نمبر لائن پر "-2" کے ساتھ والا اگلا بڑا صحیح عدد ہے۔



(A) -3

(B) -1

(C) 1

(D) 3

1. مکمل اعداد کے سیٹ کو ظاہر کرنے کے لیے لیٹر استعمال کیا جاتا ہے۔

1. The letter used to represent the set of whole numbers is:

(A) W

(B) N

(C) E

(D) O

2. A set having no element is called:

(A) Empty set خالی سیٹ

(B) Singleton set ایک رکنی سیٹ

(C) Infinite set غیر متناہی سیٹ

(D) Power set قوت سیٹ

3. $625 \div 25 =$

(A) 25

(B) 52

(C) 60

(D) 75

4. وہ اعداد جو 2 پر پورا پورا تقسیم نہیں ہوتے کہلاتے ہیں۔

4. The numbers which are Not divisible by 2 are called:

(A) Even Numbers جفت اعداد (B) Prime Number مفرد عدد

(C) Composite number مرکب اعداد

(D) Odd Numbers طاق اعداد

5. 9 اور 12 کا ذواضعاف اقل ہے۔

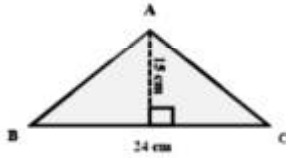
5. LCM of 9 and 12 is:

(A) 3

(B) 6

(C) 21

(D) 36



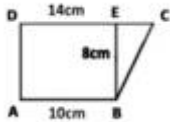
- (A) 39cm (B) 120cm²
(C) 180cm² (D) 360cm²

22. دیئے گئے مکعب کا حجم ہے۔



- (A) 4cm³ (B) 6cm³
(C) 8cm³ (D) 32cm³


23. نیچے دی گئی ذوزنقہ ABCD کا رقبہ ہے۔



- (A) 22 cm² (B) 24 cm²
(C) 32 cm² (D) 96 cm²

24. درج ذیل بار گراف طلباء کے ریاضی کے ٹیسٹ میں حاصل کردہ نمبروں کو ظاہر کرتا ہے۔ بار گراف کے مطابق وقار کے حاصل کردہ نمبر ہیں۔

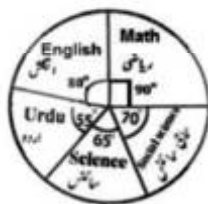
24. The following bar graph shows marks obtained by students in a Mathematics test. According to Bar graph, marks obtained by Waqar are:



- (A) 10 (B) 20
(C) 30 (D) 60

25. درج ذیل پائی گراف ایک طالب علم کے حاصل کردہ نمبروں کو ظاہر کرتا ہے۔ اگر اس کے کل حاصل کردہ نمبر 648 ہوں تو اردو میں حاصل کردہ نمبر ہیں۔

25. The following pie-chart represents the marks scored by a students. If he obtained 648 as total marks, the marks in Urdu are:



- (A) 99 (B) 117
(C) 144 (D) 162

12. The price of a gift paper is Rs.2.20. How many pieces of papers can be purchased for Rs.77?

- (A) 10 (B) 14
(C) 35 (D) 48

13. The equivalent ratio of 12:16 is:

- (A) 16:12 (B) 4:3
(C) 3:4 (D) 3:8

14. اگر عارف اپنے بیٹے کو 7 دنوں کا جیب خرچ 600 روپے دیتا ہو تو وہ اسے 21 دنوں کے لیے کتنا جیب خرچ دے گا؟

14. Arif gives Rs.600 pocket money to his son for 7 days. How much pocket money he will give to him for 21 days?

- (A) Rs.1500 روپے (B) Rs.1600 روپے
(C) Rs.1700 روپے (D) Rs.1800 روپے

15. The percentage of coloured part of the given figure is:



- (A) 2% (B) 8%
(C) 20% (D) 80%

16. ایک دکاندار نے ایک درجن انڈے 100 روپے میں خریدے اور ایک انڈے کو 10 روپے میں فروخت کیا۔ اس کا منافع فیصد ہے۔

16. A shopkeeper bought a dozen of eggs for Rs.100 and sold each egg for Rs. 10. His profit percentage is:

- (A) 10% (B) 20%
(C) 25% (D) 50%

17. $(4x + 2y) + (4x - 2y) =$

- (A) $8x - 4y$ (B) $4y$
(C) $8x$ (D) $8x + 4y$

18. If $a = 5$ and $b = -1$, $c = -4$ then the $a^2 + b + c$ is:

- (A) 20 (B) 22
(C) 28 (D) 30

19. $4x - (3x + 4y) =$

- (A) $x + y$ (B) $x - y$
(C) $7x - y$ (D) $7x + y$

20. If $m - m = 24$ and $n = 8$, then the value of 'm' is:

- (A) 3 (B) 16
(C) 32 (D) 192

21. Area of the triangle ABC is.

SCHOOL BASED ASSESSMENT 2021

GRADE 6

GENERAL SCIENCE

School Name : _____

Tehsil: _____ District: _____

Student Name: _____ Section: _____

Roll Number: _____ Date: _____

General Insutrction for Students:

1) Use mask and keep 3 feet distance from each other.

2) Read carefully and attempt all questions.

3) Encircle the correct option of each of the Multiple Choice Questions (MCQs) as shown in the example given below.

(3) ہر کثیر الانتخابی سوال کے صحیح جواب پر دائرہ لگائیں جیسا کہ نیچے دی گئی مثال میں دکھایا گیا ہے۔

Example: Covid-19 is caused by:

مثال: کووڈ-19 کی وجہ ہے:

(A) bacteria بیکٹیریا

(B) fungi فنجائی



(C) Virus وائرس

(D) algae الگی

4) If more than one options are encircled in a question, no mark will be given.

(4) اگر کسی سوال میں ایک سے زیادہ جوابات کے گرد دائرہ لگایا گیا تو کوئی نمبر نہیں دیا جائے گا۔

Total Marks: 50	Multiple Choice Questions	Total Time: 1 Hour
-----------------	---------------------------	--------------------

ہدایات: اس پرچہ میں پچیس (25) کثیر الانتخابی سوالات دیے گئے ہیں۔ ہر سوال کے دو نمبر ہیں۔

Instructions: Twenty-five (25) Multiple Choice Questions (MCQs) are given in this paper. Each question carries two marks.

absorbed by chlorophyll?

(A) Green سبز

(B) Yellow پیلا

(C) Red سرخ

(D) Blue نیلا

6. فوٹو سنتھیسز میں کون سی گیس پیدا ہوتی ہے؟

6. Which gas is produced during photosynthesis?

(A) Oxygen آکسیجن

(B) Nitrogen نائٹروجن

(C) Carbon dioxide کاربن ڈائی آکسائیڈ

(D) Water Vapours آبی بخارات

7. درج ذیل میں سے بائیونک جز کی شناخت کریں۔

7. Identify biotic factor from the following.

(A) Light روشنی

(B) Water پانی

(C) Air ہوا

(D) Plant پودا

8. کیٹلس کے جسم میں کانٹوں کا کیا کردار ہے؟

8. What is the role of spines in the body of Cactus?

(A) To conserve minerals منرلز کو محفوظ رکھنا

(B) To conserve water پانی کو محفوظ رکھنا

(C) To conduct water پانی کی ترسیل کرنا

(D) To conduct minerals منرلز کی ترسیل کرنا

9. سونا (گولڈ) کا سمبل کون سا ہے؟

9. Which of the following is the symbol of gold?

(A) Ga

(B) Gd

(C) Au

(D) Ar

1. ذیل میں سے اس سیل کی شناخت کریں جو سکڑ کر ہمارے جسم میں حرکت پیدا کرتا ہے۔
1. Identify which of the following cells contract and bring about movement in our body.



(A)



(B)



(C)



(D)

2. جانوروں کے سیل اپنی خوراک خود تیار نہیں کرتے کیوں کے ان کے پاس موجود نہیں ہوتے:

2. Animal cells cannot make their own food because they do NOT have:

(A) Mitochondria مائٹوکونڈریا

(B) Vacuoles ویکوولز

(C) Chloroplast کلوروپلاسٹ

(D) Centrioles سنٹرلوز

3. اس سیل کی نشاندہی کریں جو ہمارے جسم میں آکسیجن کی ترسیل کرتا ہے۔

3. Identify the cell that transports oxygen in our body.

(A) Skin cell جلد کے سیل

(B) Nerve cell نرو سیل

(C) Muscles cell مسلز سیل

(D) Red blood cell خون کے سرخ سیل

4. آنکھ کے وسط میں ایک سوراخ ہوتا ہے۔ اس کا نام کیا ہے؟

4. What is the name of a hole in the middle of the iris?

(A) Retina ریشینا

(B) Lens لینز

(C) Pupil پیوپل

(D) Cornea کارنیا

5. کلوروفیل، مندرجہ ذیل میں سے روشنی کا کون سا رنگ جذب نہیں کرتا؟

5. Which of the following colour in light is NOT

(C) Lever لیور

(D) Wheel and axle وہیل اور ایکسل

19. دی گئی تصویر میں w کوکس سے لیبل کیا جائے گا؟

19. What will be label of "W" in the given image?



(A) Gear گیر (B) Handle ہینڈل

(C) Frame and seat فریم اور سیٹ

(D) Wheel and axle وہیل اور ایکسل

20. جب روشنی کھر درے اور غیر شفاف اجسام پر پڑتی ہے تو کیا ہوتا ہے؟

20. What happens when light falls on rough opaque objects?

(A) Transmission occurs ٹرانسمیشن ہوتی ہے

(B) Absorption occurs انجذاب ہوتا ہے

(C) Diffused reflection occurs ڈیفوزڈ رفلیکشن ہوتی ہے

(D) Refraction occurs رفریکشن ہوتی ہے

21. جب روشنی کسی شفاف شے پر پڑتی ہے تو:

21. When light falls on a transparent object it is :

(A) Transmitted اس میں داخل ہو جاتی ہے

(B) Reflected اس سے رفلیکٹ ہو جاتی ہے

(C) Absorbed اس میں جذب ہو جاتی ہے

(D) Refracted اس سے رفریکٹ ہو جاتی ہے

22. کس عمل کی وجہ سے آپ اپنا چہرہ شیشے میں دیکھ سکتے ہیں؟

22. Which of the following makes you able to see your face in a mirror?

(A) Transmission ٹرانسمیشن (B) Absorption ایبڈورپشن

(C) Reflection رفلیکشن (D) Refraction رفریکشن

23. آواز کی لہریں مندرجہ ذیل میں سے کس چیز میں سب سے سست رفتار سے گزرتی ہیں؟

23. Identify the substance through which sound waves travel the slowest?

(A) Air ہوا (B) Water پانی

(C) Steel سٹیل (D) Copper کاپر

24. ان میں سے کون سا اجرام فلکی زمین کے گرد گھومتا ہے؟

24. Which of the following heavenly bodies revolves around the earth?

(A) Satellite سیٹلائٹ (B) Mars مارس

(C) Meteorite میٹیرائیڈ (D) Asteroid ایسٹروائیڈ

25. کون سا مصنوعی سیٹلائٹ زمین کے مدار میں تابکاری کے بارے میں معلومات فراہم کرتا تھا؟

25. Which satellite sent information about radiations in the environment?

(A) Sputnik-I سپنٹک-1

(B) Explorer-1 ایکسپلورر-1

(C) Polar satellite پولر سیٹلائٹ

(D) Landsat satellite لینڈسٹ سیٹلائٹ

10. درج ذیل میں سے کپاؤنڈ کا انتخاب کریں۔

10. Select the compound from the following.

(A) Hydrogen ہائیڈروجن (B) Nitrogen نائٹروجن

(C) Oxygen آکسیجن

(D) Carbon dioxide کاربن ڈائی آکسائیڈ

11. درج ذیل میں سے جراثیموں کو مارتا ہے:

11. Which one of the following kills the germs?

(A) Water پانی (B) Nitrogen نائٹروجن

(C) Carbon dioxide کاربن ڈائی آکسائیڈ

(D) Tincture of iodine ٹینکچر آف آیوڈین

12. ہوا میں آکسیجن کی مقدار کتنے فیصد ہوتی ہے؟

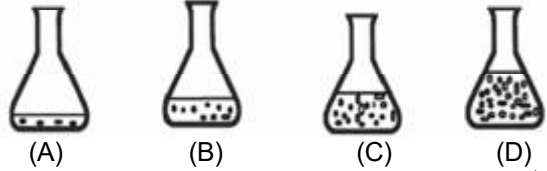
12. What is the percentage of oxygen in the air?

(A) 78% (B) 73%

(C) 23% (D) 21%

13. درج ذیل اشکال سے ڈائلوٹ سلوشن کی شناخت کریں۔

13. Identify the dilute solution from the following figures.



14. جب ہم پانی میں نمک حل کرتے ہیں تو کیا بنتا ہے؟

14. What is formed when we dissolve salt in water?

(A) Solute سولیوٹ (B) Solvent سولیوٹ

(C) Solution سلوشن (D) Suspension سپینشن

15. درج ذیل سے سپینشن کی مثال کون سی ہے؟

15. Which of the following is an example of suspension?

(A) Ocean water سمندر کا پانی (B) Lassi لسی

(C) Lemonade سکندجبین (D) Steel سٹیل

16. تصویر میں دکھائے گئے تہے ہوئے تیر میں توانائی کی حالت کی نشاندہی کریں۔

16. Identify the energy stored in the stretched arrow shown in the image.



(A) Potential energy پوٹینشل انرجی

(B) Heat energy ہیٹ انرجی

(C) Sound energy ساؤنڈ انرجی

(D) Kinetic energy کائینٹک انرجی

17. درج ذیل سے کون سا توانائی کا قابل تجدید ذریعہ ہے؟

17. Which of the following is a renewable energy source?

(A) Coal کوئلہ (B) Natural gas قدرتی گیس

(C) Oil آئل (D) Wind ونڈ

18. کون سی سادہ مشین جھنڈے کو فلیگ پول کے سرے تک اٹھانے میں مدد دیتی ہے؟

18. Which simple machine helps to raise the flag to the top of the flagpole?

(A) Gear گیر (B) Pulley پلی

SCHOOL BASED ASSESSMENT 2021

GRADE 6

GENERAL SCIENCE

School Name : _____

Tehsil: _____ District: _____

Student Name: _____ Section: _____

Roll Number: _____ Date: _____

General Insutrction for Students:

1) Use mask and keep 3 feet distance from each other.

2) Read carefully and attempt all questions.

3) Encircle the correct option of each of the Multiple Choice Questions (MCQs) as shown in the example given below.

(3) ہر کثیر الانتخابی سوال کے صحیح جواب پر دائرہ لگائیں جیسا کہ نیچے دی گئی مثال میں دکھایا گیا ہے۔

Example: Covid-19 is caused by:

مثال: کووڈ-19 کی وجہ ہے:

(A) bacteria بیکٹیریا

(B) fungi فنجائی



(C) Virus وائرس

(D) algae الگی

4) If more than one options are encircled in a question, no mark will be given.

(4) اگر کسی سوال میں ایک سے زیادہ جوابات کے گرد دائرہ لگایا گیا تو کوئی نمبر نہیں دیا جائے گا۔

Total Marks: 50	Multiple Choice Questions	Total Time: 1 Hour
------------------------	----------------------------------	---------------------------

ہدایات: اس پرچہ میں پچیس (25) کثیر الانتخابی سوالات دیے گئے ہیں۔ ہر سوال کے دو نمبر ہیں۔

Instructions: Twenty-five (25) Multiple Choice Questions (MCQs) are given in this paper. Each question carries two marks.

5. Identify the process shown in the given figure.



(A) Osmosis اوسموسس

(B) Diffusion ڈیفیوژن

(C) Photosynthesis فوٹوسنتھیسز

(D) Respiration ریسپائریشن

6. What is the reason of the green colour of leaves?

(A) Water پانی

(B) Light روشنی

(C) Chlorophyll کلوروفیل

(D) Carbon dioxide کاربن ڈائی آکسائیڈ

7. Identify the direct source of energy .

(A) Air ہوا

(B) Water پانی

(C) Sunlight سورج کی روشنی

(D) Temperature درجہ حرارت

8. Which of the following is the ultimate source of energy in an ecosystem?

(A) Plants پودے

(B) Petrol پٹرول

(C) Sun سورج

(D) Biomass بائیو ماس

1. Identify which of the following cells produce bones and give shape and support to human body.



(A)



(B)



(C)



(D)

2. Which of the following parts is present in animal cell but absent in plant cell?

(A) Nucleus نیوکلئیس

(B) Centriole سنٹریول

(C) Cytoplasm سائٹوپلازم

(D) Vacuole وکیول

3. Which of the following is called powerhouse of the cell?

(A) Mitochondria مائیٹوکنڈریا

(B) Vacuoles وکیولز

(C) Chloroplast کلوروپلاسٹ

(D) Centrioles سنٹریولز

4. Which part of ear is responsible for the collection of sound waves?

(A) Eardrum ایئر ڈرم

(B) Pinna پنا

(C) Cochlea کوکلیا

(D) Anvil اینول

(B) Wind energy وینڈ انرجی

(C) Nuclear energy نیوکلیر انرجی

(D) Fossil fuel energy فوسل فیول انرجی

18. مندرجہ ذیل میں سے کون سی ڈھیل اینڈ ایکسل کی مثال ہے؟

18. Which one of the following is an example of wheel and axle?

(A) Hammer ہتھوڑی (B) Broom جھاڑو

(C) Stapler اسٹیپلر

(D) Screwdriver سکر یوڈرائیور

19. دی گئی تصویر میں ”گیر“ کی نشاندہی کریں۔

19. Identify the "Gear" in the given image.



(A) W

(B) X

(C) Y

(D) Z

20. جب روشنی ہموار اور چمکدار سطح پر پڑتی ہے تو ایک خاص سمت میں واپس آ جاتی ہے، اس عمل کو کہتے ہیں۔

20. The process in which light rays bounce off from a shiny surface is called:

(A) Transmission ٹرانسمیشن (B) Absorption انجذاب

(C) Reflection رفلکشن (D) Refraction رفریکشن

21. جب روشنی کالے کپڑے سے گزرتی ہے تو کیا ہوتا ہے؟

21. What happens to light when light passes through a black dress?

(A) Transmission ٹرانسمیشن (B) Absorption انجذاب

(C) Reflection رفلکشن (D) Refraction رفریکشن

22. کروی مرز کی کتنی اقسام ہوتی ہیں؟

22. How many types of curved mirrors are?

(A) 2 (B) 3

(C) 4 (D) 5

23. کس میڈیم میں آواز سب سے تیزی سے سفر کرتی ہے؟

23. Sound travels the fastest in:

(A) Liquids مائع (B) Gases گیسز

(C) Vacuum خلا (D) Solids ٹھوس

24. ہوا کی فرکشن سے مٹی اور کوآگ لگتی ہے تو ہم اسے کیا کہتے ہیں؟

24. What we call a meteor when it gets fire from the friction of air?

(A) Comet کامٹ (B) Asteroid ایسٹروئڈ

(C) Satellite سیٹلائٹ (D) Fireball آگ کا گولہ

25. سیٹلائٹ کی مدد سے زمین پر اجسام کی پوزیشن معلوم کرنے کے لیے استعمال ہونے والا سسٹم کیا کہلاتا ہے؟

25. The system used to locate the position of an object on earth with the help of satellite is called:

(A) GRS (B) GMS

(C) GPS (D) PGS

9. What is the symbol of silver?

(A) Ag (B) Mg

(C) Hg (D) Mn

10. اس ایلیمنٹ کا انتخاب کریں جسے گرم کرنے اور دبانیے سے موڑا اور تہہ میل کیا جاسکتا ہے۔

10. Choose the element which can be molded or shaped by heating and pressing.

(A) Sodium سوڈیم (B) Sulphur سلفر

(C) Chlorine کلورین (D) Copper کوپر

11. سوڈا واٹر بوتل میں کون سی گیس پائی جاتی ہے؟

11. Which gas is present in the soda water bottles?

(A) Oxygen آکسیجن (B) Nitrogen نائٹروجن

(C) Hydrogen ہائیڈروجن

(D) Carbon dioxide کاربن ڈائی آکسائیڈ

12. درج ذیل میں سے کون سی گیس ادویات کی پیکنگ میں استعمال ہوتی ہے؟

12. Which of the following gas is used in packing medicines?

(A) Oxygen آکسیجن (B) Nitrogen نائٹروجن

(C) Carbon dioxide کاربن ڈائی آکسائیڈ

(D) Hydrogen ہائیڈروجن

13. چینی، نمک اور ہلدی کو دودھ میں ملا کر ایک سلوشن تیار کیا گیا ہے، اس سلوشن میں سولویٹ کی شناخت کریں۔

13. A solution is made by mixing sugar, salt and turmeric in milk. Identify the solvent in this solution:

(A) Sugar چینی (B) Salt نمک

(C) Turmeric ہلدی (D) Milk دودھ

14. ہم کس سلوشن میں سانس لیتے ہیں؟

14. In which solution we breathe?

(A) Air ہوا (B) Steel اسٹیل

(C) Vinegar سرکہ (D) Lemonade سکینجبین

15. اگر کسی سلوشن میں سولویٹ کی مقدار زیادہ حد تک ممکن ہو تو وہ کیا کہلاتا ہے؟

15. Solution having maximum quantity of solute is called:

(A) Aqueous solution آبی سلوشن

(B) Dilute solution ڈائلوٹ سلوشن

(C) Concentrated solution کنسنٹرٹڈ سلوشن

(D) Saturated solution سیر شدہ سلوشن

16. تھنے ہوئے ریڈیو بینڈ میں کس قسم کی انرجی ہوتی ہے؟

16. Which type of energy is possessed by a stretched rubber band?

(A) Kinetic energy کینٹیک انرجی

(B) Potential energy پوٹینشل انرجی

(C) Chemical energy کیمیکل انرجی

(D) Sound energy ساؤنڈ انرجی

17. مندرجہ ذیل میں سے پاک انرجی کی شناخت کریں۔

17. Identify the pollution free energy from the following.

(A) Biogas energy بائیوگیس انرجی

SCHOOL BASED ASSESSMENT 2021

GRADE 6

URDU

School Name : _____

Tehsil: _____ District: _____

Student Name: _____ Section: _____

Roll Number: _____ Date: _____

عمومی ہدایات: (1) ماسک پہنیں اور آپس میں کم از کم 3 فٹ کا فاصلہ رکھیں۔

(2) غور سے پڑھیں اور ہر سوال کا جواب دیں۔

(3) ہر کثیر الانتخابی سوال کے صحیح جواب پر دائرہ لگائیں جیسا کہ مثال میں دکھایا گیا ہے۔

مثال: چیچڑ کی وجہ سے پھیلنے والی بیماری ہے:

(D) ڈینگی

(C) خسرہ

کانگو

(B)

(A) پولیو

(4) اگر کسی سوال میں ایک سے زیادہ جوابات کے گرد دائرہ لگایا گیا تو کوئی نمبر نہیں دیا جائے گا۔

کل وقت: 1 گھنٹہ	اردو کثیر الانتخابی سوالات	کل نمبر: 50
-----------------	----------------------------	-------------

(حصہ اول)

1- قواعد کی رو سے درست جملہ کی نشاندہی کریں:

(A) ہم نے ہاکی کھیلا۔ (B) ہم نے ہاکی کھیلی۔

(C) ہم نے ہاکی کھیلے۔ (D) ہم نے ہاکی کھیلیں۔

2- علامت فجائیہ کے درست استعمال والا جملہ ہے:

(A) سبحان اللہ! آج موسم بہت پیارا ہے۔

(B) کیا! آج موسم بہت پیارا ہے۔

(C) اُف، آج موسم بہت پیارا ہے۔

(D) کیونکہ، آج موسم بہت پیارا ہے۔

3- تذکیر و تانیث کے لحاظ سے درست جملہ ہے:

(A) دریائے راوی خشک ہوگئی۔ (B) بارش ہو رہا ہے۔

(C) سورج چمک رہی ہے۔ (D) دریائے سندھ بہت بڑا ہے۔

4- ”حال“ کا متشابہ لفظ ہے:

(A) حل (B) ہال (C) حلال (D) حلول

5- دیے گئے جملوں میں سے درست سادہ جملہ ہے:

(A) میں نے اخبار پڑھا۔ (B) میں چاہتا ہوں تم کامیاب ہو جاؤ۔

(C) اگرچہ وہ امیر ہے لیکن کنجوس ہے۔ (D) احمد کم عمر سہی لیکن سمجھدار ہے۔

6- درج ذیل میں سے درست جملے کی نشاندہی کریں:

(A) اُس نے سبق یاد کیا۔ (B) انہوں نے کھانا کھائے۔

(C) ہم نے کرکٹ کھیلیں۔ (D) میں نے کھانا کھائے۔

7- سادہ جملے کی مثال ہے:

(A) اسلم نے کتاب پڑھی اور چلا گیا۔ (B) نوید نے کھانا کھایا اور نماز پڑھی۔

(C) طاہر نے کھانا کھا کر نماز پڑھی۔ (D) سلیم نے سبق یاد کیا اور پانی پیا۔

8- متلازم الفاظ کی درست فہرست ہے:

(A) گلاب، پنسل (B) کرسی، باغ، پنکھا

(C) کمپیوٹر، ٹیلی فون، بستہ (D) جمعہ، ہفتہ، اتوار

9- یہ میری کتاب ہے۔ اس میں ”یہ“ ہے:

(A) اسم علم (B) اسم ضمیر (C) اسم اشارہ (D) اسم موصول

10- درست استفہامیہ جملہ ہے:

(A) چھت پر کون کیا تھا؟ (B) طیب کراچی سے کل آیا۔

(C) وہ سکول نہیں گیا تھا۔ (D) علی رات دیر سے آیا۔

11- لفظ ”ضرر رساں“ کا مترادف ہے:

(A) فائدہ مند (B) خوف ناک (C) نقصان دہ (D) آرام دہ

12۔ گروہی الفاظ کی درست فہرست ہے:

- (A) بستہ، کمرہ، جماعت (B) کانٹے، پیتاں، گلاس
(C) کالج، مدرسہ، جھولے (D) سکول، مسجد، ہسپتال

13۔ ”قائد اعظم تحریک پاکستان کے روح رواں تھے“ اس جملے میں اسم کی کون سی قسم استعمال ہوئی ہے؟

- (A) اسم علم (B) اسم ضمیر (C) اسم اشارہ (D) اسم موصول

14۔ حروف تہجی کی درست ترتیب ہے:

- (A) جری، تماشائی، بہادر (B) عبرت، صدی، تاریخ
(C) دور، فرائض، سفر (D) بادل، پہاڑ چٹان

15۔ درست جملے کی نشاندہی کریں:

- (A) رمضان المبارک کا مہینہ آ رہا ہے (B) ماہ رمضان کا مہینہ آ رہا ہے
(C) کیا یہ ماہ رمضان کا مہینہ ہے
(D) رمضان المبارک کا مہینہ آ رہے ہیں

حصہ دوم

پیرا گراف نمبر 1

☆ مندرجہ ذیل پیرا گراف پڑھ کر سوالات 16، 17، 18 اور 20 کے جوابات دیں۔

6 ستمبر 1965 کی اندھیری رات میں ہندوستان نے پاکستان پر حملہ کر دیا۔ لیکن پاکستان کی بہادر اور جرجی افواج نے دشمن کے چھکے چھڑا دیے۔ 23 ستمبر تک جاری رہنے والی جنگ میں ہندوستان کا جنگی جنون سرد پڑ گیا اور اس نے اقوام متحدہ میں فوری جنگ بندی کی درخواست پیش کر دی۔ جو کہ ایک بین الاقوامی ادارہ ہے۔ یوم دفاع پاکستانی فوج کے اس کارنامے کی یاد تازہ کرنے کے لیے منایا جاتا ہے۔ یوم دفاع کی ایک اہم تقریب ہر سال لاہور کے فورٹریس سٹیڈیم میں منعقد کی جاتی ہے۔ ہمارے سکول کی ایک جماعت ہر سال اس تقریب کو دیکھنے کے لیے بھجوائی جاتی ہے۔ اس سال ہماری جماعت کی باری تھی۔

16۔ اقوام متحدہ ایک ----- ادارہ ہے۔

- (A) قوی (B) صوبائی (C) علاقائی (D) بین الاقوامی

17۔ پیرا گراف میں موجود درست محاورہ ہے:

- (A) جاری رہنا (B) مرجانا (C) جنگ کرنا (D) چھکے چھڑانا

18۔ پیرا گراف میں موجود درست روزمرہ ہے:

- (A) سرد پڑ گیا (B) ٹھنڈا پڑ گیا (C) گرم پڑ گیا (D) بخ پڑ گیا

19۔ یوم دفاع کی تقریب کب منائی جاتی ہے؟

- (A) 2 سال بعد (B) 4 سال بعد (C) 1 سال بعد (D) 5 سال بعد

20۔ ”اس سال“ سے کیا مراد ہے؟

- (A) اگلے سال (B) اس سال (C) تیسرا سال (D) پچھلا سال

پیرا گراف نمبر 2

☆ مندرجہ ذیل پیرا گراف پڑھ کر سوالات 21، 22، 23 اور 25 کے جوابات دیں۔

بخدمت جناب پرنسپل گورنمنٹ ہائی سکول نارووال

جناب عالی!

گزارش ہے کہ میں آپ کے سکول میں چھٹی جماعت کا طالب علم ہوں۔ میرے والد ایک سرکاری ملازم ہیں۔ ان کا تبادلہ نارووال سے سیالکوٹ ہو گیا ہے۔ میرے والد کے لیے روزانہ نارووال سے سیالکوٹ جانا ممکن نہیں ہے۔ اس وجہ سے ہماری فیملی نارووال سے سیالکوٹ منتقل ہو رہی ہے۔ اس لیے مہربانی فرما کر مجھے سکول چھوڑنے کا سرٹیفکیٹ عنایت فرمائیں تاکہ میں سیالکوٹ جا کر اپنا تعلیمی سلسلہ جاری رکھ سکوں۔

21۔ درخواست گزار کے والد کا کس جگہ سے تبادلہ ہو گیا ہے؟

- (A) لاہور (B) سیالکوٹ (C) ملتان (D) نارووال

22۔ درخواست کس کو لکھی گئی ہے؟

- (A) کلاس انچارج کو (B) پرنسپل کو
(C) چوکیدار کو (D) ساتھی طالب علم کو

23۔ درخواست گزار سکول کیوں چھوڑنا چاہتا ہے؟

- (A) والد کے تبادلہ کی وجہ سے (B) کھیلنے کے لیے
(C) فیس کی وجہ سے (D) پڑھائی میں دل نہ لگنے کی وجہ سے

24۔ درخواست گزار کا والد ہے:

- (A) پرائیویٹ ملازم (B) مزدور
(C) کسان (D) سرکاری ملازم

25۔ درخواست گزار کی فیملی منتقل ہو رہی ہے:

- (A) سیالکوٹ (B) گجرات (C) ساہیوال (D) فیصل آباد

SCHOOL BASED ASSESSMENT 2021

GRADE 6

URDU

School Name : _____

Tehsil: _____ District: _____

Student Name: _____ Section: _____

Roll Number: _____ Date: _____

عمومی ہدایات: (1) ماسک پہنیں اور آپس میں کم از کم 3 فٹ کا فاصلہ رکھیں۔

(2) غور سے پڑھیں اور ہر سوال کا جواب دیں۔

(3) ہر کثیر الانتخابی سوال کے صحیح جواب پر دائرہ لگائیں جیسا کہ مثال میں دکھایا گیا ہے۔

مثال: چیچر کی وجہ سے پھیلنے والی بیماری ہے:

(D) ڈینگی

(C) خسرہ

کانگو

(B)

(A) پولیو

(4) اگر کسی سوال میں ایک سے زیادہ جوابات کے گرد دائرہ لگایا گیا تو کوئی نمبر نہیں دیا جائے گا۔

کل وقت: 1 گھنٹہ	اردو کثیر الانتخابی سوالات	کل نمبر: 50
-----------------	----------------------------	-------------

(حصہ اول)

1- قواعد کی رو سے درست جملہ ہے:

(A) عائشہ نے اخبار پڑھی۔ (B) میں نے اخبار پڑھی۔

(C) ناعمہ نے اخبار پڑھا۔ (D) عثمان نے اخبار پڑھی۔

2- استفہامیہ جملہ کی نشاندہی کریں:

(A) یہ کتاب میری ہے۔ (B) آپ کہاں رہتے ہیں؟

(C) وہ سکول نہیں گیا۔ (D) ہم مسلمان ہیں۔

3- سعدیہ وقت پر روٹی۔۔۔۔۔ ہے۔

(A) کھاتا (B) کھاتی (C) کھاتیں (D) کھاتے

4- کون سا لفظ ”فلک“ کا مترادف ہے:

(A) آسمان (B) موج (C) لہر (D) زمین

5- سادہ جملہ مشتمل ہوتا ہے:

(A) ایک بات اور ایک خبر پر (B) دو باتیں اور ایک خبر پر

(C) ایک بات اور دو خبروں پر (D) ایک خبر ایک بات پر

6- قواعد کی رو سے درست جملہ ہے:

(A) دہی کھٹا ہے۔ (B) دہی کھٹی ہے۔

(C) دہی کھٹی تھی۔ (D) دہی کھٹی ہوگی۔

7- مندرجہ ذیل میں سے مرکب جملے کی نشاندہی کریں:

(A) میں نے سب یاد کیا۔ (B) ہم نے کھانا کھایا اور چائے پی۔

(C) انہوں نے بیچ جیت لیا۔ (D) اس نے کتاب خریدی۔

8- متلازم الفاظ کی درست فہرست ہے:

(A) ہاکی، کرکٹ، فالسہ (B) کدو، بیٹنگن، بھنڈی

(C) دھان، گندم، کتاب (D) کرسی، پھل، پنکھا

9- ”وہ میرا قلم ہے۔“ اس جملے میں لفظ ”وہ“ ہے:

(A) اسم علم (B) اسم ضمیر (C) اسم موصول (D) اسم اشارہ

10- درست استفہامیہ کی فہرست ہے:

(A) چونکہ، کون، کیوں، میں (B) کون، کہ، اگرچہ، چونکہ

(C) کون، کیا، کیوں، کب (D) کہ، تاکہ، آخر، لہذا

11- ”چمن“ کا مترادف ہے:

(A) گلشن (B) فلک (C) زمین (D) صاف

12- درست گروہی الفاظ کی فہرست ہے:

(A) کرسی، مچھلی، لہریں (B) دھوپ، کرنیں، میز

(C) مچھلی، لہریں، ساحل (D) طوفان، پرندے، بازار

13- ”علامہ محمد اقبال کا مزار لاہور میں ہے“ اس جملے میں ”علامہ“ ہے:

(A) عُرف (B) تخلص (C) خطاب (D) کنیت

14- حروف تہجی کی درست فہرست ہے:

(A) سمندر، حاسد، بدترین (B) پہاڑ، دریا، صحراء، سمندر

(C) پہاڑ، دریا، سمندر، صحرا (D) صحراء، سمندر، پہاڑ، دریا

15- درست جملے کی نشاندہی کریں:

(A) مارکونی ریڈیو کا بانی تھا۔ (B) مارکونی ریڈیو کا موجد تھا۔

(C) مارکونی ریڈیو کا بہرہ و تھا۔ (D) مارکونی ریڈیو کا ماسٹر تھا۔

حصہ دوم

پیرا گراف نمبر 1

☆ مندرجہ ذیل پیرا گراف پڑھ کر سوالات 16, 17, 18, 19 اور 20 کے جوابات دیں۔

سوئی گیس اور لکڑی کی آگ کے دو رنگ الگ الگ ہونے کی وجہ دونوں ایندھنوں کی اپنی اپنی خصوصیات یا اجزائے ترکیبی ہیں۔ سوئی گیس یا قدرتی گیس میں کاربن اور ہائیڈروجن موجود ہوتی ہے جس کی وجہ سے اس کا شعلہ نیلا رنگ دیتا ہے۔ لکڑی جو کہ صرف کاربن پر مشتمل ہوتی ہے وہ سرخ یا پیلی رنگت دیتی ہے۔ لکڑی کے جلنے سے کچھ کاربن کے ذرات دھوئیں میں شامل ہو جاتے ہیں تو وہ بھی جلے یا ادھ جلے شعلہ میں شامل رہتے ہیں۔

16- سوئی گیس اور لکڑی کی آگ کے رنگ ہوتے ہیں:

(A) ایک جیسے (B) ملتے جلتے

(C) الگ الگ (D) نیلے رنگ کے

17- قدرتی گیس میں موجود ہوتی ہے۔

(A) کاربن (B) کاربن اور آکسیجن

(C) ہائیڈروجن اور کاربن (D) ہائیڈروجن

18- سوئی گیس کے شعلے کی رنگت ----- ہوتی ہے۔

(A) نیلی (B) پیلی (C) سرخ (D) گلابی

19- لکڑی کی آگ سرخ یا پیلی رنگ کس مادے کی وجہ سے دیتی ہے؟

(A) کاربن کی وجہ سے (B) آکسیجن کی وجہ سے

(C) نائٹروجن کی وجہ سے (D) برومین کی وجہ سے

20- لکڑی صرف مشتمل ہوتی ہے:

(A) ہائیڈروجن پر (B) کاربن پر

(C) نائٹروجن پر (D) قدرتی گیس پر

پیرا گراف نمبر 2

☆ مندرجہ ذیل پیرا گراف پڑھ کر سوالات 21, 22, 23, 24 اور 25 کے جوابات دیں۔

بخدمت جناب ہیڈ ماسٹر گورنمنٹ ہائی سکول لاہور

جناب عالی!

مودبانہ گزارش ہے کہ مجھے کل رات سردی کی وجہ سے بخار ہو گیا ہے۔ تیز بخار کی وجہ سے مجھے ہسپتال جانا پڑا۔ چیک اپ کے بعد ڈاکٹر نے مجھے کچھ دوائیں لکھ دی ہیں اور ساتھ دودن آرام کا کہا ہے۔ جس کی وجہ سے میں دودن سکول میں حاضر نہیں ہو سکتا۔ مہربانی فرما کر مجھے صرف دو یوم کی رخصت عنایت فرمائیں۔ تاکہ میں ڈاکٹر کی ہدایت پر عمل کرتے ہوئے دودن آرام کر سکوں اور جلد از جلد صحت یاب ہو کر اپنی پڑھائی جاری رکھ سکوں۔ آپ کی عین نوازش ہوگی۔

21- درخواست گزار کو ہے:

(A) زکام (B) کھانسی (C) بخار (D) نزلہ

22- درخواست گزار کو ڈاکٹر نے آرام کا کہا ہے:

(A) چار دن (B) تین دن (C) دودن (D) ایک دن

23- درخواست گزار کو بخار ہوا ہے:

(A) گرمی کی وجہ سے (B) پڑھنے کی وجہ سے

(C) کھیلنے کی وجہ سے (D) سردی کی وجہ سے

24- درخواست گزار کو سکول سے چھٹیاں درکار ہیں:

(A) ایک (B) دو (C) تین (D) چار

25- درخواست لکھی گئی ہے:

(A) ہیڈ ماسٹر صاحب کو (B) کلاس انچارج کو

(C) پرنسپل کو (D) چوکیدار کو