

School Based Assessment 2021

School Name (EMIS code): _____

Tehsil: _____ District: _____

Student Name: _____ Section: _____

Roll Number: _____ Date: _____

General Instructions:

- (1) Use mask & keep at least 3 ft. distance from each other.
- (2) Read carefully and attempt all questions.
- (3) Encircle the correct option of each of the Multiple Choice Questions (MCQs) as shown in the example given below. Example: I am _____ my homework.
(a) does (b) did (c) doing (d) done
- (4) If more than one options are encircled in a question, no mark will be given.

Total Marks: 50

(Multiple Choice Questions)

Total Time: 1 Hour

1. Identify the rhyming word for "Think".

- (a) Link (b) Quick
(c) Bank (d) Sank

2. Which of the following can be used to make a compound word that starts with "White"?

- (a) gate (b) book
(c) colour (d) board

3. Identify the word which has silent "b" sound.

- (a) Bulb (b) Verb
(c) Comb (d) Slab

4. "He lives in _____ village."

- (a) a (b) the
(c) an (d) any

5. In the given picture, the boy is _____ a kite.



- (a) making (b) buying
(c) flying (d) selling

6. Identify the past form (2nd form) of the verb "Tell".

- (a) Tell (b) Told
(c) Tells (d) Telling

7. "The boys are _____ in the ground."

- (a) play (b) playing
(c) plays (d) played

8. "It _____ here yesterday."

- (a) rains (b) rain
(c) rained (d) raining

9. "We _____ come to your home tomorrow."

- (a) have (b) shall
(c) had (d) are

10. Identify the correct structured sentence.

- (a) She book gave me a. (b) She a book gave me.
(c) She gave a book me. (d) She gave me a book.

11. "We _____ a nice home."

- (a) has (b) are
(c) were (d) were

12. "You do not want to go outside the room. What will you say?"

- (a) Go out, please. (b) May I go out?
(c) I am going out. (d) I shall not go out.

13. Choose the adjective of size among the following.

- (a) Pakistani (b) Big
(c) Round (d) Red

14. "They are running fastly." Identify the category of the underlined word.

- (a) Noun (b) Adverb
(c) Pronoun (d) Adjective

15. "The shopkeeper is selling books and pencils." Identify the compound word used in the sentence.

- (a) Selling (b) Pencils
(c) Shopkeeper (d) Books

16. Identify the word with long vowel sound.

- (a) Big (b) Fun
(c) Tree (d) Won

17. Choose the imperative sentence.

- (a) Ali is a student. (b) Open your books.
(c) You do not work. (d) Are they ready?

18. Identify the sentence with the correct position of the adverb "carefully".

- (a) He drives his carefully car and advises me the same.
(b) Carefully, his car he drives and advises me the same.
(c) He carefully his car and advises me the drives same.
(d) He drives his car carefully and advises me the same.

19. Identify the word with a short vowel sound.

- (a) Sad (b) Ate
(c) Van (d) Pin

20. Choose the correct option to complete the word "ma_____" meaningfully.

- (a) tsh (b) tch
(c) sch (d) shr

Paragraph: Read the following paragraph carefully and answer the questions given below.

Dog is a mammal. All mammals have hair on their bodies. People, horses and elephants are also mammals. Hair protects a mammal's skin. The hair protects skin from getting scraped. Hair also protects mammals from cold and heat. There are many other characteristics in a mammal. For examples, every mammal has a backbone. That bone is also called the spine. Mammals are warm-blooded. That means the temperature in their bodies is warm and usually stays the same. Female mammals make milk in their bodies. They feed the milk to their babies.

21. What do all mammals have in common?

- (a) Hair and a backbone
(b) Scales and fins
(c) A tail and hair
(d) Backbone and fins

22. Which of the following has characteristics of a mammal?

- (a) Eagles (b) Horse
(c) Snake (d) Spider

23. Which information is true about dogs?

- (a) Dogs have hair. They do not have backbones.
(b) Dogs have both hair and backbones.
(c) Dogs have both hair and backbones.
(d) Dogs have no hair and backbones.

24. Dogs have no hair and backbones.

- (a) Mammals (b) Birds
(c) Insects (d) Reptiles

25. The word "characteristics" means:

- (a) important (b) features
(c) difference (d) unusual

School Based Assessment 2021

School Name (EMIS code): _____

Tehsil: _____ District: _____

Student Name: _____ Section: _____

Roll Number: _____ Date: _____

General Instructions:

- (1) Use mask & keep at least 3 ft. distance from each other.
- (2) Read carefully and attempt all questions.
- (3) Encircle the correct option of each of the Multiple Choice Questions (MCQs) as shown in the example given below. Example: I am _____ my homework.
(a) does (b) did (c) doing (d) done
- (4) If more than one options are encircled in a question, no mark will be given.

Total Marks: 50

(Multiple Choice Questions)

Total Time: 1 Hour

1. Identify the rhyming word for "Reach".

- (a) Match (b) Teach
(c) Catch (d) Much

2. Which of the following can be used to make a compound word that starts with the word "Tooth"?

- (a) brush (b) milk
(c) clean (d) white

3. Identify the word which has silent "t" sound.

- (a) Teach (b) Night
(c) Kite (d) Match

4. "I saw _____ elephant in the zoo."

- (a) the (b) any
(c) a (d) an

5. In the given picture, the girl is _____.



- (a) reading a book (b) watching T.V.
(c) eating lunch (d) playing football

6. Identify the past form (2nd form) of the verb "See".

- (a) Seeing (b) See
(c) Saw (d) Seen

7. "Saba is _____ with her doll."

- (a) playing (b) play
(c) plays (d) played

8. "Last week, students _____ their school."

- (a) decorated (b) decorate
(c) decorates (d) decorating

9. "The boys _____ be waiting for the bus."

- (a) will (b) are
(c) had (d) have

10. Identify the correct structured sentence.

- (a) They have arranged a function in school.
(b) They have function a arranged in school.
(c) They have in school arranged a function.
(d) They in school have arranged a function.

11. "Our school library _____ ten thousand books."

- (a) was (b) is
(c) have (d) has

12. "Your brother is playing with glass. How will you stop him to do so?"

- (a) It is dangerous to do so.
- (b) Share your toys with your friends.
- (c) Hold it with your hands.
- (d) Don't give it to your mother.

13. Choose adjective of colour among the following.

- (a) Brave
- (b) Blue
- (c) Some
- (d) Small

14. "He advised me to never tell a lie." Identify the category of underlined word.

- (a) Verb
- (b) Adverb
- (c) Noun
- (d) Pronoun

15. Identify the compound word in the following sentence. "Sweeper cleaned the bedroom in the evening."

- (a) Sweeper
- (b) cleaned
- (c) bedroom
- (d) evening

16. Identify the word which has a long "e sound".

- (a) Better
- (b) Sheep
- (c) Parrot
- (d) Sets

17. Identify the declarative sentence among the following.

- (a) My brother is sleeping.
- (b) Is my mother cooking?
- (c) Go and sleep well.
- (d) Please, do not sleep now.

18. Choose the sentence with the correct use of an adverb.

- (a) You run very fastly.
- (b) I am very tired.
- (c) We work in an office.
- (d) He drinks water slow.

19. Identify the word which has a short vowel sound:

- (a) Stood
- (b) Food
- (c) Pick
- (d) Strong

20. Choose correct option to complete the word "_____el" meaningfully.

- (a) Ghr
- (b) Shr
- (c) Chr
- (d) Whe

Paragraph: Read the following paragraph carefully and answer the questions given below.

A female sea turtle crawls along the beach. She finds a safe spot. She digs a hole to lay eggs inside it. The sea turtle mother covers the eggs with sand. She does it to protect the eggs from other animals. Then, the sea turtle mother returns to the sea. Two months later, the eggs hatch. Baby turtles dig out of the sand. They cross the beach to the ocean. The little turtles eat and grow in the ocean. They may live for more than eighty years. Female sea turtles come back only to lay eggs. Then the cycle of life begins again.

21. Where does a mother sea turtle lay her eggs?

- (a) In the ocean
- (b) A nest in a tree
- (c) A hole in the beach
- (d) Inside bushes on the sea shore

22. According to the paragraph, where do baby sea turtles go after they hatch?

- (a) The ocean
- (b) The beach
- (c) A river
- (d) A lake

23. The word "protect" means:

- (a) attack
- (b) secure
- (c) waste
- (d) break

24. Which information is NOT correct about turtles?

- (a) A female sea turtle digs a hole to lay eggs inside it.
- (b) Female sea turtles come back to see baby turtles.
- (c) Turtles may live for more than eighty years.
- (d) Eggs hatch after two months.

25. Identify the thing with which the turtle mother covers eggs with.

- (a) Grass
- (b) Sand
- (c) Stones
- (d) Feathers

SCHOOL BASED ASSESSMENT 2021 GRADE 5
ISLAMIAT PART – A (Objective Type)

Part-A: 30 Marks, Part-B (Nazra Quran): 20 Marks, Total: 50 Marks

SCHOOL NAME: _____

TEHSIL: _____ **DISTRICT :** _____

Student Name: _____ **Section:** _____

Roll Number: _____ **Date:** _____

Use mask and keep 3 feet distance from each other.

طلبہ کے لیے عمومی ہدایات: (1) ماسک پہنیں اور آپس میں کم از کم 3 فٹ کا فاصلہ رکھیں۔

Read carefully and attempt all questions.

(2) غور سے پڑھیں اور تمام سوالات حل کریں۔

Encircle the correct option of each of the Multiple Choice Questions (MCQs) as shown in the example given below.

(3) ہر کثیر الانتخابی سوال کے صحیح جواب پر دائرہ لگائیں جیسا کہ نیچے دی گئی مثال میں دکھایا گیا ہے۔

Example: How many Salah are obligatory for Muslims in a day?

مثال: مسلمانوں پر روزانہ کتنی نمازیں فرض ہیں؟

(A) Three تین (B) Four چار (C) Five پانچ (D) Six چھ

If more than one options are encircled in a question, no mark will be given.

اگر کسی سوال میں ایک سے زیادہ جوابات کے گرد دائرہ لگایا گیا تو کوئی نمبر نہیں دیا جائے گا۔

Total Marks: 30

Part-A (Multiple Choice Questions)

Total Time: 45 Minutes

Instructions: Fifteen (15) Multiple Choice Questions (MCQs) are given in this part. Each question carries two marks.

ہدایات: اس حصہ میں پندرہ (15) کثیر الانتخابی سوالات دیے گئے ہیں۔ ہر سوال کے دو نمبر ہیں۔

سوال نمبر 5: عید کی نماز کے لیے آتے اور جاتے وقت پڑھی جاتی ہیں:

It is recited when coming and going for Eid Salah:

(a) تکبیرات Takbeerat (b) دعائیں Duas

(c) تسبیحات Tasbeehat (d) احادیث Ahaadith

سوال نمبر 6: مہاجرین کے مدینہ ہجرت کرنے کا مقصد تھا:

The purpose of Muhajireen's migration to

Madina was:

(a) کاروبار کرنا doing business

(b) دولت کمانا earning wealth

(c) کاشتکاری کرنا farming

(d) اللہ تعالیٰ کی رضا کا حصول achieving the pleasure of Allah Almighty

سوال نمبر 7: مسجد نبوی صلی اللہ علیہ وعلیٰ آلہ و اصحابہ وسلم کی تعمیر والی جگہ لی گئی:

The land of Masjid-e-Nabvi

was taken:

(a) ادھار on loan

(b) قیمت ادا کر کے by paying money

(c) تحفہ میں as a gift

(d) دوسری جگہ کے بدلے in replace of other land

سوال نمبر 8: میثاق مدینہ کی رو سے مدینہ منورہ کہلاتا ہے:

According to the Charter of Madina, Madina

Munawara city is called:

(a) مقدس شہر Sacred city (b) مرکز اسلامی Islamic centre

(c) دار الخلافہ Capital (d) دارالحکمت House of wisdom

سوال نمبر 1: کراما کا تین لکھتے ہیں:

(a) اللہ تعالیٰ کے احکامات the commands of Allah Almighty

(b) انسان کا رزق man's provision

(c) انسان کے اعمال man's deeds

(d) انسان کی تقدیر the destiny of man

سوال نمبر 2: ایمان کی بنیادی شرط ہے:

(a) رسول اللہ صلی اللہ علیہ وعلیٰ آلہ و اصحابہ وسلم کے فیصلوں کے مطابق عمل کرنا

follow the decisions of Rasoolullah صلی اللہ علیہ وعلیٰ آلہ و اصحابہ وسلم

(b) یتیموں کی دیکھ بھال کرنا care for orphans

(c) اولاد کی اچھی تربیت کرنا train the children well

(d) غریبوں کی ضروریات کا خیال رکھنا take care of the needs of the poor

سوال نمبر 3: نبی کریم صلی اللہ علیہ وعلیٰ آلہ و اصحابہ وسلم کی سیرت میں راہنمائی موجود ہے:

There is guidance in the Seerat of Rasoolullah

for:

(a) گھریلو معاملات کے لیے domestic Matters

(b) سیاسی معاملات کے لیے political Matters

(c) معاشرتی معاملات کے لیے social Matters

(d) زندگی کے تمام معاملات کے لیے all matters of life

سوال نمبر 4: نماز جمعہ مکمل آداب کے ساتھ ادا کرنے سے گناہ معاف ہوتے ہیں:

Performing Friday Salah with complete

etiquette forgives sins of:

(a) ایک سال کے one year (b) ایک ماہ کے one month

(c) ایک ہفتے کے one week (d) ساری عمر کے all life

NAZRA QURAN AND RUBRICS

SCHOOL BASED ASSESSMENT 2021 GRADE 5
ISLAMIAT PART – B (Nazra Quran)

Total Marks:20

NAZRA QURAN AND RUBRICS

1- حفظ: (آیہ الکرسی، سورۃ الفلق، سورۃ الناس) (10 نمبر)

ہدایات برائے ممتحن: ہر سچے سے مذکورہ بالا سورتوں میں سے کوئی ایک سورت زبانی سنی جائے۔

Rubrics

1- تجوید کے اصولوں (رموز اوقاف، حروف کے مخارج، مد، غنہ اور قلقلہ) کو مد نظر رکھتے ہوئے روانی اور حروف کی درست ادائیگی کے ساتھ بلند آواز میں درج بالا نصاب میں سے کوئی ایک سورت زبانی سنانے پر 10 نمبر دیے جائیں۔

2- ہچکچاہٹ کے ساتھ رک رک کر لیکن درست زبانی سنانے پر 10 نمبر دیے جائیں۔

3- صرف تلفظ کی غلطیوں کے ساتھ پڑھنے کی صورت میں 5 تا 8 نمبر دیے جائیں۔

4- تلفظ کی غلطیوں کے ساتھ ساتھ لفظی غلطیوں یا حروف حذف کرنے کی صورت میں 1 تا 4 نمبر دیے جائیں۔

5- بالکل غلط یا نہ سنانے پر صفر نمبر دیا جائے۔

2- حفظ و ترجمہ: (10=5+5 نمبر)

(سورۃ الفاتحہ، التحیات، درود ابراہیمی، سورۃ البقرہ، آیت: 201، سورۃ ابراہیم، آیت: 40 تا 41)

ہدایات برائے ممتحن: ہر سچے سے درج بالا نصاب میں سے کسی ایک کو ترجمہ کے ساتھ زبانی سنا جائے۔

Rubrics: برائے ترجمہ (5 نمبر)

1- درج بالا نصاب میں سے کسی ایک کو تجوید کے اصولوں (رموز اوقاف، حروف کے مخارج، مد، غنہ اور قلقلہ) کو مد نظر رکھتے ہوئے روانی اور حروف کی درست انداز میں ادائیگی کے ساتھ بلند آواز میں زبانی سنانے پر 5 نمبر دیے جائیں۔

2- ہچکچاہٹ کے ساتھ رک رک کر لیکن درست زبانی سنانے پر 4 نمبر دیے جائیں۔

3- صرف تلفظ کی غلطیوں کے ساتھ سنانے کی صورت میں 3 نمبر دیے جائیں۔

4- تلفظ کی غلطیوں کے ساتھ ساتھ لفظی غلطیوں یا حروف حذف کرنے کی صورت میں 1 تا 2 نمبر دیے جائیں۔

5- بالکل غلط یا نہ سنانے پر صفر نمبر دیا جائے۔

Rubrics: برائے ترجمہ (5 نمبر)

1- طالب علم درج بالا نصاب میں سے کسی ایک کا لفظ بہ لفظ یا محاورہ درست ترجمہ زبانی سناتا ہے تو اسے 5 نمبر دیے جائیں۔

2- ہچکچاہٹ کے ساتھ رک رک کر لیکن درست ترجمہ زبانی سنانے پر 4 نمبر دیے جائیں۔

3- معمولی غلطیوں اور نامکمل، لیکن آدھے سے زیادہ درست ترجمہ سنانے کی صورت میں 3 نمبر دیے جائیں۔

4- لفظی غلطیوں اور آدھے سے کم درست ترجمہ سنانے پر 1 تا 2 نمبر دیے جائیں۔

5- بالکل غلط یا نہ سنانے پر صفر نمبر دیا جائے۔

سوال نمبر 9: غزوہ بدر میں کامیابی سے مسلمانوں کو کیا فائدہ حاصل ہوا؟

What benefit did Muslims get from victory in Ghazwa-e-Badr?

(a) تمام کافر مسلمان ہو گئے All non-believers became Muslims

(b) اسلام تیزی سے پھیلنے لگا Islam began to spread rapidly

(c) تمام مسلمان امیر ہو گئے All Muslims became rich

(d) منافقین کا پتہ چل گیا Hypocrites got exposed

سوال نمبر 10: قیصر روم کے دربار میں ابوسفیان نے رسول اللہ صلی اللہ علیہ وعلیٰ آلہ واصحابہ وسلم کی کس صفت کے بارے میں گواہی دی؟

In Roman King's court, which attribute of Rasoolullah صلی اللہ علیہ وعلیٰ آلہ واصحابہ وسلم was testified by Abu Sufyan?

(a) وعدے کی پابندی (b) استقامت Steadfastness

(c) عفو و درگزر (d) کفایت شعاری Frugality

سوال نمبر 11: رحم دلی سے مراد ہے:

Compassion (kindness) means to:

(a) دوسروں کی خدمت کرنا (b) Compassion (kindness) means to:

(b) نرمی سے پیش آنا treating others politely

(c) سچ بولنا (d) speaking the truth

سوال نمبر 12: کفایت شعاری اپنانے سے انسان ہو جاتا ہے:

Frugality (moderate spending) makes a person:

(a) فضول خرچ (b) غریب poor

(c) خوش حال (d) prosperous

سوال نمبر 13: کس آسمانی کتاب کی حفاظت کی ذمہ داری اللہ تعالیٰ نے خود اٹھائی ہے:

The safety of which divine book has been guaranteed by Allah Almighty Himself?

(a) قرآن مجید (b) The Holy Quran

(c) زبور (d) The Zaboor

سوال نمبر 14: حضرت عیسیٰ علیہ السلام کی مقبولیت سے کون گھبرائے تھے؟

Who became frightened because of Hazrat Isa's علیہ السلام popularity?

(a) آپ کے حواری (b) Jewish scholars

(c) حکمران (d) Rulers

سوال نمبر 15: ”جامع القرآن“ کن کو کہا جاتا ہے؟

Who is called "Jami-ul-Quran" (The compiler of the Holy Quran)?

(a) حضرت ابوبکر صدیق رضی اللہ تعالیٰ عنہ Hazrat Abu Bakr Siddique

(b) حضرت عمر فاروق رضی اللہ تعالیٰ عنہ Hazrat Umar Farooq

(c) حضرت عثمان غنی رضی اللہ تعالیٰ عنہ Hazrat Usman Ghani

(d) حضرت علی المرتضیٰ رضی اللہ تعالیٰ عنہ Hazrat Ali Al-Murtaza

**SCHOOL BASED ASSESSMENT 2021 GRADE 5
ISLAMIAT PART – A (Objective Type)**

Part-A: 30 Marks, Part-B (Nazra Quran): 20 Marks, Total: 50 Marks

SCHOOL NAME: _____

TEHSIL: _____ **DISTRICT :** _____

Student Name: _____ **Section:** _____

Roll Number: _____ **Date:** _____

Use mask and keep 3 feet distance from each other.

طلبہ کے لیے عمومی ہدایات: (1) ماسک پہنیں اور آپس میں کم از کم 3 فٹ کا فاصلہ رکھیں۔

Read carefully and attempt all questions.

(2) غور سے پڑھیں اور تمام سوالات حل کریں۔

Encircle the correct option of each of the Multiple Choice Questions (MCQs) as shown in the example given below.

(3) ہر کثیر الانتخابی سوال کے صحیح جواب پر دائرہ لگائیں جیسا کہ نیچے دی گئی مثال میں دکھایا گیا ہے۔

Example: How many Salah are obligatory for Muslims in a day?

مثال: مسلمانوں پر روزانہ کتنی نمازیں فرض ہیں؟

- (A) Three تین (B) Four چار (C) Five پانچ (D) Six چھ

If more than one options are encircled in a question, no mark will be given.

اگر کسی سوال میں ایک سے زیادہ جوابات کے گرد دائرہ لگایا گیا تو کوئی نمبر نہیں دیا جائے گا۔

Total Marks: 30

Part-A (Multiple Choice Questions)

Total Time: 45 Minutes

Instructions: Fifteen (15) Multiple Choice Questions (MCQs) are given in this part. Each question carries two marks.

ہدایات: اس حصہ میں پندرہ (15) کثیر الانتخابی سوالات دیے گئے ہیں۔ ہر سوال کے دو نمبر ہیں۔

سوال نمبر 5: عید کی نماز کے لیے صاف کپڑے پہننا اور خوشبو لگانا عمل ہے:

Wearing clean clothes and applying fragrance for Eid Salah is:

(a) Farz فرض (b) Wajib واجب

(c) Sunnah سنت (d) Mustahab مستحب

سوال نمبر 6: Muakhat-e-Madina means:

(a) کفار اور یہود میں اتحاد

Jews

(b) یہود سے تعلقات کا قیام

Jews

(c) مہاجرین اور انصار کا بھائی

Muhajireen and Ansar

(d) بنو نضیر اور بنو قریظہ میں صلح

Nuzair and Banu Quraiza

سوال نمبر 7: مسجد نبوی میں ایک نماز ادا کرنے کا ثواب برابر ہے:

The reward of offering one Salah in Masjid-e-Nabvi is equal to:

(a) five thousand Salah کے پانچ ہزار نمازوں کے

(b) twenty five thousand Salah کے پچیس ہزار نمازوں کے

(c) fifty thousand Salah کے پچاس ہزار نمازوں کے

(d) one lac Salah کے ایک لاکھ نمازوں کے

سوال نمبر 8: میثاق مدینہ کے تحت امن وامان کے قیام کی ذمہ داری تھی:

According to the Charter of Madina, establishment of law and order was the responsibility of:

(a) انصار کی (b) تمام قبائل کی

(c) مہاجرین کی (d) یہودیوں کی

On the Day of Resurrection, سوال نمبر 1: یوم حساب ترازو کے ایک پلڑے میں انسان کی نیکیاں اور ایک پلڑے میں اس کے برائیاں اور دوسرے پلڑے میں رکھی جائیں گی:

(a) کامیابیاں (b) اچھائیاں

(c) برائیاں (d) نعتیں

سوال نمبر 2: سورہ آل عمران کے مطابق، اللہ تعالیٰ کی محبت کے حصول کا ذریعہ ہے:

According to Surah Aal-e-Imran, the mean of acquiring Allah Almighty's love is:

(a) اللہ تعالیٰ کی راہ میں خرچ کرنا

(b) اللہ تعالیٰ کی مخلوق سے محبت کرنا

(c) خدمت خلق کرنا

(d) رسول اللہ صلی اللہ علیہ وسلم کی اطاعت کرنا

سوال نمبر 3: روزہ کے مسائل اور احکام کی وضاحت کے لیے ہمیں رجوع کرنا پڑتا ہے:

To clarify the issues and rules of Saom, we have to refer to:

(a) قرآن پاک کی طرف

(b) تاریخی کتابوں کی طرف

(c) آسمانی کتابوں کی طرف

(d) سنت نبوی صلی اللہ علیہ وسلم کی طرف

سوال نمبر 4: قرآن مجید میں مسلمانوں کو نماز جمعہ کے وقت کیا کرنے کا حکم دیا گیا ہے؟

In the Holy Quran, what the Muslims have been ordered to do at the time of Namaz-e-Jumu'ah?

(a) یتیموں کی مدد کرنے کا

(b) نیا لباس پہننے کا

(c) خرید و فروخت ترک کرنے کا

(d) کثرت سے سخاوت کرنے کا

سوال نمبر 9: غزوہ بدر میں مسلمانوں کی فتح سے سبق ملتا ہے کہ ہمیں کرنا چاہیے:

We learn from victory of Muslims in Ghazwa-e-Badr to:

- (a) ہر حال میں دشمن کی مخالفت (b) فرشتوں کی مدد کا انتظار
(c) اللہ تعالیٰ پر مکمل بھروسہ (d) دوستوں کی مدد پر یقین

سوال نمبر 10: یہودی قبائل کو کس وجہ سے جلاوطن کیا گیا؟

Jewish tribes were exiled because of:

- (a) چراگاہ پر حملہ کرنے کی وجہ سے attacking the meadow
(b) پہاڑی درے پر متعین مسلمانوں attacking the Muslims
(c) خندق کی کھدائی میں حصہ نہ لینے سے not participating in digging of trench
(d) بیشاق مدینہ پر عمل نہ کرنے کی وجہ سے not observing Misaq-e-Madina

سوال نمبر 11: چڑیا کو پریشان دیکھ کر رسول اللہ صلی اللہ علیہ وعلیٰ آلہ واصحابہ وسلم کا اس کے بچوں کو واپس گھونسے میں رکھنے کا حکم دینا ظاہر کرتا ہے آپ صلی اللہ علیہ وعلیٰ آلہ واصحابہ وسلم کی:

On seeing the sparrow upset, Rasoolullah's ordering to put sparrow's young ones back in the nest shows

صلی اللہ علیہ وعلیٰ آلہ واصحابہ وسلم :

- (a) عدل کو justice (b) صبر و تحمل کو patience and forbearance
(c) غنودرگز کو forgiveness (d) رحم دلی کو compassion (kindness)

سوال نمبر 12: کس عمل سے دوسروں کے آگے ہاتھ پھیلانے سے بچا جاسکتا ہے؟

Which practice saves us from resorting to begging from others?

- (a) راست بازی Truthfulness
(b) کفایت شعاری Frugality (moderate spending)
(c) رواداری Justice and equity
(d) عدل و انصاف Tolerance

سوال نمبر 13: لفظ "آلہم" پڑھنے سے کتنی نیکیاں ملتی ہیں؟

How many virtues are awarded on reciting word "آلہم"?

- (a) بیس Twenty
(b) تیس Thirty
(c) چالیس Forty
(d) پچاس Fifty

سوال نمبر 14: بنی اسرائیل کے مذہبی راہنماؤں نے تورات میں تبدیلی کی:

Religious leaders of Bani Israeel made amendments in Torah because of:

- (a) گورنر کے کہنے پر directions of the Governor
(b) لوگوں کی آسانی کے لیے facilitating people
(c) لوگوں کی اصلاح کے لیے reforming people
(d) دنیاوی لالچ کی خاطر worldly temptations

سوال نمبر 15: حضرت عثمان غنی رضی اللہ تعالیٰ عنہ کے والد کا نام کیا تھا؟

What was the name of the father of Hazrat Usman Ghani رضی اللہ تعالیٰ عنہ؟

- (a) عدنان Adnan (b) عفان Affan
(c) سلمان Salman (d) سفیان Sufyan

NAZRA QURAN AND RUBRICS
SCHOOL BASED ASSESSMENT 2021 GRADE 5
ISLAMIAT PART – B (Nazra Quran)
Total Marks:20

NAZRA QURAN AND RUBRICS

1- حفظ: (آیہ الکرسی، سورۃ الفلق، سورۃ الناس) (10 نمبر)

ہدایات برائے ممتحن: ہر سچے سے مذکورہ بالا سورتوں میں سے کوئی ایک سورت زبانی سنی جائے۔

Rubrics

1- تجوید کے اصولوں (رموز اوقاف، حروف کے مخارج، مد، غنہ اور قلقلہ) کو مد نظر رکھتے ہوئے روانی اور حروف کی درست ادائیگی کے ساتھ بلند آواز میں درج بالا نصاب میں سے کوئی ایک سورت زبانی سنانے پر 10 نمبر دیے جائیں۔

2- ہچکچاہٹ کے ساتھ رک رک کر لیکن درست زبانی سنانے پر 10 نمبر دیے جائیں۔

3- صرف تلفظ کی غلطیوں کے ساتھ پڑھنے کی صورت میں 5 تا 8 نمبر دیے جائیں۔

4- تلفظ کی غلطیوں کے ساتھ ساتھ لفظی غلطیوں یا حروف حذف کرنے کی صورت میں 1 تا 4 نمبر دیے جائیں۔

5- بالکل غلط یا نہ سنانے پر صفر نمبر دیا جائے۔

2- حفظ و ترجمہ: (10=5+5 نمبر)

(سورۃ الفاتحہ، التحیات، درود ابراہیمی، سورۃ البقرہ، آیت: 201، سورۃ ابراہیم، آیت: 40 تا 41)

ہدایات برائے ممتحن: ہر سچے سے درج بالا نصاب میں سے کسی ایک کو ترجمہ کے ساتھ زبانی سنا جائے۔

Rubrics: برائے حفظ (5 نمبر)

1- درج بالا نصاب میں سے کسی ایک کو تجوید کے اصولوں (رموز اوقاف، حروف کے مخارج، مد، غنہ اور قلقلہ) کو مد نظر رکھتے ہوئے روانی اور حروف کی درست انداز میں ادائیگی کے ساتھ بلند آواز میں زبانی سنانے پر 5 نمبر دیے جائیں۔

2- ہچکچاہٹ کے ساتھ رک رک کر لیکن درست زبانی سنانے پر 4 نمبر دیے جائیں۔

3- صرف تلفظ کی غلطیوں کے ساتھ سنانے کی صورت میں 3 نمبر دیے جائیں۔

4- تلفظ کی غلطیوں کے ساتھ ساتھ لفظی غلطیوں یا حروف حذف کرنے کی صورت میں 1 تا 2 نمبر دیے جائیں۔

5- بالکل غلط یا نہ سنانے پر صفر نمبر دیا جائے۔

Rubrics: برائے ترجمہ (5 نمبر)

1- طالب علم درج بالا نصاب میں سے کسی ایک کا لفظ بہ لفظ یا با محاورہ درست ترجمہ زبانی سنانا ہے تو اسے 5 نمبر دیے جائیں۔

2- ہچکچاہٹ کے ساتھ رک رک کر لیکن درست ترجمہ زبانی سنانے پر 4 نمبر دیے جائیں۔

3- معمولی غلطیوں اور نامکمل، لیکن آدھے سے زیادہ درست ترجمہ سنانے کی صورت میں 3 نمبر دیے جائیں۔

4- لفظی غلطیوں اور آدھے سے کم درست ترجمہ سنانے پر 1 تا 2 نمبر دیے جائیں۔

5- بالکل غلط یا نہ سنانے پر صفر نمبر دیا جائے۔

Paper Mathematics 5

School Based Assessment 2021

School Name (EMIS code): _____

Tehsil: _____ District: _____

Student Name: _____ Section: _____

Roll Number: _____ Date: _____

General Instructions:

- (1) Use mask & keep at least 3 ft. distance from each other. طلبہ کے لیے عمومی ہدایات:
 - (2) Read carefully and attempt all questions. ماسک کا استعمال کریں اور آپس میں کم از کم تین فٹ کا فاصلہ رکھیں۔
 - (3) Encircle the correct option of each of the Multiple Choice Questions (MCQs) as shown in the example given below. غور سے پڑھیں اور تمام سوالات حل کریں۔
- ہر کثیر الانتخابی سوال کے صحیح جواب پر دائرہ لگائیں جیسا کہ نیچے دی گئی مثال میں دکھایا گیا ہے۔

Example: $64 \div 8 =$

- (a) 4 (b) 6 (c) 8 (d) 12

- (4) If more than one options are encircled in a question, no mark will be given.

اگر کسی سوال میں ایک سے زیادہ جوابات کے گرد دائرہ لگایا گیا تو کوئی نمبر نہیں دیا جائے گا۔

Total Marks: 50

MCQs

Total Time: 1 hour

Instructions: Twenty five (25) Multiple Choice Questions (MCQs) are given in this part. Each question carries two marks.

ہدایات: اس حصہ میں پچیس (25) کثیر الانتخابی سوالات دیے گئے ہیں۔ ہر سوال کے 2 نمبر ہیں۔

سوالات Questions

Q.No.1. $8000 + 41 =$

- (a) 8041 (b) 8410
(c) 12100 (d) 80041

Q.No.2. $76925 - 5986 =$

- (a) 70919 (b) 70929
(c) 70939 (d) 70992

Q.No.3. $621040 \times 10 =$

- (a) 620140 (b) 621040
(c) 6201400 (d) 6210400

Q.No.4. $2850 \div 10 =$

- (a) 258 (b) 285
(c) 259 (d) 295

Q.No.5. $10 + (28 \div 7)$

- (a) 10 (b) 14
(c) 38 (d) 45

Q.No.6. LCM of 3, 6, 9 and 18 is:

- (a) 3 (b) 6
(c) 9 (d) 18
- 18 اور 9، 6، 3 کا ذراضعاف اقل ہے:

Q.No.7. $\frac{1}{6} - \frac{1}{36} =$

- (a) $\frac{1}{36}$ (b) $\frac{5}{36}$
(c) $\frac{1}{30}$ (d) $\frac{7}{30}$

Q.No.8. $\frac{5}{6} \times \frac{2}{25} =$

- (a) $\frac{1}{5}$ (b) $\frac{2}{5}$
(c) $\frac{1}{15}$ (d) $\frac{2}{15}$

Q.No.9. $366.7 + 10.4 =$

- (a) 0.3771 (b) 3.771
(c) 37.71 (d) 377.1

Q.No.10. $75.29 - 44.84 =$

- (a) 20.42 (b) 30.45
(c) 25.42 (d) 34.42

Q.No.11. $0.011 \times 7 =$

- (a) 0.0077 (b) 0.077
(c) 0.77 (d) 7.7

Q.No.12. $0.076 \times 100 =$

- (a) 0.0076 (b) 0.076
(c) 0.76 (d) 7.6

Q.No.13. $72.4 \div 10 =$

- (a) 72.40 (b) 72.04
(c) 7.240 (d) 0.724

Q.No.14. $9.7 - (1.6 \div 0.4) =$

- (a) 4.6 (b) 4.7
(c) 5.7 (d) 8.1

Q.No.15. Saima bought 8.25m cloth for her brother and 4.25m for her self.The total cloth Saima bought is:

صائمہ نے اپنے بھائی کے لیے 8.25 میٹر اور اپنے لیے 4.25 میٹر کپڑا خریدا۔ صائمہ نے کل کپڑا خریدا۔

- (a) 12.4m میٹر (b) 12.5m میٹر
(c) 12.04m میٹر (d) 12.05 m میٹر

Q.No.16. By converting 8 weeks 5 days into days, we get.

8 ہفتے 5 دنوں کو دنوں میں تبدیل کرنے سے حاصل ہوتے ہیں۔

- (a) 48 day دن (b) 56 day دن
(c) 61 day دن (d) 85 day دن

Q.No.17. How many minutes are in 10 hours?

10 گھنٹے میں کتنے منٹ ہوتے ہیں؟

- (a) 30 minutes منٹ (b) 60 minutes منٹ
(c) 70 minutes منٹ (d) 600 minutes منٹ

Q.No.18. 91metres = 91 میٹر =

- (a) 910 cm سینٹی میٹر (b) 9100 cm سینٹی میٹر
(c) 91000 cm سینٹی میٹر (d) 910000 cm سینٹی میٹر

Q.No.19. One day the temperature of Okara city was 40°C.This Temperature in Fahrenheit is:

ایک دن اوکاڑہ شہر کا درجہ حرارت 40°C تھا۔ فارن ہائیٹ سکیل میں یہ درجہ حرارت ہے:

- (a) 101 °F (b) 102 °F
(c) 103 °F (d) 104 °F

Q.No.20. 34% =

- (a) 0.00034 (b) 0.0034
(c) 0.034 (d) 0.34

Q.No.21. If cost of one copy is Rs. 15 then price of 5 such copies will be:

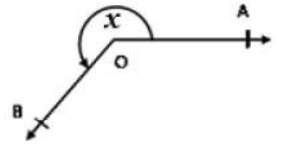
اگر ایک کاپی کی قیمت 15 روپے ہو تو ایسی 5 کاپیوں کی قیمت ہوگی۔

- (a) Rs. 3 روپے (b) Rs. 10 روپے
(c) Rs. 20 روپے (d) Rs. 75 روپے

Q.No.22. In the given figure, $\angle x$ is a/an:

دی گئی شکل میں $\angle x$ ہے۔

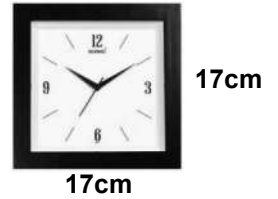
- (a) acute angle حادہ زاویہ
(b) obtuse angle منفرجہ زاویہ
(c) reflex angle عکسی زاویہ
(d) straight angle خطی زاویہ



Q.No.23. Each side of a square shaped clock is 17 cm. Its' area is.

ایک مربعی شکل کے کلاک کے ہر ضلع کی لمبائی 17 سینٹی میٹر ہے۔ کلاک کا رقبہ ہے۔

- (a) 68cm
(b) 68cm²
(c) 289cm
(d) 289cm²



Q.No.24. If the average of 10 quantities is 30, then the sum of the quantities is:

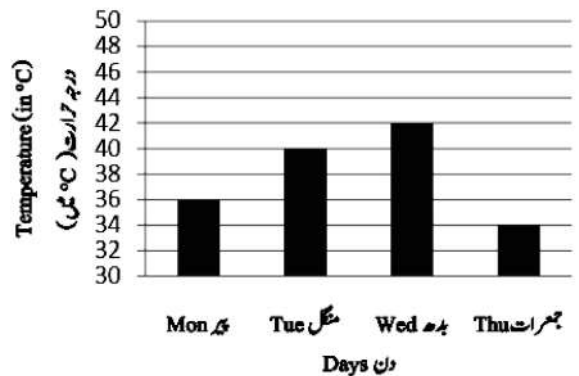
اگر 10 مقداروں کی اوسط 30 ہو تو ان کا مجموعہ ہے۔

- (a) 20 (b) 40
(c) 100 (d) 300

Q.No.25. The bar graph given below represents the temperature of four different days of Lahore. On which day the temperature is minimum?

نیچے دیا گیا بار گراف لاہور کا چار مختلف دنوں کا درجہ حرارت ظاہر کرتا ہے۔ کس دن کا درجہ حرارت سب سے کم ہے؟

- (a) Monday پیر (b) Tuesday منگل
(c) Wednesday بدھ (d) Thursday جمعرات



Paper Mathematics 5

School Based Assessment 2021

School Name (EMIS code): _____

Tehsil: _____ District: _____

Student Name: _____ Section: _____

Roll Number: _____ Date: _____

General Instructions:

- طلبہ کے لیے عمومی ہدایات:
- (1) Use mask & keep at least 3 ft. distance from each other. - ماسک کا استعمال کریں اور آپس میں کم از کم تین فٹ کا فاصلہ رکھیں۔
 - (2) Read carefully and attempt all questions. - غور سے پڑھیں اور تمام سوالات حل کریں۔
 - (3) Encircle the correct option of each of the Multiple Choice Questions (MCQs) as shown in the example given below. - ہر کثیر الانتخابی سوال کے صحیح جواب پر دائرہ لگائیں جیسا کہ نیچے دی گئی مثال میں دکھایا گیا ہے۔

Example: $64 \div 8 =$

- (a) 4 (b) 6 (c) 8 (d) 12

- (4) If more than one options are encircled in a question, no mark will be given.

اگر کسی سوال میں ایک سے زیادہ جوابات کے گرد دائرہ لگایا گیا تو کوئی نمبر نہیں دیا جائے گا۔

Total Marks: 50

MCQs

Total Time: 1 hour

Instructions: Twenty five (25) Multiple Choice Questions (MCQs) are given in this part. Each question carries two marks.

ہدایات: اس حصہ میں پچیس (25) کثیر الانتخابی سوالات دیے گئے ہیں۔ ہر سوال کے 2 نمبر ہیں۔

Questions سوالات

Q.No.1. $90000 + 32 =$

- (a) 89968 (b) 89978
(c) 90032 (d) 99978

Q.No.2. $58601 - 2300 =$

- (a) 56299 (b) 56300
(c) 56301 (d) 56302

Q.No.3. $17807 \times 10 =$

- (a) 17807 (b) 178070
(c) 178007 (d) 1780700

Q.No.4. $6510 \div 10 =$

- (a) 615 (b) 616
(c) 651 (d) 661

Q.No.5. $(10 + 28) - 7 =$

- (a) 21 (b) 31
(c) 38 (d) 45

Q.No.6. LCM of 4, 8, 12 and 16 is:

12، 8، 4 اور 16 کا ذواضعاف اقل ہے۔

- (a) 8 (b) 16
(c) 24 (d) 48

Q.No.7. $\frac{7}{15} - \frac{1}{3} =$

- (a) $\frac{1}{15}$ (b) $\frac{2}{15}$
(c) $\frac{4}{15}$ (d) $\frac{7}{15}$

Q.No.8. $\frac{5}{6} \times \frac{12}{25} =$

- (a) $\frac{1}{5}$ (b) $\frac{2}{5}$
(c) $\frac{1}{25}$ (d) $\frac{2}{25}$

Q.No.9. $65.32 + 0.025 =$

- (a) 65.343 (b) 65.344
(c) 65.345 (d) 65.346

Q.No.10. $44.62 - 0.33 =$

- (a) 44.29 (b) 44.28
(c) 442.9 (d) 442.8

Q.No.11. $12.05 \times 12 =$

- (a) 1.4446 (b) 14.446
(c) 144.46 (d) 144.6

Q.No.12. $0.087 \times 10 =$

- (a) 0.0087 (b) 0.087
(c) 0.87 (d) 8.7

Q.No.13. $163.14 \div 10 =$

- (a) 0.16314 (b) 1.6314
(c) 16.314 (d) 1631.4

Q.No.14. $(9.7 - 1.6) + 0.4 =$

- (a) 8.1 (b) 8.5
(c) 9.3 (d) 11.3

Q.No.15. One litre of petrol costs Rs.103.97. Cost of 2.5 litre petrol will be:

اگر 1 لیٹر پٹرول کی قیمت 103.97 روپے ہو تو 2.5 لیٹر پٹرول کی قیمت ہوگی۔

- (a) Rs. 259.924 روپے (b) Rs. 259.905 روپے
(c) Rs. 259.915 روپے (d) Rs. 259.925 روپے

Q.No.16. The number of weeks in 98 days are:
98 دنوں میں کتنے ہفتے ہیں۔

- (a) 12 (b) 13
(c) 14 (d) 15

Q.No.17. How many hours are in 360 minutes?
360 منٹ میں کتنے گھنٹے ہوتے ہیں؟

- (a) 4 hours گھنٹے (b) 5 hours گھنٹے
(c) 6 hours گھنٹے (d) 7 hours گھنٹے

Q.No.18. 51 cm = 51 سینٹی میٹر =

- (a) 510 mm ملی میٹر (b) 5100 mm ملی میٹر
(c) 51000 mm ملی میٹر (d) 510000 mm ملی میٹر

Q.No.19. The melting point of chocolate is 35°C. This temperature in Fahrenheit scale is:

چاکلیٹ کا نقطہ پگھلاؤ 35°C ہے۔ فارن ہائیٹ سکیل میں یہ درجہ حرارت ہے۔

- (a) 63 °C (b) 63 °F
(c) 95 °C (d) 95 °F

Q.No.20. 37% =

- (a) $\frac{37}{10}$ (b) $\frac{37}{100}$
(c) $\frac{37}{1000}$ (d) $\frac{37}{10000}$

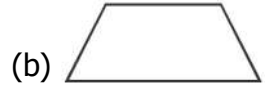
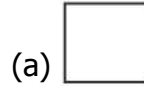
Q.No.21. If the price of 5 pencils is Rs. 100, then the price of 10 such pencils will be:

اگر 5 پینسلوں کی قیمت 100 روپے ہو تو ایسی 10 پینسلوں کی قیمت ہوگی۔

- (a) Rs. 110 روپے (b) Rs. 115 روپے
(c) Rs. 150 روپے (d) Rs. 200 روپے

Q.No.22. Which of the following is a trapezium?

درج ذیل میں سے کون سی شکل ذوزنقہ ہے؟



Q.No.23. Area of the given square region is:

دیے گئے مربعی علاقے کا رقبہ ہے:

- (a) 10 cm² (b) 14 cm²
(c) 40 cm² (d) 100 cm²



Q.No.24. What will be the sum of 4 numbers, if their average is 80?


اگر 4 اعداد کی اوسط 80 ہو تو ان کا مجموعہ ہوگا:

- (a) 76 (b) 84
(c) 220 (d) 320

Q.No.25. The given bar graph shows the marks obtained by Ahmed in his December test. His obtained marks in Urdu are:

دیے ہوئے بار گراف میں احمد کے دسمبر ٹیسٹ میں حاصل کردہ نمبر دکھائے گئے ہیں۔ اُس کے اردو میں حاصل کردہ نمبر ہیں۔

- (a) 20 (b) 30
(c) 40 (d) 50



School Based Assessment 2021

School Name (EMIS code): _____

Tehsil: _____ District: _____

Student Name: _____ Section: _____

Roll Number: _____ Date: _____

General Instructions:

(1) Use mask and keep 3 feet distance from each other.

(2) Read carefully and attempt all questions.

(3) Encircle the correct option of each of the Multiple Choice Questions (MCQs) as shown in the example given below.

ہر کثیر الانتخابی سوال کے صحیح جواب پر دائرہ لگائیں جیسا کہ نیچے دی گئی مثال میں دکھایا گیا ہے۔

Example: Covid-19 is caused by:

(a) bacteria بیکٹیریا

(b) fungi فنجائی

(c) virus وائرس

(d) algae الگی

(4) If more than one options are encircled in a question, no mark will be given.

اگر کسی سوال میں ایک سے زیادہ جوابات کے گرد دائرہ لگایا گیا تو کوئی نمبر نہیں دیا جائے گا۔

Total Marks: 50

(Multiple Choice Questions)

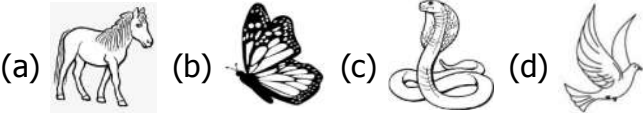
Total Time: 1 Hour

Instructions: Twenty five (25) Multiple Choice Questions (MCQs) are given in this part. Each question carries two marks.

ہدایات: اس حصہ میں پچیس (25) کثیر الانتخابی سوالات دیے گئے ہیں۔ ہر سوال کے دو نمبر ہیں۔

1. Identify the bird from the given figures.

درج ذیل تصاویر سے پرندے کی شناخت کریں۔



2. Which statement is true about invertebrates?

غیر فقاریہ جانوروں کے متعلق کون سا بیان درست ہے؟

(a) All have no backbone سب کی ریڑھ کی ہڈی نہیں ہوتی ہے

(b) all have feathers سب کے پر ہوتے ہیں

(c) All have gills سب کے گلز ہوتے ہیں

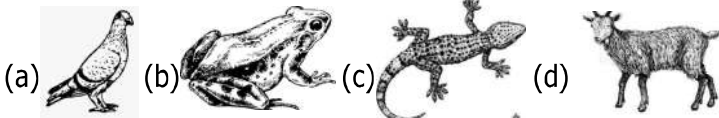
(d) all have lungs سب کے پھیپھڑے ہوتے ہیں

3. The animal shown in the following figure breathes through.....

(a) Skin جلد (b) Lungs پھیپھڑے
(c) Stomata سٹومیٹا (d) Gills گلز

4. Which animal can live in both water and land?

ان میں سے کون سا جاندار پانی اور خشکی دونوں میں رہ سکتا ہے؟



5. Which organisms grow and feed on dead material?

کون سے جانور مردہ اجسام سے پرورش اور خوراک لیتے ہیں؟

(a) Algae and fungi الگی اور فنجائی

(b) Bacteria and fungi بیکٹیریا اور فنجائی

(c) Bacteria and virus بیکٹیریا اور وائرس

(d) Fungi and Virus فنجائی اور وائرس

6. Which of the following cannot be seen without microscope?

(a) Gold fish گولڈ فیش

(b) Ostrich شتر مرغ

(c) Virus وائرس

(d) Whale ڈبیل

7. Identify the false statement for microorganism?

خوردہ بنی جاندار کے بارے میں غلط بیان کی نشاندہی کریں۔

(a) Nonliving things جاندار اشیاء (b) Living things غیر جاندار اشیاء

(c) Cause diseases ہوا میں پایا جانا (d) Distributed in air بیماری پھیلانا

8. Which type of pollution is caused by burning of fuel?

ایجنڈن کے جلنے سے کون سی قسم کی آلودگی پیدا ہوتی ہے؟

(a) Land pollution زمینی آلودگی (b) Air pollution ہوائی آلودگی

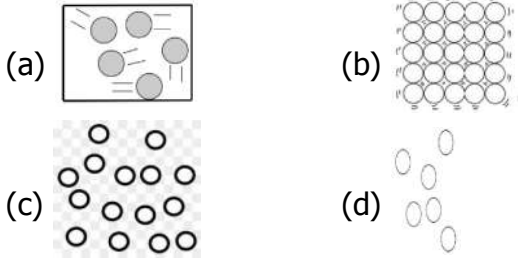
(c) Water pollution شور کی آلودگی (d) Noise pollution پانی کی آلودگی

9. By which method air pollution can be controlled?

ہوائی آلودگی کس طریقے سے قابو کی جاسکتی ہے؟

- (a) disposing off wastage کوڑا کرکٹ کوٹھکانے لگا کر
(b) to clean water پانی کو صاف کر کے
(c) burning of waste کوڑے کو جلا کر
(d) growing more forests زیادہ جنگلات اگا کر

10. Identify arrangement of particles of solid in the given figures.



11. By which process particles move faster and move away from each other?

- (a) Cooling سے ٹھنڈک (b) Heating سے حرارت
(c) Condensing سے تکثیف (d) Freezing سے جمنے


12. The process of changing solid into liquid on heating is called:

- (a) boiling ابالنا (b) melting پگھلنا
(c) freezing انجماد (d) baking بیکنگ

13. Identify pair of third kind of lever from the following:

- (a) Hammer, Pliers ہتھوڑی، پلاس
(b) Nutcracker, wheelbarrow بادام توڑنے والا آلہ، ہتھکڑی
(c) Hammer, scissors ہتھوڑی، قینچی
(d) Broom, arm جھاڑو، بازو

14. Which is the disadvantage of friction?



15. Least friction is present in:

- (a) Rough surfaces کھردری سطحوں میں
(b) Smooth surfaces ملائم سطحوں میں
(c) Oily surfaces چکنی سطحوں میں
(d) Deformed surfaces ڈیفارمڈ سطحوں میں

16. Which one of the following has large gravitational force?

- (a) Mars مریخ (b) Earth زمین
(c) Moon چاند (d) Mercury مریکی

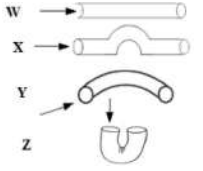
17. When light falls on an opaque object. What happens to the light?

جب روشنی کسی غیر شفاف جسم پر پڑتی ہے تو کیا ہوتا ہے؟

- (a) Light can pass روشنی گزر سکتی ہے
(b) Light cannot pass روشنی نہیں گزر سکتی
(c) Light bounces back روشنی واپس مڑ جاتی ہے
(d) Light passes partially روشنی جزوی طور پر گزر جاتی ہے

18. Choose the pipe in which light can pass easily, arrows represent the direction of light:

اُس پائپ کا انتخاب کریں جس میں روشنی آسانی سے گزر سکتی ہے۔ تیر کا نشان روشنی کی سمت کو ظاہر کرتا ہے۔



- (a) W (b) X (c) Y (d) Z

19. How eclipse is formed?

- (a) When the sun and the earth come in straight line جب سورج اور زمین خط مستقیم میں آجائیں
(b) When the sun, the moon and the earth come in straight line جب سورج، چاند اور زمین خط مستقیم میں آجائیں
(c) When the sun and the moon come in straight line جب سورج اور چاند خط مستقیم میں آجائیں
(d) When the moon and the earth come in straight line جب چاند اور زمین خط مستقیم میں آجائیں

20. Identify the electromagnetic device from the following.

- (a) Iron آئرن (b) Electric Heater الیکٹرک ہیٹر
(c) Electric bell الیکٹرک گھنٹی (d) Bulb بلب

21. Which instrument is used for the measurement of electric current in a circuit?

- (a) Fuse فیوز (b) Ammeter ایم میٹر
(c) Key کی (d) Battery بیٹری

22. When current passes through the coil of an electric bell, the coil becomes:

- (a) Magnetic compass آرمیچر (b) Armature مقناطیسی قطب نما
(c) Electromagnet سوئچ (d) Switch برقی مقناطیس

23. Which one of the following is true about Moon?

- (a) It is a star یہ ایک ستارہ ہے
(b) It has its own light اس کی اپنی روشنی ہوتی ہے
(c) It has hot gases یہ گرم گیسوں کا گولہ ہے
(d) It revolves around planet یہ سیارے کے گرد گھومتا ہے

24. Earth is a/an:

- (a) Planet سیارہ (b) Star ستارہ
(c) Comet (دم دار ستارہ) (d) Asteroid اسٹورائڈ

25. Which of the following is a red planet?

- (a) Mercury عطارد (b) Venus زہرہ
(c) Earth زمین (d) Mars مریخ

School Based Assessment 2021

School Name (EMIS code): _____

Tehsil: _____ District: _____

Student Name: _____ Section: _____

Roll Number: _____ Date: _____

General Instructions:

(1) Use mask and keep 3 feet distance from each other.

(2) Read carefully and attempt all questions.

(3) Encircle the correct option of each of the Multiple Choice Questions (MCQs) as shown in the example given below.

مثال: کووڈ-19 کی وجہ سے:

Example: Covid-19 is caused by:

- (a) bacteria بیکٹیریا (b) fungi فنجائی (c) virus وائرس (d) algae لگی

(4) If more than one options are encircled in a question, no mark will be given.

اگر کسی سوال میں ایک سے زیادہ جوابات کے گرد دائرہ لگایا گیا تو کوئی نمبر نہیں دیا جائے گا۔

Total Marks: 50

(Multiple Choice Questions)

Total Time: 1 Hour

Instructions: Twenty five (25) Multiple Choice Questions (MCQs) are given in this part. Each question carries two marks.

ہدایات: اس حصہ میں پچیس (25) کثیر الانتخابی سوالات دیے گئے ہیں۔ ہر سوال کے دو نمبر ہیں۔

1. What is the one characteristic that distinguishes snake from all other reptiles?

وہ کون سی ایک خصوصیت ہے جو سانپ کو دوسرے ریپٹل کے والے جانوروں سے الگ کرتی ہے؟

- (a) Dry skin خشک جلد (b) Thick Skin موٹی جلد
(c) Laying eggs انڈے دینا (d) No limbs نہ ہونا ٹانگیں

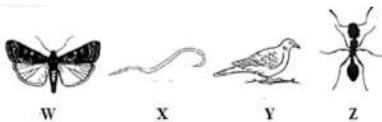
2. Yeast is the example of:

- (a) Algae لگی کی (b) Fungi فنجائی کی
(c) Bacteria بیکٹیریا کی (d) Virus وائرس کی

3. Identify the vertebrate from the following animals.

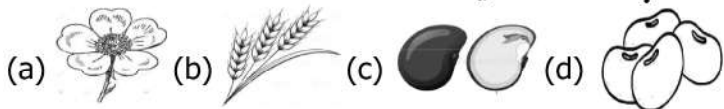
درج ذیل میں سے فقاریہ جانور کی نشاندہی کریں۔

- (a) W
(b) X
(c) Y
(d) Z



4. Identify the monocot plant from following.

مونوکاٹ پودے کی شناخت کریں۔



5. Which of the following is an example of fungi?

مندرجہ ذیل میں سے فنجائی کی مثال کون سی ہے؟

- (a) Algae (b) Bacteria
(c) Yeast (d) Virus

6. An example of bacterial disease is:

بیکٹیریل بیماری کی مثال ہے:

- (a) Influenza انفلوئنزا (b) Polio پولیو
(c) Typhoid ٹائیفائیڈ (d) Ringworm رنگ ورم

7. Which one of the following diseases is caused by virus?

درج ذیل میں سے کون سی بیماری وائرس کی وجہ سے پیدا ہوتی ہے؟

- (a) Corona کرونا (b) Food Poisoning فوڈ پوائزنگ
(c) Pneumonia پنمونیا (d) Tuberculosis ٹی بی

8. Which harmful waste material is added in air, water and soil?

ہوا، پانی اور مٹی میں کون سا خطرناک اضافی مواد شامل ہوتا ہے؟

- (a) Pollutants آلود کار (b) Water vapours آبی بخارات
(c) Cloud بادل (d) Smell بو

9. Which of the following is bacterial disease linked to air pollution?

مندرجہ ذیل میں سے بیکٹیریل بیماری کون سی ہے جو ہوائی آلودگی سے منسلک ہے؟

- (a) Polio پولیو (b) Influenza انفلوئنزا
(c) TB ٹی بی (d) Ringworm رنگ ورم

10. Which one of the following is the property of solid?

درج ذیل خصوصیات میں سے کون سی خاصیت ٹھوس کی ہے؟

- (a) Have no definite volume مخصوص والیوم نہیں ہوتا
(b) Particles are tightly packed ذرات مضبوطی کے ساتھ جڑے ہوتے ہیں
(c) Have no definite shape مخصوص شکل نہیں ہوتی
(d) Particles are loosely packed ذرات مضبوطی کے ساتھ جڑے نہیں ہوتے

11. Which of the following processes is opposite to condensation?

درج ذیل میں سے کون سا عمل تکثیف کا متضاد ہے؟

- (a) Melting پگھلنا (b) Freezing جمنا
(c) Evaporation عمل تبخیر (d) Sublimation عمل کشید

12. What are the properties of matter?

مادے کی خصوصیات کون سی ہیں؟

- (a) Have no mass but occupies space کمیت نہیں رکھتا ہے مگر جگہ گھیرتا ہے
(b) Have mass but occupies no space کمیت رکھتا ہے مگر جگہ نہیں گھیرتا ہے
(c) Have mass and occupies space کمیت رکھتا ہے اور جگہ بھی گھیرتا ہے
(d) Have no mass and occupies no space کمیت نہیں رکھتا اور نہ جگہ گھیرتا ہے

13. Which one of the following is the disadvantage of friction?

مندرجہ ذیل سے مزاحمت کا نقصان کون سا ہے؟

- (a) Walking on ground زمین پر چلنا (b) Writing لکھنا
(c) Wearing out of tyres ٹائرز کا گھسنا (d) Stopping رکننا

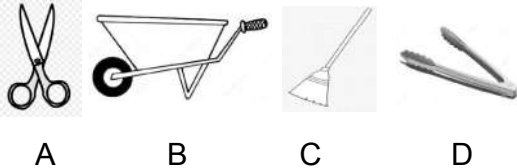
14. Which one of the following is a disadvantage of friction?

درج ذیل میں سے مزاحمت کے نقصان کی نشاندہی کریں۔

- (a) Walking on road پیادل چلنا
(b) Writing on a paper کاغذ پر لکھنا
(c) Igniting a match stick ماچس کی تیلی کا جلنا
(d) Wearing out of shoes جوتوں کا گھس جانا

15. Identify example of first kind of lever from the following figures.

مندرجہ ذیل تصاویر میں سے پیرم کی پہلی قسم کی نشاندہی کریں۔

- (a) A (b) B (c) C (d) D
- 

16. All are the advantages of friction EXCEPT:

تمام رگڑ کے فوائد ہیں ماسوائے:

- (a) Use of Brakes to stop vehicles گاڑی روکنے کے لیے بریک کا استعمال
(b) Write on paper کاغذ پر لکھنا
(c) Help us in walking چلنے میں مدد کرنا
(d) Noise produced in machine مشین میں شور کا پیدا ہونا

17. When the earth comes between the sun and the moon, it throws shadow on the moon and:

جب زمین، سورج اور چاند کے درمیان آجاتی ہے تو یہ اپنا سایہ چاند پر ڈالتی ہے جس کے نتیجے میں:

- (a) Galaxy is formed گلیکسی بنتی ہے
(b) Solar eclipse is formed سورج گرہن لگتا ہے
(c) Lunar eclipse is formed چاند گرہن لگتا ہے
(d) Clouds are formed بادل بنتے ہیں

18. The most important property of light is that it:

روشنی کی سب سے خاص خصوصیت ہے:

- (a) travels in straight line خط مستقیم میں حرکت
(b) travels in zigzag manner زگ زگ میں حرکت
(c) travels in perpendicular direction عمودی سمت میں حرکت
(d) travels in parallel direction متوازی سمت میں حرکت

19. Which of the following is a NON-electromagnetic device?

- (a) Electric Bell برقی گھنٹی (b) Electric Fan برقی پنکھا
(c) Bulb بلب (d) Washing machine واشنگ مشین

20. Electric current means the flow of free _____ in a conductor.

برقی کرنٹ کا مطلب ایک موصل میں آزاد _____ کا بہاؤ ہے۔

- (a) Neutrons نیوٹرانز (b) Protons پروٹونز
(c) Photons فوٹونز (d) Electrons الیکٹرونز

21. Which one of the following is an example of static discharge?

درج ذیل میں سے ساکن برقی ڈسچارج کی مثال کون سی ہے؟

- (a) Rain بارش (b) Earth quack زلزلہ
(c) Volcanoes آتش فشاں (d) Lightning آسمانی بجلی

22. Which of the following component is used as switch in an electric circuit?

درج ذیل میں سے کون سا جز الیکٹرک سرکٹ میں سوئچ کے طور پر استعمال ہوتا ہے؟

- (a) Fuse فیوز (b) Key کی
(c) Wire تار (d) Battery بیٹری

23. The planet which is nearest to the sun in planetary system is:

نظام شمسی میں سیارہ جو سورج کے قریب ترین ہے:

- (a) Mercury عطارد (b) Venus زہرہ
(c) Earth زمین (d) Mars مریخ

24. Which one remains stationary from the following?

مندرجہ ذیل میں سے کون سا جسم ساکن رہتا ہے؟

- (a) Sun سورج (b) Earth زمین
(c) Mars مریخ (d) Jupiter مشتری

25. The Sun is a:

سورج ایک _____ ہے۔

- (a) Star ستارہ (b) Planet سیارہ
(c) Comet مدد ستارہ (d) Meteoroid میٹیرائیڈ

School Based Assessment 2021

School Name (EMIS code): _____

Tehsil: _____ District: _____

Student Name: _____ Section: _____

Roll Number: _____ Date: _____

General Instructions:

طلبہ کے لیے عمومی ہدایات:

(1) Read carefully and attempt all questions.

غور سے پڑھیں اور تمام سوالات حل کریں۔

(2) Encircle the correct option of each of the Multiple Choice Questions (MCQs) as shown in the example given below.

ہر کثیر الانتخابی سوال کے صحیح جواب پر دائرہ لگائیں جیسا کہ نیچے دی گئی مثال میں دکھایا گیا ہے۔

Example: Which country is located in the north of Pakistan?

مثال: پاکستان کے شمال میں کون سا ملک واقع ہے؟

- (a) India بھارت (b) Afghanistan افغانستان (c) China چین (d) Iran ایران

(3) Use black/blue ink for writing. Use of lead pencil is not allowed.

لکھنے کے لیے کالی/نیلی روشنائی کا استعمال کریں۔ کچی پنسل کے استعمال کی اجازت نہیں ہے۔

(4) If more than one options are encircled in a question, no mark will be given.

اگر کسی سوال میں ایک سے زیادہ جوابات کے گرد دائرہ لگایا گیا تو کوئی نمبر نہیں دیا جائے گا۔

Total Marks: 50

(Multiple Choice Questions)

Total Time: 1 Hour

Instructions: Twenty five (25) Multiple Choice Questions (MCQs) are given in this part. Each question carries two marks.

ہدایات: اس حصہ میں پچیس (25) کثیر الانتخابی سوالات دیے گئے ہیں۔ ہر سوال کے دو نمبر ہیں۔

1. A representation of the features of an area of the earth on a plain surface according to a scale is called a:

زمین کے کسی خاص حصے کو کسی ہموار سطح پر پیمانے کے مطابق منتقل کرنا کہلاتا ہے:

- (a) Globe گلوب (b) Land زمین
(c) Sea سمندر (d) Map نقشہ

2. Types of Maps are:

نقشوں کی اقسام ہیں:

- (a) two دو (b) three تین
(c) four چار (d) five پانچ

3. In how many time zones, world's time is divided by longitude?

طول بلد کے لحاظ سے دنیا کا وقت کتنے ٹائم زون میں تقسیم کیا جاتا ہے؟

- (a) 12 time zones 12 ٹائم زون میں
(b) 16 time zones 16 ٹائم زون میں
(c) 24 time zones 24 ٹائم زون میں
(d) 36 time zones 36 ٹائم زون میں

4. How many continents are there in the world?

دنیا میں کتنے براعظم ہیں؟

- (a) Two دو (b) Five پانچ
(c) Seven سات (d) Eight آٹھ

5. Which valley is located between the mountains of Karakoram?

قراقرم کے پہاڑوں کے درمیان کون سی وادی ہے؟

- (a) Mansehra valley مانسہرہ کی (b) Jehlum valley جہلم کی
(c) Gilgit valley گلگت کی (d) Ladakh valley لداخ کی

6. The Karakoram Highway was built between two countries:

”شاہراہ قراقرم“ دو ملکوں کے درمیان تعمیر کی گئی:

- (a) Pakistan and Afghanistan پاکستان اور افغانستان
(b) Pakistan and China پاکستان اور چین
(c) Pakistan and Iran پاکستان اور ایران
(d) Pakistan and Saudi Arabia پاکستان اور سعودی عرب

7. By using gas instead of petrol in vehicles, we can reduce:

گاڑیوں میں پٹرول کی بجائے گیس استعمال کرنے سے ہم کم کر سکتے ہیں:

- (a) Pollution آلودگی (b) Population آبادی
(c) Time وقت (d) Petrol پٹرول

8. Allama Muhammad Iqbal delivered the sermon of Allahabad:

علامہ محمد اقبال نے خطبہ الہ آباد دیا:

- (a) 1919 انیس سو انیس (b) 1923 انیس سو بیس
(c) 1930 انیس سو تیس (d) 1932 انیس سو پچیس

9. The government and rule of the army is called.

فوج کی حکومت اور اقتدار کو کہتے ہیں:

- (a) Martial law مارشل لاء
(b) Public government عوامی حکومت
(c) Two person government دو افراد کی حکومت
(d) Anarchy بادشاہت

10. In which election, All India Muslim League defeated all the opposition political parties?

کن انتخابات میں آل انڈیا مسلم لیگ نے تمام مخالف سیاسی پارٹیوں کو شکست دی؟

- (a) 1919 انیس سو انیس (b) 1927 انیس سو ستائیس
(c) 1937 انیس سو تینتیس (d) 1945,46 انیس سو پچاس چھیالیس

11. The Lucknow Pact was settled in:

معاهدہ لکھنؤ طے پایا:

- (a) 1905 انیس سو پانچ (b) 1911 انیس سو گیارہ
(c) 1916 انیس سو سولہ (d) 1919 انیس سو انیس

12. The basic reason for the demand of separate homeland for the Muslims was:

مسلمانوں کے لیے الگ وطن بنانے کے مطالبے کی بنیادی وجہ تھی:

- (a) to follow customs and rituals رسم و رواج کی پیروی کرنا
(b) to get lands زمینوں کا حصول
(c) to form Islamic Government اسلامی حکومت بنانا
(d) to get Government jobs. سرکاری نوکریاں حاصل کرنا

13. The highest court of Pakistan is:

پاکستان کی سب سے اعلیٰ عدالت ہے:

- (a) Supreme Court سپریم کورٹ
(b) High Court ہائی کورٹ
(c) Session Court سیشن کورٹ
(d) Federal shariyat Court وفاقی شرعی عدالت

14. An institution which decides according to the law is called:

ایسا ادارہ جو قانون کے مطابق فیصلہ کرے کہلاتا ہے:

- (a) Judiciary عدلیہ (b) Legislature مقننہ
(c) Administration انتظامیہ (d) Tribe قبیلہ

15. What is the concept of administration in Islam?

اسلام میں انتظامیہ کا تصور کیا ہے؟

- (a) Justice, discourage minorities, peace انصاف، اقلیتوں کی حوصلہ شکنی، امن
(b) Peace, Justice, equality امن، انصاف، مساوات
(c) Justice, inequality, peace انصاف، عدم مساوات، امن
(d) Brotherhood, peace, favour of majority بھائی چارہ، امن، اکثریت کو نوازنا

16. Computers are an important invention of which century?

کمپیوٹر کس صدی کی اہم ایجاد ہے؟

- (a) Nineteenth انیسویں (b) Twentieth بیسویں
(c) Twenty one اکیسویں (d) Eighteenth اٹھارویں

17. Television informs about: ٹیلی ویژن باخبر رکھتا ہے:

- (a) Accidents only صرف حادثات سے
(b) Jokes only صرف لطیفوں سے
(c) Excursion only صرف سیر و تفریح سے
(d) World events دنیا میں رونما ہونے والے واقعات سے

18. Fairs are held in rural areas:

دیہاتی علاقوں میں میلوں کا انعقاد ہوتا ہے:

- (a) before crop grows فصل اگانے سے پہلے
(b) after the crop grows فصل اگانے کے بعد
(c) before harvesting of crops فصل کٹائی سے پہلے
(d) after harvesting of crops فصل کٹائی کے بعد

19. Punjab province is ranked in terms of population

پنجاب آبادی کے لحاظ سے ملک کا صوبہ ہے:

- (a) first پہلا (b) second دوسرا
(c) third تیسرا (d) fourth چوتھا

20. Eid-ul-Azha is the time of ziarat for the Hajj pilgrimage to:

- عید الاضحیٰ حجاج کے لیے وقت ہے زیارت کا: (a) Egypt مصر کی
(b) Makkah مکہ کی
(c) Iraq عراق کی (d) Iran ایران کی

21. The Muslim observe fast during the month of:

مسلمان روزہ رکھتے ہیں۔ ماہ:

- (a) Muharram محرم (b) Shaban شعبان
(c) Ramazan رمضان (d) Safar صفر

22. The festival of lights of the Hindu community is:

- ہندوؤں کا روشنوں کا تہوار ہے: (a) Diwali دیوالی
(b) Holi ہولی
(c) Christmas کرسمس (d) Basant بسنت

23. The famous city for Sohan Halwa is:

سوہن حلوے کے لیے مشہور شہر ہے:

- (a) Lahore لاہور (b) Multan ملتان
(c) Sahwan sahref سہون شریف (d) Bhat Shah بھٹ شاہ

24. The main source of earning foreign exchange is:

- زر مبادلہ کمانے کا اہم ذریعہ ہے: (a) exports برآمدات
(b) imports درآمدات
(c) industry صنعت (d) agriculture زراعت

25. Public goods mean all those goods which come under the control of:

سرکاری اشیاء سے مراد وہ تمام اشیاء ہیں جن پر کنٹرول ہوتا ہے:

- (a) The common people عام لوگوں کا
(b) The Government حکومت کا
(c) The traders تاجروں کا
(d) The farmers کسانوں کا

School Based Assessment 2021

School Name (EMIS code): _____

Tehsil: _____ District: _____

Student Name: _____ Section: _____

Roll Number: _____ Date: _____

General Instructions:

طلبہ کے لیے عمومی ہدایات:

(1) Read carefully and attempt all questions.

غور سے پڑھیں اور تمام سوالات حل کریں۔

(2) Encircle the correct option of each of the Multiple Choice Questions (MCQs) as shown in the example given below.

ہر کثیر الانتخابی سوال کے صحیح جواب پر دائرہ لگائیں جیسا کہ نیچے دی گئی مثال میں دکھایا گیا ہے۔

Example: Which country is located in the north of Pakistan?

مثال: پاکستان کے شمال میں کون سا ملک واقع ہے؟

- (a) India بھارت (b) Afghanistan افغانستان (c) China چین (d) Iran ایران

(3) Use black/blue ink for writing. Use of lead pencil is not allowed.

لکھنے کے لیے کالی/ نیلی روشنائی کا استعمال کریں۔ کچی پنسل کے استعمال کی اجازت نہیں ہے۔

(4) If more than one options are encircled in a question, no mark will be given.

اگر کسی سوال میں ایک سے زیادہ جوابات کے گرد دائرہ لگایا گیا تو کوئی نمبر نہیں دیا جائے گا۔

Total Marks: 50

(Multiple Choice Questions)

Total Time: 1 Hour

Instructions: Twenty five (25) Multiple Choice Questions (MCQs) are given in this part. Each question carries two marks.

ہدایات: اس حصہ میں پچیس (25) کثیر الانتخابی سوالات دیے گئے ہیں۔ ہر سوال کے دو نمبر ہیں۔

1. The equator represents the zero degree from:

خط استوا صفر درجہ ہے:

- (a) pole قطبین سے (b) axis محور سے
(c) latitudes طول بلد سے (d) center of pole قطبین کے درمیان سے

2. Globe is the model of:

گلوب ماڈل ہے:

- (a) Sun سورج کا (b) Earth زمین کا
(c) Stars ستارے کا (d) Moon چاند کا

3. The correct list of Pakistan's neighboring countries is:

پاکستان کے ہمسایہ ملکوں کی درست فہرست ہے:

- (a) India, China, Iran بھارت، چین، ایران
(b) Afghanistan, Russia, Bangladesh افغانستان، روس، بنگلہ دیش
(c) China, India, Saudia Arabia چین، بھارت، سعودی عرب
(d) China, Srilanka, Iran چین، سری لنکا، ایران

4. Which country is located in the east of Pakistan?

پاکستان کے مشرق میں کون سا ملک واقع ہے؟

- (a) India بھارت (b) China چین
(c) Afghanistan افغانستان (d) Iran ایران

5. Murree is located in the mountain range of:

مری پہاڑی سلسلہ میں واقع ہے:

- (a) Karakoram قراقرم (b) Hindu Kush ہندوکش
(c) Himalaya ہمالیہ (d) Salt Hills کوہستان نمک

6. An area of a lower height than mountain with uneven surface is called:

پہاڑ سے کم بلندی اور غیر ہموار علاقہ کہلاتا ہے:

- (a) plain میدان (b) plateau سطح مرتفع
(c) desert صحرا (d) coast ساحل

7. Where the highest rainfall is recorded due to monsoon?

موسون کی وجہ سے کہاں سب سے زیادہ بارش ریکارڈ کی جاتی ہے؟

- (a) Gilgit گلگت (b) Karachi کراچی
(c) Murree مری (d) Lahore لاہور

8. Name the city, where the foundation of All India Muslim League was laid?

اس شہر کا نام بتائیں جہاں آل انڈیا مسلم لیگ کی بنیاد رکھی گئی:

- (a) In Dhaka ڈھاکہ میں (b) In Shimla شملہ میں
(c) In Lahore لاہور میں (d) In Allahabad الہ آباد میں

9. The moon revolves around the earth in a month:

چاند زمین کے گرد ایک ماہ میں چکر لگاتا ہے:

- (a) one time ایک بار (b) two time دو بار
(c) three time تین بار (d) four time چار بار

10. Main difference between the Hindus and the Muslims which laid the foundation for the creation of Pakistan was:

ہندوؤں اور مسلمانوں کے درمیان وہ بنیادی فرق جو قیام پاکستان کا سبب بنا اس کی نوعیت تھی:

- (a) Social معاشرتی (b) Religious مذہبی
(c) Economical معاشی (d) Political سیاسی

11. In 1930, Allama Muhammad Iqbal delivered a historical sermon at:

1930 میں علامہ محمد اقبال نے تاریخی خطبہ دیا:

- (a) Lahore لاہور (b) Allahabad الہ آباد
(c) Lucknow لکھنؤ (d) Karachi کراچی

12. The most important reason behind the creation of Pakistan was:

تخلیق پاکستان کا سب سے اہم سبب تھا:

- (a) Religious conflicts مذہبی تنازعات
(b) Urdu Hindi conflict اردو ہندی تنازعہ
(c) Attitude of British انگریزوں کے رویے
(d) Cruelties of Hindus ہندوؤں کے مظالم

13. A set of rules and regulations is called:

قواعد و ضوابط کے مجموعے کو کہتے ہیں:

- (a) Law قانون (b) Constitution آئین
(c) Federation وفاق (d) Parliament پارلیمنٹ

14. Each province has number of members in senate:

ہر صوبے کے لیے سینٹ کے ممبران کی تعداد ہوتی ہے:

- (a) One fold ایک گنا (b) Double دو گنا
(c) Three fold تین گنا (d) Equal برابر

15. The main hurdles in the way of progress of Pakistan are:

پاکستان کی ترقی کی راہ میں بڑی رکاوٹیں ہیں:

- (a) poverty, illiteracy غربت اور ناخواندگی
(b) loans, lack of self-reliance قرضہ، خود اعتمادی کی کمی
(c) pollution, shortage of Land آلودگی، زمین کی کمی
(d) all of above مندرجہ بالا تمام

16. The fastest source of information is:

تیز ترین ذریعہ ابلاغ ہے:

- (a) Internet انٹرنیٹ (b) Television ٹیلی ویژن
(c) Postal services پوسٹل سروسز (d) Radio ریڈیو

17. A means of communication will be more useful if it is:

ذرائع ابلاغ زیادہ مفید ہوں گے اگر وہ ہیں:

- (a) slow and cheap سست اور سستا
(b) fast and costly تیز رفتار اور مہنگا
(c) cheap and fast سستا اور تیز رفتار
(d) beautiful and cheap خوبصورت اور سستا

18. Living together of the people and showing their recognition under specific customs is:

لوگوں کا مل جل کر رہنا اور مخصوص رسم و رواج کے تحت اپنی پہچان کروانا ہے:

- (a) civilization تہذیب (b) culture ثقافت
(c) language زبان (d) caste ذات

19. 6th September is our:

6 ستمبر ہمارا ہے:

- (a) Pakistan Day یوم پاکستان (b) Labour Day یوم مزدور
(c) Independence Day یوم آزادی (d) Defense Day یوم دفاع

20. We celebrate the urs of Hazrat Data Ganj Baksh (R.A) every year at:

ہم ہر سال حضرت داتا گنج بخش رحمۃ اللہ علیہ کا عرس مناتے ہیں:

- (a) Lahore لاہور
(b) Multan ملتان
(c) Sahwan sahref سیہون شریف
(d) Bhat Shah بھٹ شاہ

21. The reason of the people of Khyber Pakhtun khwa for their bright chapter in history for their:

خیبر پختونخواہ کے لوگوں کی تاریخ کے روشن باب کی وجہ ہے، ان کی:

- (a) bravery بہادری (b) cowardice بزدلی
(c) sympathy ہمدردی (d) bravery and sacrifice بہادری اور قربانی

22. 25th December is the birthday of our which national leader?

25 دسمبر ہمارے کس قومی رہنما کی سالگرہ کا دن ہے؟

- (a) Allama Muhammad Iqbal علامہ محمد اقبال
(b) Liaqat Ali Khan لیاقت علی خان
(c) Quaid-i-Azam Muhammad Ali Jinnah قائد اعظم محمد علی جناح
(d) Ch Rahmat Ali چوہدری رحمت علی

23. The Muslims celebrated on 10th day of Zilhij:

مسلمان دس ذوالحجہ کے دن مناتے ہیں:

- (a) Eid-ul-Fitr عید الفطر
(b) Eid-milad-ul-Nabi عید میلاد النبی
(c) Eid-ul-Azha عید الاضحیٰ
(d) Shab-e-Miraj شب معراج

24. When the lack of resources are hindrance in the way of economic development, then to run the administration, the government gets:

وسائل کی قلت جب معاشی ترقی کی راہ میں حائل ہو تو حکومت نظم و نسق چلانے کے لیے حاصل کرتی ہے:

- (a) Zakat زکوٰۃ (b) foreign loans بیرونی قرضے
(c) Interest سود (d) charity صدقات

25. Which controls the imports and exports of Government of Pakistan?

حکومت پاکستان کی برآمدات اور درآمدات کون کنٹرول کرتا ہے؟

- (a) The Bank of Punjab دی بنک آف پنجاب
(b) State Bank of Pakistan سٹیٹ بنک آف پاکستان
(c) National Bank of Pakistan نیشنل بنک آف پاکستان
(d) Baking Council of Pakistan پاکستان بکنگ کونسل

School Based Assessment 2021

School Name (EMIS code): _____

Tehsil: _____ District: _____

Student Name: _____ Section: _____

Roll Number: _____ Date: _____

عمومی ہدایات: (1) ماسک پہنیں اور آپس میں کم از کم 3 فٹ کا فاصلہ رکھیں۔

(2) غور سے پڑھیں اور ہر سوال کا جواب دیں۔

(3) ہر کثیر الانتخابی سوال کے صحیح جواب پر دائرہ لگائیں جیسا کہ مثال میں دکھایا گیا ہے۔

کاگو [D]

(C) ڈینگلی

(A) پولیو (B) خسرہ

مثال: چیچر کی وجہ سے پھیلنے والی بیماری ہے: (4) اگر کسی سوال میں ایک سے زیادہ جوابات کے گرد دائرہ لگایا گیا تو کوئی نمبر نہیں دیا جائے گا۔

کل نمبر: 50

کثیر الانتخابی سوالات

وقت: 1 گھنٹہ

1. "سیکھنا" فعل سے بننے والا فاعل ہے:
- (A) سیکھنے والا (B) سکھایا ہوا
(C) سکھاتا ہے (D) سکھانے والا
2. لغت کے لحاظ سے الفاظ کی درست ترتیب ہے:
- (A) حمد، خام، دام، شام (B)
زحمت، ہمت، حمد، نعت
(C) وطن، ہندی، حمد، رحمت (D)
حمد، دولت، ترازو، وطن
3. "عیار" کا معنی ہے "معیار"، جب کہ "عمیار" کا معنی ہے:
- (A) چال باز (B) نیک
(C) سچا (D) غریب
4. "لکھنا" مصدر سے بننے والا فعل حال کا جملہ ہے:
- (A) ہم خط لکھیں گے۔ (B) ہم لکھتے ہیں۔
(C) ہم لکھ رہے تھے۔ (D) ہم نے لکھا تھا۔
5. حروف تہجین کے استعمال والا جملہ ہے:
- (A) افسوس! ہم بیچ ہار گئے۔ (B) اُف! بھلا یہ کیا بات ہے۔
(C) ارے بھائی! میری بات تو سُو۔ (D) واہ! کیا خوبصورت شعر ہے۔
6. فعل مستقبل کے لحاظ سے درست جملہ ہوگا:
- (A) بلی نے دودھ پیا۔ (B) بلی دودھ پیتی ہے۔
(C) بلی دودھ پیے گی۔ (D) بلی دودھ پی رہی تھی۔
7. خالی جگہ پر کرنے کے لیے درست جواب کی نشان دہی کریں:
- "پنجابی پاکستان کی۔۔۔۔۔ زبان ہے۔"
- (A) سرکاری (B) مذہبی
(C) قومی (D) صوبائی
8. "شفیق" کا معنی ہے:
- (A) ہدایت دینے والا (B) حفاظت کرنے والا
(C) شفقت کرنے والا (D) ہمیشہ رہنے والا
9. "سلمیٰ بنک میں کام کرتی ہے۔" فعل مستقبل کے مطابق یہ جملہ ہوگا۔
- (A) سلمیٰ بنک میں کام کیا کرتی تھی۔ (B) سلمیٰ بنک میں کام کر چکی ہے۔
(C) سلمیٰ بنک میں کام کرے گی۔ (D) سلمیٰ بنک میں کام کرتی رہی تھی۔
10. علامت فجائیہ کے درست استعمال والا جملہ ہے:
- (A) میرے ہم وطنو! ہم مسلمان ہیں۔ (B) وہ کیا خوبصورت شعر ہے۔
(C) شاہابش، سبحان اللہ (D) پاکستان زندہ باد
11. لفظ "حب" کا معنی "گولی" جب کہ لفظ "حب" کا معنی ہے:
- (A) محبت (B) امانت
(C) صداقت (D) شرارت
12. لغت کے لحاظ سے الفاظ کی درست ترتیب ہے:
- (A) چاپ، مذکر، نفرت، وطن (B) لالچ، ناچ، چاند، چاہا
(C) لالچ، چاہت، تہذیب، حمد، نعت (D) حمد، دام، خام، شام

13. ”مارنا“ فعل سے بننے والا مفعول ہے:

- (A) مارتا ہوا
(B) مارنے والا
(C) مار کھانے والا
(D) اس نے مارا

14. حروف استعجاب کے درست استعمال والا جملہ ہے:

- (A) افسوس! آج ٹرین وقت پر پہنچ گئی۔ (B) واہ! آج ٹرین وقت پر پہنچ گئی۔
(C) تعجب ہے! آج ٹرین وقت پر پہنچ گئی۔ (D) آہ! آج ٹرین وقت پر پہنچ گئی۔

15. خیال کی ردیف وار ترتیب ہے:

- (A) محرم، خیال، سوچ، فکر
(B) خیال، لگان، نادان، نامحرم
(C) خیال، یاد، فرض، رقم
(D) عرض، ظاہر، خیال، درخت

پیرا گراف حصہ دوم

☆ مندرجہ ذیل عبارت پڑھ کر سوالات نمبر 16، 17، 18، 19 اور 20 کے جوابات دیں۔
پرندے، جانور اور حشرات الارض بھی نظم و ضبط کا خیال رکھتے ہیں۔ دن بھر دانہ دنگا چکنے کے بعد جب پرندے شام کو واپس اپنے گھونسلوں میں جاتے ہیں تو وہ ایک خاص ترتیب سے اڑتے ہیں۔ شہد کی مکھیوں کی زندگی کا مطالعہ کریں تو ہمیں معلوم ہوتا ہے کہ اس ننھی مخلوق کی زندگی کس قدر منظم اور باقاعدہ ہے۔ چیونٹی اگرچہ کمزور مخلوق ہے مگر کبھی قطار سے باہر چلتی نظر نہیں آتی۔ اونٹ صحرا میں بڑے نظم و ضبط سے چلتے ہیں۔ ہمارا دین بھی ہمیں نظم و ضبط کا درس دیتا ہے۔ نماز اور روزہ اس کی بہترین مثالیں ہیں۔

16. عبارت کے مطابق کمزور مخلوق ہے:

- (A) ہرن
(B) بکرا
(C) چیونٹی
(D) سانپ

17. اونٹ۔۔۔۔۔ میں بڑے نظم و ضبط سے چلتے ہیں۔

- (A) کھیت
(B) جنگل
(C) صحرا
(D) باغ

18. عبارت میں کتنی مخلوقات کا ذکر ہے؟

- (A) دو
(B) تین
(C) چھ
(D) آٹھ

19. عبارت کا موزوں عنوان ہے:

- (A) نماز اور روزہ
(B) چیونٹی اور مکھی
(C) قطار در قطار
(D) نظم و ضبط

20. اس جملے میں ”حشرات الارض“ سے مراد ہے:

- (A) چیونٹی
(B) مکھی
(C) مکڑا
(D) اونٹ

پیرا گراف

☆ مندرجہ ذیل عبارت پڑھ کر سوالات نمبر 21، 22، 23، 24 اور 25 کے جوابات دیں۔

کو اواحد پرندہ ہے جو عقاب کو تنگ کرتا ہے۔ یہ پرندوں کے بادشاہ عقاب کی پشت پر بیٹھ جاتا ہے اور اپنی چونچ سے اس کی گردن کاٹتا ہے۔ جبکہ کوے سے زیادہ طاقتور کوے کا مقابلہ کرنے میں اپنی طاقت اور وقت صرف نہیں کرتا، بلکہ وہ اپنے پر کھولتا اور آسمان کی طرف اونچی اڑان بھرنا شروع کر دیتا ہے۔ عقاب کی پرواز جتنی بلند ہوتی جاتی ہے، کوے کی اڑان اتنی مشکل ہوتی جاتی ہے اور بالآخر وہ آکسیجن کی کمی کی وجہ سے گر جاتا ہے۔ آج سے آپ ان لوگوں کی وجہ سے پریشان ہونا چھوڑ دیں جو آپ کی پیٹھ پیچھے باتیں کرتے ہیں۔ آپ کی پرواز کے سامنے آسمان کھلا ہوا ہے۔ اپنی اڑان کو خدا کے بھروسے سے اونچا کرتے جائیں تو بہت سی رکاوٹیں خود ہی دور ہوتی جائیں گی۔ اپنی طاقت عقاب کی مانند مثبت کاموں میں استعمال کریں۔ اپنی پرواز کی قوت جان لیجئے۔ یہی کامیابی کا راز ہے۔

21. پیرا گراف کی رو سے پرندوں کا بادشاہ ہے:

- (A) عقاب
(B) کوا
(C) طوطا
(D) کبوتر

22. لفظ ”مثبت“ کا متضاد ہے:

- (A) نفرت
(B) منفی
(C) محبت
(D) حسرت

23. پیرا گراف کی رو سے کامیابی کا راز ہے:

- (A) طاقت کا منفی استعمال
(B) طاقت کا مثبت استعمال
(C) طاقت کا غلط استعمال
(D) طاقت کا زیادہ استعمال

24. پیرا گراف کی رو سے کوے کے گرنے کی وجہ۔۔۔۔۔ کی کمی ہے۔

- (A) خوراک
(B) روشنی
(C) آکسیجن
(D) پانی

25. آکسیجن کی کمی کی وجہ سے کوے کو کیا مسئلہ درپیش آتا ہے۔

- (A) نظر نہ آنا
(B) سانس لینے میں دشواری
(C) پیٹ میں درد
(D) پروں کا ٹوٹنا

School Based Assessment 2021

School Name (EMIS code): _____

Tehsil: _____ District: _____

Student Name: _____ Section: _____

Roll Number: _____ Date: _____

عمومی ہدایات: (1) ماسک پہنیں اور آپس میں کم از کم 3 فٹ کا فاصلہ رکھیں۔

(2) غور سے پڑھیں اور ہر سوال کا جواب دیں۔

(3) ہر کثیر الانتخابی سوال کے صحیح جواب پر دائرہ لگائیں جیسا کہ مثال میں دکھایا گیا ہے۔

مثال: چچر کی وجہ سے پھیننے والی بیماری ہے: (A) پولیو (B) خسرہ (C) ڈینگی (D) کانگو

(4) اگر کسی سوال میں ایک سے زیادہ جوابات کے گرد دائرہ لگایا گیا تو کوئی نمبر نہیں دیا جائے گا۔

کل نمبر: 50

کثیر الانتخابی سوالات

وقت: 1 گھنٹہ

7. خالی جگہ پر کرنے کے لیے درست جواب کی نشان دہی کریں:

خوش اخلاقی۔۔۔۔۔ عادت ہے۔

(A) اچھی (B) مہنگی

(C) بری (D) عام

8. "مقدس" کے معنی ہیں:

(A) احترام (B) نفرت

(C) پاکیزہ (D) اردو

9. "صبا بازار جاتی تھی" فعل حال کے لحاظ سے درست جملہ ہوگا۔

(A) صبا بازار گئی۔ (B) صبا بازار جا چکی تھی۔

(C) صبا بازار جاتی ہوگی۔ (D) صبا بازار جاتی ہے۔

10. علامت نجائیہ کے درست استعمال والا جملہ ہے:

(A) میرے دوستو! ہم کو متحد ہونا ہوگا۔ (B) میرے دوستو؟ ہم کو متحد ہونا ہوگا۔

(C) سبحان اللہ، آج کھانا بہت لذیذ ہے۔ (D) سبحان اللہ، آج موسم بہت پیارا ہے۔

11. لفظ "دھاز" کا معنی ہے، گروہ، جب کہ "دہاز" کا معنی ہے:

(A) شیر کی گرج (B) بلی کی آواز

(C) پرندوں کی آواز (D) گائے کی آواز

12. لغت کے لحاظ سے الفاظ کی درست ترتیب ہے:

(A) ترازو، حمد، دولت، وطن (B) وطن، ندی، حمد، رحمت

(C) زحمت، ہمت، حمد (D) لالچ، چاہت، تہذیب، بقا

1. "چھیننا" سے بننے والا فاعل ہے:

(A) چھیننے والا (B) چھینا گیا

(C) چھینا ہوا (D) چھینتے ہوئے

2. لغت کے لحاظ سے الفاظ کی درست ترتیب ہے:

(A) لالچ، چاہت، تہذیب، بقا (B) بقا، لالچ، چاہت، تہذیب

(C) لالچ، مانج، چاند، چابا (D) چاب، مذکر، نفرت، وطن

3. "دُم" جانور کی پونچھ کو کہتے ہیں جب کہ "دَم" کا معنی ہے:

(A) اچانک (B) دوسرا

(C) سانس (D) قیمت

4. "لانا" مصدر سے بننے والا فعل ماضی کا جملہ ہے:

(A) وہ پھل لارہا ہے۔ (B) وہ پھل لایا تھا۔

(C) وہ پھل لینے آئے گا۔ (D) وہ پھل لاتا ہے۔

5. حروف ندائیہ کے استعمال والا جملہ ہے:

(A) افسوس! تم نے بھی ساتھ نہ دیا۔ (B) اُف! آج ہم بہت تھک گئے۔

(C) اجی! ذرا میری مدد تو کیجیے گا۔ (D) واہ واہ! ہم بیچ جیت گئے۔

6. فعل حال کے لحاظ سے درست جملہ ہوگا:

(A) بارش ہو رہی تھی۔ (B) بارش ہوتی ہے۔

(C) بارش ہوگی۔ (D) بارش ہوئی۔

13. "قتل کرنا"، فعل سے بننے والا مفعول ہے:

- (A) قاتل
(B) مقتول
(C) مقتل
(D) قتل

14. حروف ندا کے درست استعمال والا جملہ ہے:

- (A) ارے! بھائی بات تو سنو۔
(B) افسوس! بھائی بات تو سنو۔
(C) واہ واہ! بھائی بات تو سنو۔
(D) فارغ ہو کر میری بات سنو۔

15. فوقیت کی ردیف وار ترتیب ہوگی:

- (A) فوقیت، نالائق، قائم، قاتل
(B) فوقیت، فائدہ، فہم، فضول
(C) فوقیت، تابندہ، ہمت، تائب
(D) فوقیت، طاقت، قائم، ملتان

حصہ دوم

پیرا گراف

☆ مندرجہ ذیل عبارت پڑھ کر سوالات نمبر 16، 17، 18، 19 اور 20 کے جوابات دیں۔

ڈینگی بخار ایک مخصوص وائرس کی وجہ سے ہوتا ہے۔ ایک خاص قسم کا مچھر اس وائرس کے پھیلنے کا سبب بنتا ہے۔ اس خاص مچھر کے جسم پر سفید رنگ کے چھوٹے چھوٹے نشان ہوتے ہیں۔ یہ مچھر صبح اور شام کے دو تین گھنٹے کے دورانے میں کاٹتا ہے۔ اس کے کاٹنے سے انسان مہلک قسم کی بیماری میں مبتلا ہو سکتا ہے۔ ڈینگی مرض کی ابتدائی علامات میں شدید سردرد، نزلہ، سردی اور تیز بخار شامل ہیں۔ ڈینگی بخار کی علامات ظاہر ہونے پر مریض کو پھولوں وغیرہ کے مشروبات پلائیں اور کسی مستند ڈاکٹر سے فوری طور پر رجوع کریں کیونکہ ڈینگی بخار کی صورت میں ٹونے ٹونے خطرناک ہوتے ہیں۔ اس مرض کی تشخیص خون کے ٹیسٹ سے کی جاتی ہے۔ بروقت علاج سے اس مرض سے مکمل نجات مل سکتی ہے۔ ہمیں چاہیے کہ کہیں بلاوجہ پانی ذخیرہ نہ ہونے دیں تاکہ مچھر پیدا نہ ہو سکے۔

16. ڈینگی ایک خاص قسم کا ----- ہے۔

- (A) بیکٹیریا
(B) وائرس
(C) فنجائی
(D) الجی

17. ڈینگی مچھر کی پیمان ہے اس کے جسم پر ----- ہوتے ہیں۔

- (A) سرخ نشان
(B) سیاہ نشان
(C) سبز نشان
(D) سفید نشان

18. ڈینگی بخار کی ابتدائی علامت ہے:

- (A) شدید سردرد
(B) کھانسی
(C) خارش
(D) گرمی

19. ڈینگی وائرس کی تشخیص کے لیے کرتے ہیں:

- (A) معدے کا ٹیسٹ
(B) خون کا ٹیسٹ
(C) جلد کا ٹیسٹ
(D) پٹھوں کا ٹیسٹ

20. اس عبارت کا مناسب عنوان ہے:

- (A) خاص مچھر
(B) ڈینگی وائرس
(C) مشروبات
(D) علاج معالجہ

پیرا گراف

☆ مندرجہ ذیل عبارت پڑھ کر سوالات نمبر 21، 22، 23، 24 اور 25 کے جوابات دیں۔

اللہ تعالیٰ نے زمین پیدا کی۔ اس میں انسان کے لیے بے شمار فائدے رکھے۔ مثال کے طور پر یہ کہ اسے انسانی رہائش کے قابل بنایا۔ اس کے سینے میں معدنیات کی دولت رکھی۔ اس کے اندر پھل، پھول، غلے اور میوے پیدا کرنے کی صلاحیت پیدا فرمائی۔ کہیں اس کو ٹھوس بنایا اور کہیں نرم رکھا تاکہ انسان اس کے نرم حصے پر کھیتیاں اگا سکے، درخت لگا سکے، پانی نکال سکے۔ اسے اس قابل بنایا کہ آسمان سے جو پانی برسے وہ اس پر ٹپھر سکے۔ اس میں پانی ذخیرہ کرنے کی صلاحیت رکھی۔ نہریں، دریا، چشمے اور پانی کے دوسرے ذخیرے پیدا کیے۔ اس میں مختلف شکل و صورت کے جانور پیدا کیے۔ جن میں بعض کا گوشت کھایا جاتا ہے۔ بعض سواری اور بار برداری کے کام آتے ہیں۔ بعض جانوروں کے اون سے پوشاکیں تیار کی جاتی ہیں۔ بعض جانوروں کو دیکھنے اور ان کی آوازیں سننے سے دل و دماغ کو سکون ملتا ہے۔ یہ اور اس طرح کے بے شمار فوائد کی حامل یہ زمین قدرت کا تحفہ ہے۔ اب اگر ہم اس تحفے کی قدر نہ کریں اور اس کی صورت مسخ کر کے اسے تمام صلاحیتوں سے محروم کر کے خود بھی اس کے فوائد سے محروم ہو جائیں تو اس سے بڑھ کر ہماری بد قسمتی اور کیا ہوگی۔

21. پیرا گراف کی رو سے اللہ تعالیٰ نے معدنیات کی دولت ----- میں رکھی۔

- (A) ہوا
(B) پانی
(C) زمین
(D) آسمان

22. کھیتوں سے مراد ہے:

- (A) چشمے
(B) پہاڑیاں
(C) فصلیں
(D) معدنیات

23. "بار برداری" سے مراد ہے:

- (A) بوجھ اٹھانا
(B) وزن بڑھانا
(C) نسل بڑھانا
(D) دودھ دینا

24. لفظ "پوشاک" سے کیا مراد ہے؟

- (A) مال
(B) زیورات
(C) لباس
(D) خوراک

25. اس پیرا گراف کا مناسب عنوان ہے:

- (A) معدنیات
(B) پہاڑ اور چشمے
(C) اللہ تعالیٰ کی نعمتیں
(D) پھل اور سبزیاں